

تم تحميل وعرض المادة من :



موقع واجباتي

www.wajibati.net

موقع واجباتي منصة تعليمية تساهم بنشر حل المناهج الدراسية بشكل متميز لترتقي بمجال التعليم على الإنترنت ويستطيع الطلاب تصفح حلول الكتب مباشرة لجميع المراحل التعليمية المختلفة



حمل التطبيق من هنا



اسم الطالبة: رقم الجلوس:

المادة : دراسات اجتماعية					
اليوم :					
التاريخ : 1444/ 11 / هـ					
الزمن : ثلاث ساعات					
عدد الصفحات : (5)		الدرجة رقماً		الدرجة	
عدد الأسئلة : (4)		الدرجة كتابة		المستحقة	
السؤال	الدرجة رقماً	الدرجة كتابة	المصححة	المراجعة	المدققة
الأول					
الثاني					
الثالث					
الرابع					

رددي أثناء انتظارك :

- (سبحان الله و بحمده) مئة مرة .
- (لا حول و لا قوة إلا بالله) كنز من كنوز الجنة .
- (حسبي الله لا إله إلا هو عليه توكلت وهو رب العرش العظيم) سبع مرات .
- (لا إله إلا الله وحده لا شريك له و له الملك وله الحمد وهو على كل شيء قدير) مائة مرة .
- (اللهم صل وسلم على نبينا محمد) عشر مرات .
- اكثري من الاستغفار .



اسم الطالبة :

الاختبار النهائي لمادة الدراسات الاجتماعية للصف الأول الثانوي نظام المسارات
الفصل الدراسي الثالث (الدور الأول) لعام 1444 هـ

طالبتي الغالية :

استعيني بالله سبحانه وتعالى ثم اقرئي الأسئلة جيداً وأجيبني عما يأتي:

السؤال الأول: أ / أكمل الفراغات التالية بما يناسبها :

- (1) الدول الأعضاء في جامعة الدول العربية عددها دولة.
- (2) انتهت الحرب العالمية الأولى باستسلام. وانتصار دول الحلفاء على المحور.
- (3) اللغة الرسمية في الولايات المتحدة الأمريكية هي اللغة يتحدث بها 80% من السكان.
- (4) عدد الدول المشاركة في الحرب العالمية الأولى دولة.
- (5) ترتبط دول الخليج العربي بعدة روابط أبرزها روابط الدين و والثقافة .
- (6) استضافت المملكة العربية السعودية القمة العربية 29 في مدينة الظهران بالمملكة العربية السعودية عام 1439 هـ وأطلق عليها الملك سلمان حفظه الله اسم قمةتضامنا مع القضية الفلسطينية.
- (7) يضم الاتحاد الأوروبيدولة تغطي معظم أنحاء القارة.
- (8) يقع مقر منظمة التعاون الإسلامي في مدينة وتضم في عضويتها 57 دولة .

ب / صنفى المصطلحات تبعاً لتعريفاتها في الجدول التالي..

الحرب العالمية - هيئة الأمم المتحدة - سايكس بيكو - الكشوف الجغرافية - البخور - رابطة العالم الإسلامي

منظمة أنشئت بعد الحرب العالمية الثانية من أجل إقرار السلام والعدل في العالم	
اتفاقية سرية وقعت بين فرنسا وبريطانيا و روسيا على أن يتقاسموا أملاك الدولة العثمانية في العراق والشام .	
الطريق التجاري العالمي الذي كان العرب في شبه الجزيرة العربية يسيطرون عليه منذ ما قبل الإسلام	
رحلات بحرية قام بها الأوروبيين لاكتشاف مناطق جديدة في القرن الخامس عشر .	
منظمة إسلامية شعبية عالمية مقرها مكة المكرمة تعني بإيضاح حقيقة الدعوة الإسلامية .	

ج / ما النتائج المترتبة على :

❖ قيام الاتحاد الأوروبي .

.....

.....

.....

السؤال الثاني :

أ) اختاري الإجابة الصحيحة في الآتي :

1. وقعت قنبلتي هيروشيما و ناجازاكي على عام 1945 م :			
أ- اليابان	ب- الصين	ج- ألمانيا	د- تركيا
2- تشكل الولايات المتحدة القسم الأكبر من قارة :			
أ- أوروبا	ب- أمريكا الشمالية	ج- أستراليا	د- أفريقيا
3- منظمة من أهدافها تنسيق السياسة النفطية للبلدان الأعضاء وحماية مصالح الدول المنتجة للنفط :			
أ- أوبك	ب- اليونسكو	ج- اليونسيف	د. الفاو
4- المسرح الرئيسي للحرب العالمية الأولى قارة :			
أ- آسيا	ب- أستراليا	ج- أمريكا	د- أوروبا
5- أكبر دولة في العالم من حيث المساحة :			
أ- روسيا الاتحادية	ب- الصين	ج- كندا	د- الجزائر
6- اللغة الرسمية في الصين هي :			
أ- الفارسية	أ- العربية	ج- الإنجليزية	د- لغة هان

ب)

انسبي المظاهر التضاريسية التالية الى بلدانها :

قزوين – الأبلش – هاواي – الدانوب – أوب

1- جبال تقع في شرق الولايات المتحدة الأمريكية	
2- نهر ينبع من ألمانيا ويجتاز دول الاتحاد الأوروبي	
3- جزيرة في المحيط الهادي تعد أصغر الولايات في الولايات المتحدة	
4- أكبر مسطح مائي داخلي في العالم جنوب روسيا	

ج) علقى :

1. يشهد سكان الاتحاد الأوروبي نموا بطيئا مقارنة بسكان العالم .

2. تنوع المناخ والمحاصيل الزراعية في الولايات المتحدة .

السؤال الثالث :

أ) صلي العامود أ بما يناسبه من العامود ب :

ب	أ	
فاسكو دا جاما	مستشار ألمانيا وعمل على تسليح الجيش وأصبح أقوى جيش في العالم	1
أحمد بن ماجد	عقدت القمة الاستثنائية الافتراضية لدول مجموعة العشرين عام 2020 م برئاسته لتنسيق الجهود العالمية لمكافحة جائحة كورونا.	2
بلفور	استطاع أن يدور حول أفريقيا مكتشفاً طريق رأس الرجاء الصالح.	3
جيمس كوك	عالم البحار المسلم الملقب بأسد البحار استفاد منه فاسكو دي جاما في رحلته الى الهند	4
الملك سلمان حفظه الله	اعطى اليهود وعد ينص على تأسيس وطن قومي لهم في فلسطين	5
هتلر	مكتشف قارة أستراليا	6
الملك خالد رحمه الله		7

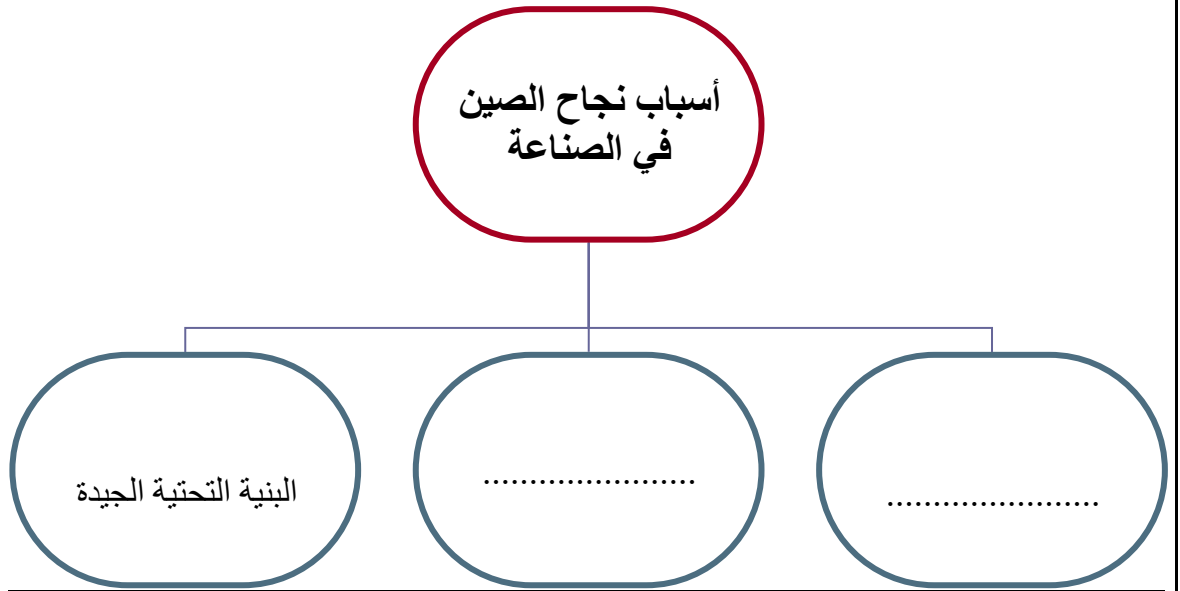
ب) أذكر نتائج الحرب العالمية الأولى (2 فقط) :

.....

.....

.....

ج / أكمل خريطة المفاهيم التالية :



أ/ ضعي علامة (✓) أمام العبارة الصحيحة وعلامة (×) أمام العبارة الخاطئة :

1. عدد الخسائر البشرية في الحرب العالمية الثانية خمسة ملايين قتيل ()
2. أكثر دول العالم اكتظاظا بالسكان الصين . ()
3. كان من نتائج الكشوف الجغرافية إثبات كروية الأرض ()
4. أنشئت الجامعة العربية قبل انشاء هيئة الأمم المتحدة بنحو ستة أشهر . ()
5. قامت الصين بإطلاق أول رائد فضاء بشري في تاريخ العالم . ()

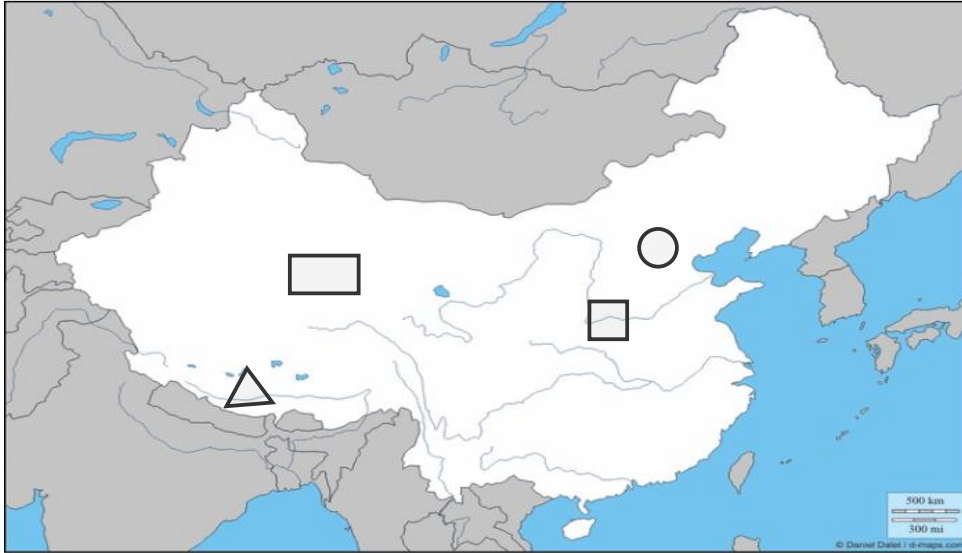
ب/ اشرحي السبب الرئيسي المباشر لقيام الحرب العالمية الأولى .

.....

.....

.....

ج) أمامك خريطة لجمهورية الصين أكتبى الرقم المناسب على الخريطة :



- 1- النهر الأصفر
- 2- هضبة التبت
- 3- العاصمة بكين
- 4- جبال الهملايا

انتهت الأسئلة .

جعلني الله وإياكن ممن يُفْرَن بالفردوس الاعلى من الجنة ☺

معلمتك /

نموذج الإجابة

اسم الطالبة: رقم الجلوس:

المادة : دراسات اجتماعية					
اليوم :					
التاريخ : / / 1444هـ					
الزمن : ثلاث ساعات					
الدرجة المستحقة	الدرجة رقمياً	الدرجة كتابة	عدد الصفحات : (5)		
			عدد الأسئلة : (4)		
السؤال	الدرجة رقمياً	الدرجة كتابة	المصححة	المراجعة	المدققة
الأول					
الثاني					
الثالث					
الرابع					

رددي أثناء انتظارك :

- (سبحان الله و بحمده) مئة مرة .
- (لا حول و لا قوة إلا بالله) كنز من كنوز الجنة .
- (حسبي الله لا إله إلا هو عليه توكلت وهو رب العرش العظيم) سبع مرات .
- (لا إله إلا الله وحده لا شريك له و له الملك وله الحمد وهو على كل شيء قدير) مائة مرة .
- (اللهم صل وسلم على نبينا محمد) عشر مرات .
- اكثري من الاستغفار .

اسم الطالبة :

الاختبار النهائي لمادة الدراسات الاجتماعية للصف الأول الثانوي نظام المسارات
الفصل الدراسي الثالث (الدور الأول) لعام 1444 هـ

طالبتي الغالية :

10

10

استعيني بالله سبحانه وتعالى ثم اقرئي الأسئلة جيداً وأجيبني عما يأتي:

السؤال الأول: أ / أكمل الفراغات التالية بما يناسبها :

- 1) الدول الأعضاء في جامعة الدول العربية عددها **22** دولة.
- 2) انتهت الحرب العالمية الأولى باستسلام **ألمانيا** وانتصار دول الحلفاء على المحور.
- 3) اللغة الرسمية في الولايات المتحدة الأمريكية هي اللغة **الإنجليزية** يتحدث بها 80% من السكان.
- 4) عدد الدول المشاركة في الحرب العالمية الأولى **33** دولة.
- 5) ترتبط دول الخليج العربي بعدة روابط أبرزها روابط الدين و **اللغة العادات التقاليد** والثقافة .
- 6) استضافت المملكة العربية السعودية القمة العربية 29 في مدينة الظهران بالمملكة العربية السعودية عام 1439 هـ وأطلق عليها الملك سلمان حفظه الله اسم قمة **القدس** تضامناً مع القضية الفلسطينية.
- 7) يضم الاتحاد الأوربي **27** دولة تغطي معظم أنحاء القارة.
- 8) يقع مقر منظمة التعاون الإسلامي في مدينة **جدة** وتضم في عضويتها 57 دولة .

ب / صنفى المصطلحات تبعاً لتعريفاتها في الجدول التالي..

الحرب العالمية - هيئة الأمم المتحدة - سايكس بيكو - الكشوف الجغرافية - البخور - رابطة العالم الإسلامي

هيئة الأمم المتحدة	منظمة أنشئت بعد الحرب العالمية الثانية من أجل إقرار السلام والعدل في العالم
سايكس بيكو	اتفاقية سرية وقعت بين فرنسا و بريطانيا و روسيا على أن يتقاسموا أملاك الدولة العثمانية في العراق والشام .
البخور	الطريق التجاري العالمي الذي كان العرب في شبه الجزيرة العربية يسيطرون عليه منذ ما قبل الإسلام
الكشوف الجغرافية	رحلات بحرية قام بها الأوروبيين لاكتشاف مناطق جديدة في القرن الخامس عشر .
رابطة العالم الإسلامي	منظمة إسلامية شعبية عالمية مقرها مكة المكرمة تعني بإيضاح حقيقة الدعوة الإسلامية .

ج / ما النتائج المترتبة على :

❖ قيام الاتحاد الأوروبي .

ارتفع مستوى المعيشة لشعوبها و نمت أسواقها الداخلية

1. وقعت قنبلتي هيروشيما و ناجازاكي على عام 1945 م :			
أ- اليابان	ب- الصين	ج- ألمانيا	د- تركيا
2- تشكل الولايات المتحدة القسم الأكبر من قارة :			
أ- أوروبا	ب- أمريكا الشمالية	ج- أستراليا	د- أفريقيا
3- منظمة من أهدافها تنسيق السياسة النفطية للبلدان الأعضاء وحماية مصالح الدول المنتجة للنفط :			
أ- أوبك	ب- اليونسكو	ج- اليونسيف	د. الفاو
4- المسرح الرئيسي للحرب العالمية الأولى قارة :			
أ- آسيا	ب- أستراليا	ج- أمريكا	د- أوروبا
5- أكبر دولة في العالم من حيث المساحة :			
أ- روسيا الاتحادية	ب- الصين	ج- كندا	د- الجزائر
6- اللغة الرسمية في الصين هي :			
أ- الفارسية	أ- العربية	ج- الإنجليزية	د- لغة هان

انسبى المظاهر التضاريسية التالية الى بلدانها :

قزوين - الأبلش - هاواي - الدانوب - أوب

الأبلش	1- جبال تقع في شرق الولايات المتحدة الأمريكية
الدانوب	2- نهر ينبع من ألمانيا ويجتاز دول الاتحاد الأوروبي
هاواي	3- جزيرة في المحيط الهادي تعد أصغر الولايات في الولايات المتحدة
قزوين	4- أكبر مسطح مائي داخلي في العالم جنوب روسيا

(ج) على :



1. يشهد سكان الاتحاد الأوروبي نموا بطيئا مقارنة بسكان العالم .

تأخر سن الزواج وتحديد النسل

2. تنوع المناخ والمحاصيل الزراعية في الولايات المتحدة .

بسبب اتساع المساحة في الولايات المتحدة .

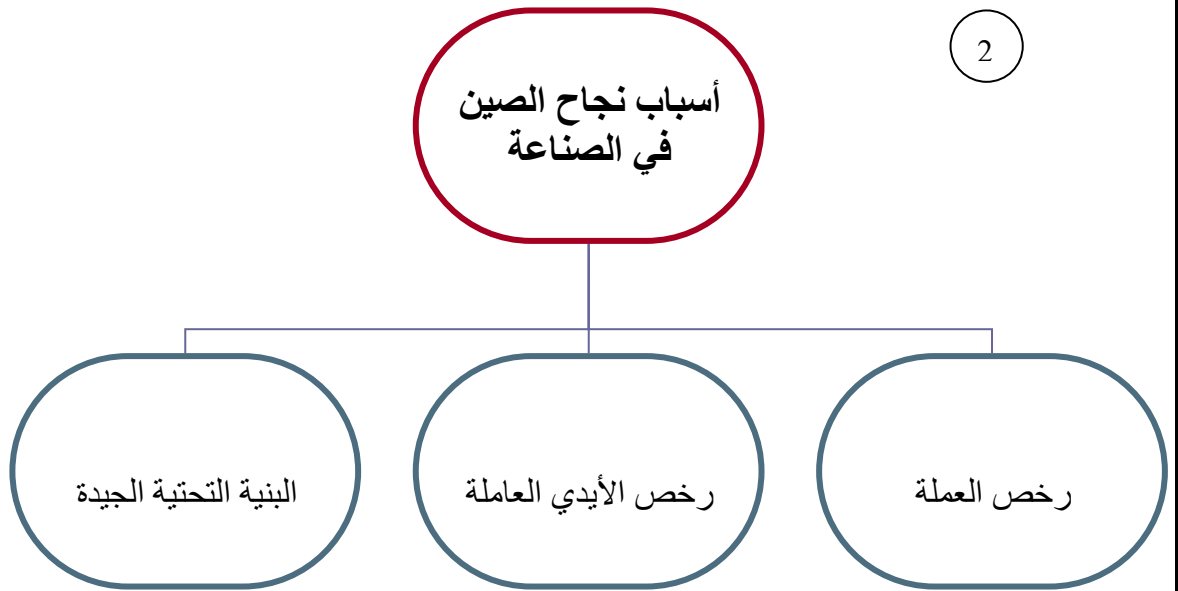
أ) صلي العامود أ بما يناسبه من العامود ب :

ب	أ	
فاسكو دا جاما	3	1 مستشار ألمانيا وعمل على تسليح الجيش وأصبح أقوى جيش في العالم
أحمد بن ماجد	4	2 عقدت القمة الاستثنائية الافتراضية لدول مجموعة العشرين عام 2020 م برئاسته لتنسيق الجهود العالمية لمكافحة جائحة كورونا.
بلفور	5	3 استطاع أن يدور حول أفريقيا مكتشفاً طريق رأس الرجاء الصالح.
جيمس كوك	6	4 عالم البحار المسلم الملقب بأسد البحار استفاد منه فاسكو دي جاما في رحلته الى الهند
الملك سلمان حفظه الله	2	5 اعطى اليهود وعد ينص على تأسيس وطن قومي لهم في فلسطين
هتلر	1	6 مكتشف قارة أستراليا
الملك خالد رحمه الله		7

2

ب) أذكر نتائج الحرب العالمية الأولى (فقط 2) :

- 1- الخسائر البشرية 2 - الخسائر المادية 3- تفكك الدولة العثمانية
 - 4- اتساع مساحة بعض دول أوروبا وتقلص بعضها الآخر .
 - 5- انشاء بعض المنظمات الدولية
 - 6- وقوع كثير من بلدان العالم العربي تحت الانتداب .
- ج / أكمل خريطة المفاهيم التالية :



4

5

السؤال الرابع :

10

10

أ/ ضعي علامة (✓) أمام العبارة الصحيحة وعلامة (×) أمام العبارة الخاطئة :

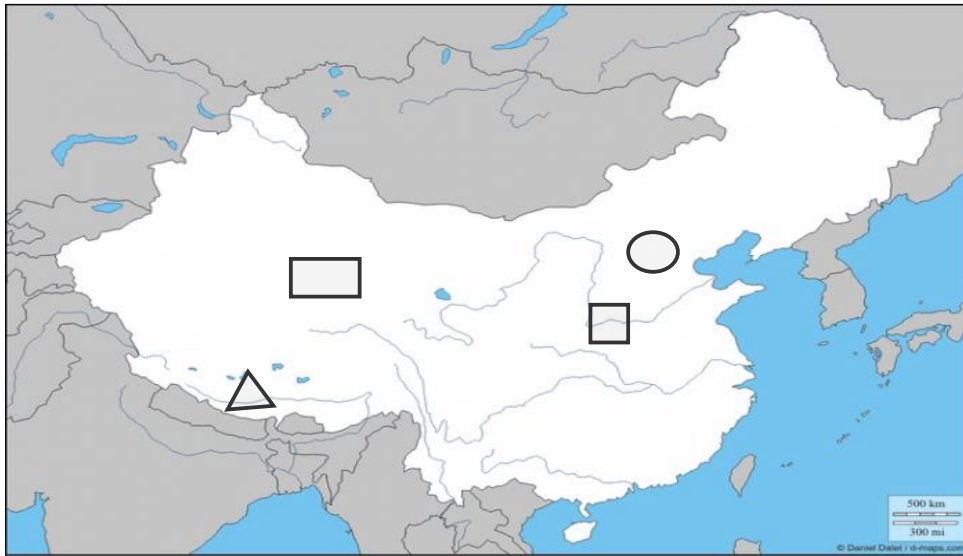
1. عدد الخسائر البشرية في الحرب العالمية الثانية خمسة ملايين قتيل (×)
2. أكثر دول العالم اكتظاظا بالسكان الصين. (✓)
3. كان من نتائج الكشوف الجغرافية إثبات كروية الأرض (✓)
4. أنشئت الجامعة العربية قبل انشاء هيئة الأمم المتحدة بنحو ستة أشهر. (✓)
5. قامت الصين بإطلاق أول رائد فضاء بشري في تاريخ العالم. (×)

1

ب/ اشرحي السبب الرئيسي المباشر لقيام الحرب العالمية الأولى.

اغتيال طالب صربي ولي عهد النمسا آنذاك وزوجته أثناء زيارتهم لسراييفو عاصمة البوسنة والهرسك

ج) أمامك خريطة لجمهورية الصين أكتبى الرقم المناسب على الخريطة :



- 1- النهر الأصفر
- 2- هضبة التبت
- 3- العاصمة بكين
- 4- جبال الهملايا

انتهت الأسئلة .

جعلني الله وإياكن ممن يُؤزَن بالفردوس الاعلى من الجنة ©

معلمتك /

اختبار الفصل الدراسي الثالث "الفترة الثانية" العام الدراسي 1444 هـ

الشعبة ()

اسم الطالبة رابعياً

رقم السؤال	الدرجة	المصححة	المراجعة	المدققة
السؤال الأول				
السؤال الثاني				
السؤال الثالث				

السؤال الأول/ أ. اختاري الإجابة الصحيحة في الآتي..

1. مثلت بلدانها ميدان التنافس الأوروبي الرامي إلى السيطرة واستغلال ثرواتها الطبيعية (آسيا – أفريقيا – أوروبا - أمريكا)
2. سلسلة جبلية تفصل بين روسيا الآسيوية وروسيا الأوروبية (روكي – الأورال – توفغال – كننلن)
3. من أنواع نباتات القارة الأوروبية في المناخ القطبي غابات (النفضية – الصنوبرية – البحر المتوسط – التندرا)
4. فرضت معاهدات الصلح غرامات باهظة على (روسيا – إيطاليا – ألمانيا - بريطانيا)
5. أعلنت الحرب على صربيا عام 1914 وكان شرارة الحرب العالمية الأولى اغتيال ولي عهدها (ألمانيا – النمسا – روسيا - إيطاليا)
6. لُقّب بأسد البحار (البكري – المقديسي – الإدريسي – ابن ماجد)
7. يقع مقر هيئة الأمم المتحدة في (نيويورك – واشنطن – كاليفورنيا – فلوريدا)
8. لم يبحر لأبعد من مضيق جبل طارق ولقب بالملاح (ماجلان – جيمس كوك – هنري – كولومبس)
9. استضافت (المملكة العربية السعودية – العراق – الكويت – قطر) اجتماع مجموعة العشرين عام 2020
10. من نتائج الحرب العالمية الأولى إنشاء (هيئة الأمم المتحدة – منظمة العالم الإسلامي – مجلس التعاون الخليجي – عصبة الأمم)
11. أصبح (هتلر – لينين – موسوليني – سالين) مستشاراً ألمانياً وقائداً للحزب النازي
12. يصب نهر لينا في (المحيط المتجمد الشمالي – البحر الأحمر – بحر الصين – البحر الميت)
13. تُعرف بسقف العالم نظراً لارتفاعها الشديد .. هضبة (منغوليا – سيبيريا – التبت – الشطوط)
14. عدد اللغات في الإتحاد الأوروبي (23 – 33 – 44 – 55) لغة
15. شهدت روسيا قيام الثورة (الرأس مالية – الشيوعية – النازية – الفاشية) التي قادها البلاشفة
16. كانت أول مستعمرة أمريكية (فرجينيا – نيويورك – كاليفورنيا – فلوريدا) الإنجليزية على ساحل المحيط الأطلسي
17. يُنسب كتاب نزهة المشتاق في اختراق الأفاق لـ (البكري – المقديسي – الإدريسي – ابن ماجد)
18. تتكون الولايات المتحدة الأمريكية من (20 - 30 - 40 - 50) ولاية

2. بما تفسرين الآتي؟؟

تنوع المناخ في الولايات المتحدة الأمريكية؟
يشهد سكان الإتحاد الأوروبي نمواً بطيئاً؟

ب/ 1. أكمل الفراغ الآتي بما يتناسب مع الجملة..

أكبر الولايات المتحدة الأمريكية (.....)
أصغر الولايات المتحدة الأمريكية (.....)

ج/ صححي ما تحته خط في الآتي..

1. تمكن موسوليني زعيم الحزب الفاشي عام 1922 م من تسلم السلطة في النمسا
3. من نتائج الحرب العالمية الثانية تفكك الدولة العثمانية.
4. أوفت بريطانيا بعهدا للشريف حسين ونصبته ملكاً على العرب
5. تشكل الحدود البرية لروسيا 14 دولة

السؤال الثاني/ أ. أحيي د (✓) أو (X) أمام العبارات التالية..

1	بروكسل في بلجيكا هي عاصمة الإتحاد الأوروبي
2	ساهم الرحالة ابن بطوطة في تقديم معلومات جديدة عن أماكن عدة في أفريقيا
3	يقع مقر جامعة الدول العربية في القاهرة
4	تفكك الإتحاد السوفييتي عام 1991 م
5	تم اكتشاف استراليا على يد الملاحه الإيطالي أمريكو فيسبوتشي
6	يُعد عنصر المغول الآسيوي أول جنس بشري استوطن الأراضي التي تكونت منها الولايات المتحدة الأمريكية
7	تمتلك روسيا ربع المياه العذبة في العالم
8	المقر السابق لمنظمة أوبك كان في جنيف في سويسرا
9	الأيدي العاملة في الصين رخيصة
10	شاركت المملكة العربية السعودية في الحروب العالمية الأولى والثانية بموافقة الملك عبد العزيز آل سعود
11	انتهت الحرب العالمية الثانية باستسلام دول المحور
12	ألقت الولايات المتحدة الأمريكية قنبلي هيروشيما ونجازاكي على اليابان
13	يتمتع جنوب أوروبا بمناخ البحر الأبيض المتوسط
14	تستغرق الرحلة بالقطار بين موسكو في الغرب وميناء فلاد فستوك في الشرق سبعة أيام
15	تتمتع روسيا بارتفاع في الكثافة السكانية
16	أكبر عرق في الصين هو عرق هان
17	بلغت الخسائر البشرية في الحرب العالمية الثانية 70 مليون قتيل
18	بحر قزوين هو أكبر البحيرات في روسيا وأكبر مسطح مائي داخلي في العالم
19	تُعد أولى أفكار التوحيد السلمي في أوروبا بالتعاون والمساواة تلك التي قدمها فيكتور هوجو عام 1851 م
20	تأسست الولايات المتحدة الأمريكية من 10 مستعمرات بريطانية على طول ساحل المحيط الأطلسي

ب. صفني المصطلحات تبعاً لتعريفاتها في الجدول التالي..

1	الكشوف الجغرافية	2	الاشتراكية	3	سايكس بيكو
---	------------------	---	------------	---	------------

اتفاقية سرية وقعت بين فرنسا وبريطانيا بموافقة روسيا على أن يتقاسم أملاك الدولة العثمانية في الهلال الخصيب
رحلات بحرية قام بها مجموعة من الرحالة الأوروبيين

ج. 1. وازني بين المسمى ونوع المظهر التضاريسي وموقعه في الجدول التالي..

1	جوبي	2	إفرست	3	بيرينغ	4	الألب	5	هورن
---	------	---	-------	---	--------	---	-------	---	------

مضيق يفصل بين آسيا وأمريكا الشمالية	سلسلة جبلية في أوروبا	بحيرة في الولايات المتحدة الأمريكية	أعلى قمة جبلية في العالم	صحراء في الصين
-------------------------------------	-----------------------	-------------------------------------	--------------------------	----------------

2. رتب الدول التالية تبعاً لمساحتها من الأكبر إلى الأصغر

الولايات المتحدة الأمريكية	روسيا	الصين	كندا
----------------------------	-------	-------	------



السؤال الثالث/ أ. حددي على خريطة العالم سير رحلة فاسكو ديجاما في الوصول للهند/ المحيط الهندي/ المحيط الأطلسي

ب. صفني الدول العربية الآتية بين ماهي (مؤسس أو عضو في جامعة الدول العربية)



الدول المؤسسة	
الدول الأعضاء	

ج.1. حددي على خريطة الصين الآتي ..



(هضبة منغوليا / نهر هو انغ هو / روسيا/ بحر الصين الشرقي)

أين تقع الصين بالنسبة لقارة آسيا؟

عاصمة الصين هي

2. أ/أرسي خريطة الولايات المتحدة الأمريكية ووضحي عليها الآتي .. (الحدود / سلسلة جبال روكي / نهر المسيسيبي / السهول الوسطى /


العاصمة)



ب/ من اين ينبع و أين يصب نهر المسيسيبي؟

ينبع من

يصب في



2. إلى ماذا ترمز الأيقونات التالية؟؟

ابحثي عن الكلمة المفقودة ..

ا	ل	ا	ب	لا	ش
م	ن	غ	و	ل	ي
ب	ب	ي	ط	ا	ل
ص	ك	ح	ي	ه	ت

خ	س	لا	ت	م	س	ر
ا	ل	د	ا	ن	و	ب
ب	ب	ي	ط	ا	ل	ر
ص	ك	ح	ي	ه	ت	م

سلسلة جبلية في الولايات المتحدة الأمريكية

أطول أنهار أوروبا

انتهت الأسئلة بالتوفيق والنجاح.. معلمات المادة.. أ. ذكرى إخوان أ. وضحي السببي

اختبار الفصل الدراسي الثالث "الفترة الثانية" العام الدراسي 1444 هـ

نموذج الإجابة

الشعبة ()

اسم الطالبة رابعياً

رقم السؤال	الدرجة	المصححة	المراجعة	المدققة
السؤال الأول				
السؤال الثاني				
السؤال الثالث				

13

السؤال الأول/ أ. اختاري الإجابة الصحيحة في الآتي..

1. مثلت بلدانها ميدان التنافس الأوروبي الرامي إلى السيطرة واستغلال ثرواتها الطبيعية (آسيا - أفريقيا - أوروبا - أمريكا)
2. سلسلة جبلية تفصل بين روسيا الآسيوية وروسيا الأوروبية (روكي - الأورال - توفغال - كنلن)
3. من أنواع نباتات القارة الأوروبية في المناخ القطبي غابات (النفضية - الصنوبرية - البحر المتوسط - التنديرا)
4. فرضت معاهدات الصلح غرامات باهظة على (روسيا - إيطاليا - ألمانيا - بريطانيا)
5. أعلنت الحرب على صربيا عام 1914 وكان شرارة الحرب العالمية الأولى اغتيال ولي عهدها (ألمانيا - النمسا - روسيا - إيطاليا)
6. لُقّب بأسد البحار (البكري - المقديسي - الإدريسي - ابن ماجد)
7. يقع مقر هيئة الأمم المتحدة في (نيويورك - واشنطن - كاليفورنيا - فلوريدا)
8. لم يبحر لأبعد من مضيق جبل طارق ولقب بالملاح (ماجلان - جيمس كوك - هنري - كولومبس)
9. استضافت (المملكة العربية السعودية - العراق - الكويت - قطر) اجتماع مجموعة العشرين عام 2020
10. من نتائج الحرب العالمية الأولى إنشاء (هيئة الأمم المتحدة - منظمة العالم الإسلامي - مجلس التعاون الخليجي - عصبة الأمم)
11. أصبح (هتلر - لينين - موسوليني - سالين) مستشاراً ألمانياً وقائداً للحزب النازي
12. يصب نهر لينا في (المحيط المتجمد الشمالي - البحر الأحمر - بحر الصين - البحر الميت)
13. تُعرف بسقف العالم نظراً لارتفاعها الشديد .. هضبة (منغوليا - سيبيريا - التبت - الشطوط)
14. عدد اللغات في الإتحاد الأوروبي (23 - 33 - 44 - 55) لغة
15. شهدت روسيا قيام الثورة (الرأس مالية - الشيوعية - النازية - الفاشية) التي قادها البلاشفة
16. كانت أول مستعمرة أمريكية (فرجينيا - نيويورك - كاليفورنيا - فلوريدا) الإنجليزية على ساحل المحيط الأطلسي
17. يُنسب كتاب نزهة المشتاق في اختراق الأفاق لـ (البكري - المقديسي - الإدريسي - ابن ماجد)
18. تتكون الولايات المتحدة الأمريكية من (20 - 30 - 40 - 50) ولاية

ب/ 1. أكمل الفراغ الآتي بما يتناسب مع الجملة..

2. بما تفسرين الآتي؟؟

أكبر الولايات المتحدة الأمريكية (الأسكا)

تنوع المناخ في الولايات المتحدة الأمريكية؟ اتساع المساحة

أصغر الولايات المتحدة الأمريكية (هاواي)

يشهد سكان الإتحاد الأوروبي نمواً بطيئاً؟ تحديد النسل وتأخر سن الزواج

ج/ صححي ما تحته خط في الآتي..

1. تمكن موسوليني زعيم الحزب الفاشي عام 1922 م من تسلم السلطة في النمسا

3. من نتائج الحرب العالمية الثانية تفكك الدولة العثمانية.

4. أوفت بريطانيا بعهدا للشريف حسين ونصبته ملكاً على العرب

5. تشكل الحدود البرية لروسيا 14 دولة

إيطاليا

الحرب العالمية الأولى

نكثت بعهدا

الصين

15.5

السؤال الثاني/ أ. أحيي د (✓) أو (X) أمام العبارات التالية..

✓	1 بروكسل في بلجيكا هي عاصمة الإتحاد الأوروبي
✓	2 ساهم الرحالة ابن بطوطة في تقديم معلومات جديدة عن أماكن عدة في أفريقيا
✓	3 يقع مقر جامعة الدول العربية في القاهرة
✓	4 تفكك الإتحاد السوفييتي عام 1991 م
X	5 تم اكتشاف استراليا على يد الملاحه الإيطالي أمريكو فيسبوتشي
✓	6 يُعد عنصر المغول الآسيوي أول جنس بشري استوطن الأراضي التي تكونت منها الولايات المتحدة الأمريكية
✓	7 تمتلك روسيا ربع المياه العذبة في العالم
✓	8 المقر السابق لمنظمة أوبك كان في جنيف في سويسرا
✓	9 الأيدي العاملة في الصين رخيصة
X	10 شاركت المملكة العربية السعودية في الحروب العالمية الأولى والثانية بموافقة الملك عبد العزيز آل سعود
✓	11 انتهت الحرب العالمية الثانية باستسلام دول المحور
✓	12 ألقت الولايات المتحدة الأمريكية قنبلي هيروشيما ونجازاكي على اليابان
✓	13 يتمتع جنوب أوروبا بمناخ البحر الأبيض المتوسط
✓	14 تستغرق الرحلة بالقطار بين موسكو في الغرب وميناء فلاد فستوك في الشرق سبعة أيام
X	15 تتمتع روسيا بارتفاع في الكثافة السكانية
✓	16 أكبر عرق في الصين هو عرق هان
✓	17 بلغت الخسائر البشرية في الحرب العالمية الثانية 70 مليون قتيل
✓	18 بحر قزوين هو أكبر البحيرات في روسيا وأكبر مسطح مائي داخلي في العالم
✓	19 تُعد أولى أفكار التوحيد السلمي في أوروبا بالتعاون والمساواة تلك التي قدمها فيكتور هوجو عام 1851 م
X	20 تأسست الولايات المتحدة الأمريكية من 10 مستعمرات بريطانية على طول ساحل المحيط الأطلسي

ب. صفني المصطلحات تبعاً لتعريفاتها في الجدول التالي..

1	الكشوف الجغرافية	2	الاشتراكية	3	سايكس بيكو
---	------------------	---	------------	---	------------

2	اتفاقية سرية وقعت بين فرنسا وبريطانيا بموافقة روسيا على أن يتقاسم أملك الدولة العثمانية في الهلال الخصيب
1	رحلات بحرية قام بها مجموعة من الرحالة الأوروبيين

ج. 1. وازني بين المسمى ونوع المظهر التضاريسي وموقعه في الجدول التالي..

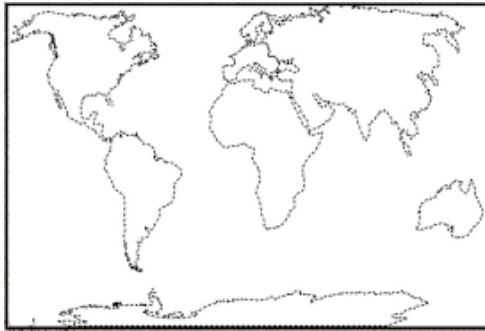
5	4	3	2	1
هورن	الألب	بيرينغ	إفرست	جوبي

1	2	5	4	3
صحراء في الصين	أعلى قمة جبلية في العالم	بحيرة في الولايات المتحدة الأمريكية	سلسلة جبلية في أوروبا	مضيق يفصل بين آسيا وأمريكا الشمالية

2. رتبي الدول التالية تبعاً لمساحتها من الأكبر إلى الأصغر

الولايات المتحدة الأمريكية	روسيا	الصين	كندا
3	1	4	2

11.5



السؤال الثالث/ أ. حددي على خريطة العالم سير رحلة فاسكو دي جاما في الوصول للهند/ المحيط الهندي/ المحيط الأطلسي

ب. صفني الدول العربية الآتية بين ماهي (مؤسس أو عضو في جامعة الدول العربية)



الدول المؤسسة	السعودية	مصر
الدول الأعضاء	السودان	الجزائر

ج.1. حددي على خريطة الصين الآتي ..



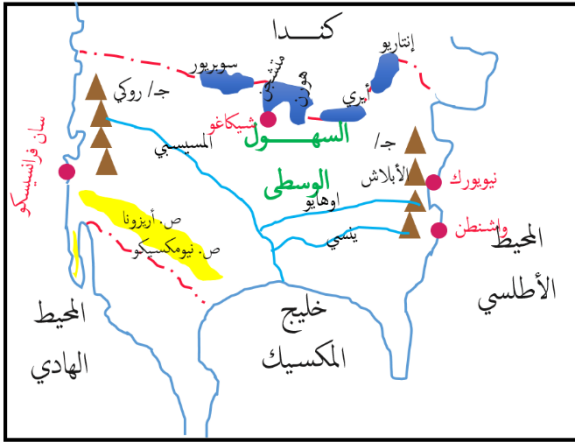
(هضبة منغوليا / نهر هوانغ هو / روسيا/ بحر الصين الشرقي)

أين تقع الصين بالنسبة لقارة آسيا؟ شرق آسيا

عاصمة الصين هي بكين

2. أ/أرسي خريطة الولايات المتحدة الأمريكية ووضحي عليها الآتي.. (الحدود / سلسلة جبال روكي / نهر المسيسي / السهول الوسطى /

العاصمة)



ب/ من اين ينبع و أين يصب نهر المسيسي؟

ينبع من سلسلة جبال روكي

يصب في خليج المكسيك

منظمة الأوبك	هيئة الأمم المتحدة

2. إلى ماذا ترمز الأيقونات التالية؟؟

ابحثي عن الكلمة المفقودة ..

ا	ل	ب	ا	ب	ل	ش
م	ن	و	غ	و	ل	ي
ب	ب	ي	ط	ا	ل	
ص	ك	ح	ي	ه	ت	

ر	س	م	ت	لا	س	خ
ب	ل	د	ا	ن	و	ب
ر	ل	ا	ط	ي	ب	ب
م	ت	ه	ي	ح	ك	ص

سلسلة جبلية في الولايات المتحدة الأمريكية

أطول أنهار أوروبا

انتهت الأسئلة بالتوفيق والنجاح.. معلمات المادة.. أ. ذكرى إخوان أ. وضحي السببي

اسم الطالبة : رقم الجلوس:

المادة : دراسات اجتماعية					
اليوم :					
التاريخ : 1444/ 11 / هـ					
الزمن : ثلاث ساعات					
عدد الصفحات : (4) عدد الأسئلة : (4)		الدرجة رقماً		الدرجة المستحقة	
الدرجة كتابة					
السؤال	الدرجة رقماً	الدرجة كتابة	المصححة	المراجعة	المدققة
الأول					
الثاني					
الثالث					
الرابع					

رددي أثناء انتظارك :

- (سبحان الله و بحمده) مئة مرة .
- (لا حول و لا قوة إلا بالله) كنز من كنوز الجنة .
- (حسبي الله لا إله إلا هو عليه توكلت وهو رب العرش العظيم) سبع مرات .
- (لا إله إلا الله وحده لا شريك له و له الملك وله الحمد وهو على كل شيء قدير) مائة مرة .
- (اللهم صل وسلم على نبينا محمد) عشر مرات .
- اكثري من الاستغفار .

اسم الطالبة :
اختبار مادة الدراسات الاجتماعية للصف الأول الثانوي نظام المسارات (طالبات الانتساب)
الفصل الدراسي الثالث (الدور الأول) لعام 1444 هـ

طالبتي الغالية :

استعيني بالله سبحانه وتعالى ثم اقرئي الأسئلة جيداً و أجبني عما يأتي :

السؤال الأول: أ / أكمل الفراغات التالية بما يناسبها :

- 1) شهدت أراضي المملكة حضارات مختلفة وعاش على أرضها أقوام مثل قوم..... في منطقة العلا شمال المدينة.
- 2) انتهت الحرب العالمية الأولى باستسلام..... وانتصار دول الحلفاء على المحور .
- 3) اللغة الرسمية في الولايات المتحدة الأمريكية هي اللغة يتحدث بها 80% من السكان .
- 4) عدد الدول المشاركة في الحرب العالمية الأولى دولة .
- 5) ترتبط دول الخليج العربي بعدة روابط أبرزها الروابط والسياسية .
- 6) استضافت المملكة العربية السعودية القمة العربية التاسعة والعشرون في مدينة الظهران بالمملكة العربية السعودية عام 1439 هـ وأطلق عليها الملك سلمان حفظه الله اسم قمة
7) يضم الاتحاد الأوربي دولة تغطي معظم أنحاء القارة .
- 8) تطل المملكة العربية السعودية على مسطحات مائية مهمة مثل البحر

ب / صنف المصطلحات تبعاً لتعريفاتها في الجدول التالي..

الحرب العالمية - هيئة الأمم المتحدة - سايكس بيكو - الكشوف الجغرافية - طريق البخور - رابطة العالم الإسلامي

منظمة أنشئت بعد الحرب العالمية الثانية من أجل إقرار السلام والعدل في العالم	
اتفاقية سرية وقعت بين فرنسا وبريطانيا و روسيا على أن يتقاسموا أملاك الدولة العثمانية في العراق والشام .	
الطريق التجاري العالمي الذي كان العرب في شبه الجزيرة العربية يسيطرون عليه منذ ما قبل الإسلام	
رحلات بحرية قام بها الأوروبيين لاكتشاف مناطق جديدة في القرن الخامس عشر .	
منظمة إسلامية شعبية عالمية مقرها مكة المكرمة تعني بإيضاح حقيقة الدعوة الإسلامية .	

ج / ما النتائج المترتبة على :

❖ قيام الاتحاد الأوروبي .

.....
.....
.....

السؤال الثاني : أ) اختاري الإجابة الصحيحة في الآتي :

1. وقعت قنبلتي هيروشيما و ناجازاكي على عام 1945 م :

أ- اليابان	ب- الصين	ج- ألمانيا	د- تركيا
2- تشكل الولايات المتحدة القسم الأكبر من قارة :			
أ- أوروبا	ب- أمريكا الشمالية	ج- أستراليا	د- أوروبا
3- ادفع ريبالا تنقذ عربيا حملة وطنية نادي بها الملك عندما كان أميراً للرياض :			
أ- فيصل	ب- فهد	ج- خالد	د. سلمان
4- المسرح الرئيسي للحرب العالمية الأولى قارة :			
أ- آسيا	ب- أستراليا	ج- أمريكا	د- أوروبا
5- رفض الملك مشروع تقسيم فلسطين والانتداب البريطاني على فلسطين			
أ- عبد العزيز	ب- فيصل	ج- فهد	د- سلمان
6- اللغة الرسمية في الصين هي :			
أ- الروسية	ب- العربية	ج- الإنجليزية	د- لغة هان

صنفي المقومات التالية للمملكة العربية السعودية حسب نوعها :

الدينية - الجغرافية - الحضارية - الاقتصادية - السياسية - .

المملكة أكبر الدول إنتاجاً للنفط وتصديراً له .
حلقة اتصال بين القارات الثلاث ويحيط بها مضيقين مهمين
الأماكن المقدسة كالحرمين الشريفين واستقبال الحجاج والزوار
يقوم النظام الملكي على البيعة وهو مبدأ إسلامي أصيل

ج) علي :

1. رفض الملك عبد العزيز المشاركة في الحرب العالمية الأولى .

2. تنوع المناخ والمحاصيل الزراعية في الولايات المتحدة .

السؤال الثالث :

أ) أذكرى نتائج الحرب العالمية الأولى (2 فقط) :

ب) صلى العامود أ بالعامود ب .-

ب	أ	
فاسكو دا جاما	مستشار ألمانيا وعمل على تسليح الجيش وأصبح أقوى جيش في العالم	1
أحمد بن ماجد	أمر بقطع امدادات النفط عن الدول المتعاونة مع العدو الصهيوني .	2
بلفور	استطاع أن يدور حول أفريقيا مكتشفاً طريق رأس الرجاء الصالح	3
جيمس كوك	عالم البحار المسلم الملقب بأسد البحار استفاد منه فاسكو دي جاما في رحلته الى الهند	4
الملك فيصل بن عبد العزيز	اعطى اليهود وعد ينص على تأسيس وطن قومي لهم في فلسطين	5
هتلر	مكتشف قارة أستراليا	6

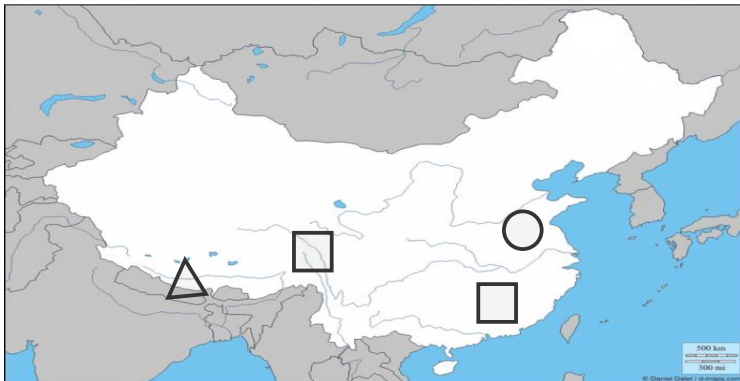
ج / وضح دور المملكة في مواجهة العدوان الثلاثي على مصر .

السؤال الرابع :/أ/ ضعي علامة (✓) أمام العبارة الصحيحة وعلامة (×) أمام العبارة الخاطئة :

1. عدد الخسائر البشرية في الحرب العالمية الثانية خمسة ملايين قتيل ()
2. اكثر دول العالم اكتظاظا بالسكان الصين . ()
3. كان من نتائج الكشوف الجغرافية إثبات كروية الأرض . ()
4. الإسلام دين الوسطية فلا غلو ولا تفريط . ()
5. دعمت الكنيسة الأوروبية والبابوية حركة الكشوف الجغرافية . ()
6. تتميز المملكة العربية السعودية بموقع جغرافي مهم واستراتيجي حيث تقع بين ثلاث قارات ()

ب/ اشرحي السبب الرئيسي لقيام الحرب العالمية الأولى .

ج) أمامك خريطة لجمهورية الصين أكتبي الرقم المناسب على الخريطة :



- 1- النهر الأصفر
- 2- هضبة التبت
- 3- العاصمة بكين
- 4- جبال الهملايا

انتهت الأسئلة .

جعلني الله وإياكن ممن يفزّن بالفردوس الاعلى من الجنة ☺