

تم تحميل وعرض المادة من :



موقع واجباتي

www.wajibati.net

موقع واجباتي منصة تعليمية تساهم بنشر حل المناهج الدراسية بشكل متميز لترتقي بمجال التعليم على الإنترنت ويستطيع الطلاب تصفح حلول الكتب مباشرة لجميع المراحل التعليمية المختلفة



حمل التطبيق من هنا

أوراق عمل مادة العلوم للصف الأول الابتدائي - الفصل الدراسي الثالث

اسم الطالب : الصف : ١ /

○ ضع الكلمات التالية أمام ما يناسبها من الصور التالية :

غائم


مثلج

مشمس

ممطر



.....



.....



.....



.....

○ أخل بين الصورة واسم أداة قياس الطقس :



دوارة الرياح



مقياس المطر



مقياس الحرارة

أوراق عمل مادة العلوم للصف الأول الابتدائي - الفصل الدراسي الثالث

اسم الطالب : الصف : ١ /

○ أعل بين الصورة و اسم الفصل المناسب :



فصل الصيف

فصل الربيع

فصل الشتاء

فصل الخريف

أوراق عمل مادة العلوم للصف الأول الابتدائي - الفصل الدراسي الثالث

اسم الطالب :

الصف : ١ /

• اختر الإجابة الصحيحة :-



فوق تحت



فوق تحت

• ماذا نستخدم لقياس المسافة بين الشجرتين :




أوراق عمل مادة العلوم للصف الأول الابتدائي - الفصل الدراسي الثالث

اسم الطالب :

الصف : ١ /

• أصل بين الصورة و نوع الحركة فيما يلي :-



دورانية

متعرجة

مستقيمة

متأرجحة



أيهما أسرع ؟



أوراق عمل مادة العلوم للصف الأول الابتدائي - الفصل الدراسي الثالث

اسم الطالب : الصف : ١ /

• وصل بين الصورة و نوع القوة فيما يلي :



الاحتكاك

الدفع

السحب

الجاذبية

أوراق عمل مادة العلوم للصف الأول الابتدائي - الفصل الدراسي الثالث

اسم الطالب : الصف : ١ /

• ضع الكلمات التالية في الفراغ المناسب :-

الطاقة الحرارة

١. طاقة تسخن الأشياء .

٢. تجعل الأشياء تعمل و تتغير .

• أصل الصور التالية بما يناسبها :-



من أشكال
الطاقة



من مصادر
الحرارة



الإجابة

أوراق عمل مادة العلوم للصف الأول الابتدائي - الفصل الدراسي الثالث

اسم الطالب : الصف : ١ /

○ ضع الكلمات التالية أمام ما يناسبها من الصور التالية :

غائم

مثلج

مشمس

ممطر



مشمس



غائم



مثلج



ممطر

○ أخل بين الصورة واسم أداة قياس الطقس :



دوارة الرياح



مقياس المطر



مقياس الحرارة

أوراق عمل مادة العلوم للصف الأول الابتدائي - الفصل الدراسي الثالث

اسم الطالب : الصف : ١ /

○ أخل بين الصورة و اسم الفصل المناسب :



فصل الصيف

فصل الربيع

فصل الشتاء

فصل الخريف

أوراق عمل مادة العلوم للصف الأول الابتدائي - الفصل الدراسي الثالث

اسم الطالب :

الصف : ١ /

• اختر الإجابة الصحيحة :-



فوق تحت



تحت فوق


• ماذا نستخدم لقياس المسافة بين الشجرتين :



أوراق عمل مادة العلوم للصف الأول الابتدائي - الفصل الدراسي الثالث

اسم الطالب : الصف : ١ /

• أصل بين الصورة و نوع الحركة فيما يلي :-



دورانية

متعرجة

مستقيمة

متأرجحة



أيهما أسرع ؟



أوراق عمل مادة العلوم للصف الأول الابتدائي - الفصل الدراسي الثالث

اسم الطالب : الصف : ١ /

• وصل بين الصورة و نوع القوة فيما يلي :



الاحتكاك

الدفع

السحب

الجاذبية

أوراق عمل مادة العلوم للصف الأول الابتدائي - الفصل الدراسي الثالث

اسم الطالب : الهدف : ١ /

• ضع الكلمات التالية في الفراغ المناسب :-

الطاقة الحرارة

١. الحرارة طاقة تسخن الأشياء .

٢. الطاقة تجعل الأشياء تعمل و تتغير .

• أصل الصور التالية بما يناسبها :-



من أشكال
الطاقة



من مصادر
الحرارة



