

تم تحميل وعرض المادة من :



موقع واجباتك

www.wajibati.net

موقع واجباتي منصة تعليمية تساهم بنشر حل المناهج الدراسية بشكل متميز لترتقي بمجال التعليم على الإنترنت ويستطيع الطلاب تصفح حلول الكتب مباشرة لجميع المراحل التعليمية المختلفة



حمل التطبيق من هنا





بسم الله الرحمن الرحيم

ورقة عمل درس (تاريخ الخرائط وتطورها)

اسم الطالب : الصف : خامس /

س / ما المقصود بالخريطة ؟

ج /

س / ضع علامة (√) أمام العبارة الصحيحة وعلامة (×) أمام العبارة الخاطئة فيما يلي :

- ١ - يذكر المؤرخون أن الإنسان عرف الخرائط قبل معرفة الكتابة
- ٢ - كان البابليون في العراق والفرعون في مصر من أوائل من رسم الخرائط
- ٣ - أنشأ العالم المسلم محمد الإدريسي أول خريطة عالمية صحيحة مبنية وفق الأصول العلمية

س / اذكر اثنين من الفروق بين الخريطة الورقية والخريطة الرقمية :

- ١-
- ٢-



بسم الله الرحمن الرحيم

ورقة عمل درس (تاريخ الخرائط وتطورها)

اسم الطالب : الصف : خامس /

س / ما المقصود بالخريطة ؟

ج /

س / ضع علامة (√) أمام العبارة الصحيحة وعلامة (×) أمام العبارة الخاطئة فيما يلي :

- ١ - يذكر المؤرخون أن الإنسان عرف الخرائط قبل معرفة الكتابة
- ٢ - كان البابليون في العراق والفرعون في مصر من أوائل من رسم الخرائط
- ٣ - أنشأ العالم المسلم محمد الإدريسي أول خريطة عالمية صحيحة مبنية وفق الأصول العلمية

س / اذكر اثنين من الفروق بين الخريطة الورقية والخريطة الرقمية :

- ١-
- ٢-



بسم الله الرحمن الرحيم

ورقة عمل درس (السكان)

اسم الطالب : الصف : خامس /

س / اختر الاجابة الصحيحة من بين الأقواس فيما يلي :

(منتظماً - متفاوت - متساوي)

١ - يتوزع السكان توزيعاً

(أفريقيا - آسيا - أوروبا)

٢ - أكثر سكان العالم يسكن في قارة

(آسيا - استراليا - افريقيا)

٣ - يقل عدد السكان في قارة

س / اذكر العوامل المؤثرة في توزيع السكان في العالم ؟



بسم الله الرحمن الرحيم

ورقة عمل درس (السكان)

اسم الطالب : الصف : خامس /

س / اختر الاجابة الصحيحة من بين الأقواس فيما يلي :

(منتظماً - متفاوت - متساوي)

١ - يتوزع السكان توزيعاً

(أفريقيا - آسيا - أوروبا)

٢ - أكثر سكان العالم يسكن في قارة

(آسيا - استراليا - افريقيا)

٣ - يقل عدد السكان في قارة

س / اذكر العوامل المؤثرة في توزيع السكان في العالم ؟



سم الله الرحمن الرحيم

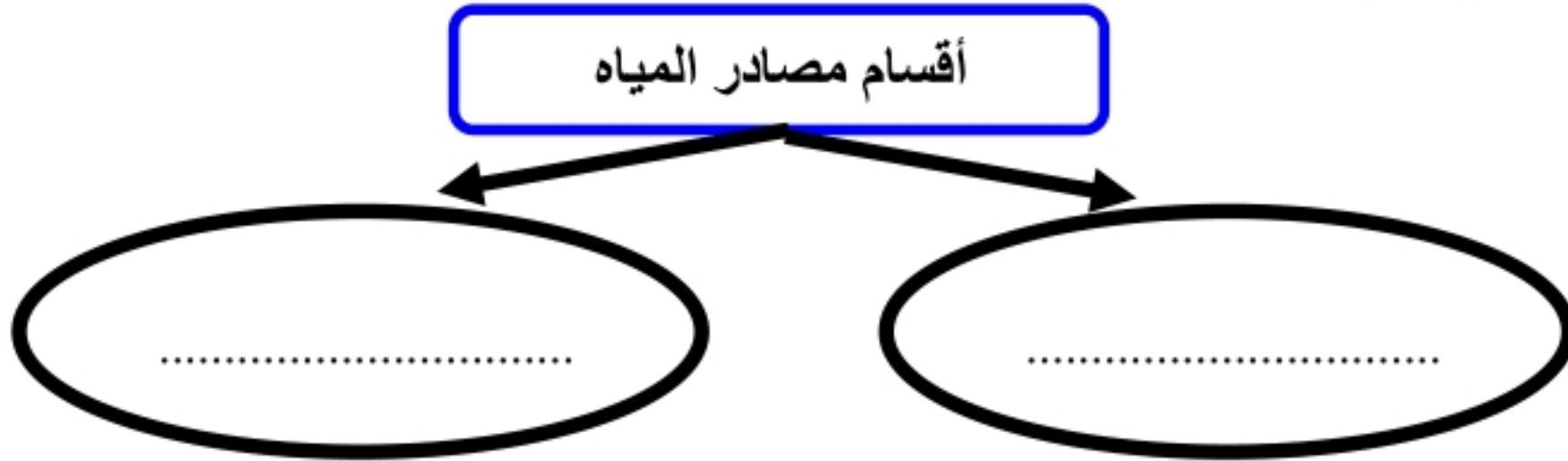
ورقة عمل درس (توزيع السكان – العوامل الطبيعية : التضاريس والمياه)

اسم الطالب : الصف : خامس /

س / اكمل الفراغات التالية بما يناسب ؟

- يكثر السكان في و غير الوعرة ، في حين وجود السكان كلما زاد التضاريس وزادت وعورتها .

س / تنقسم مصادر المياه إلى قسمين اذكرها؟



س / اذكر ثلاثاً من المدن القريبة من المناطق المائية الجاذبة لسكان في وطني المملكة العربية السعودية ؟

ج /

سم الله الرحمن الرحيم

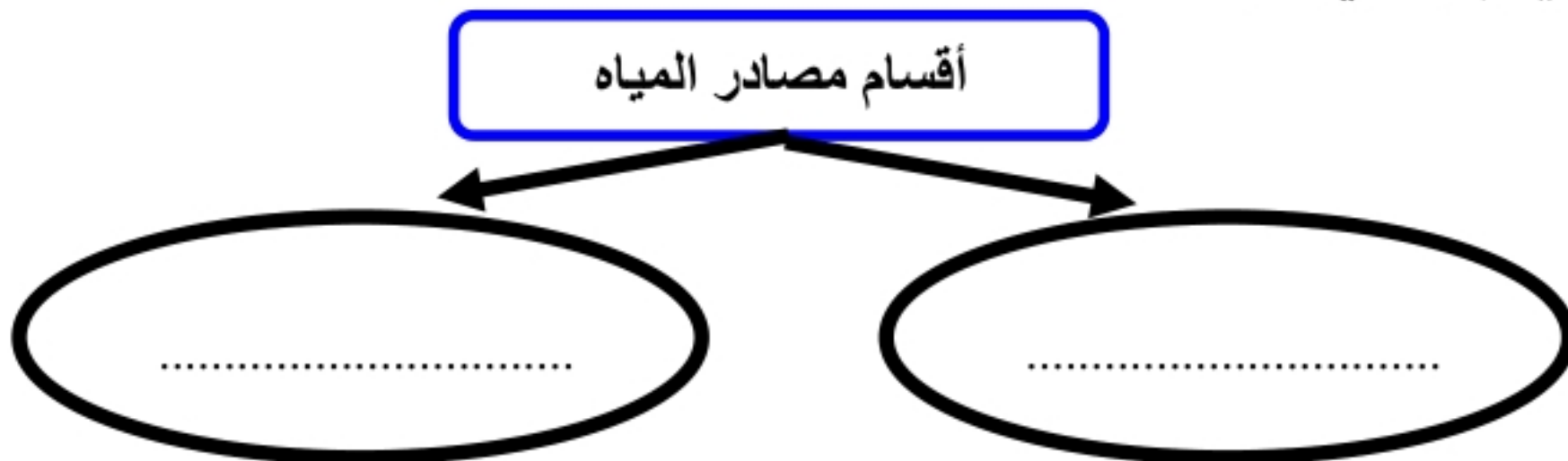
ورقة عمل درس (توزيع السكان – العوامل الطبيعية : التضاريس والمياه)

اسم الطالب : الصف : خامس /

س / اكمل الفراغات التالية بما يناسب ؟

- يكثر السكان في و غير الوعرة ، في حين وجود السكان كلما زاد التضاريس وزادت وعورتها .

س / تنقسم مصادر المياه إلى قسمين اذكرها؟



س / اذكر ثلاثاً من المدن القريبة من المناطق المائية الجاذبة لسكان في وطني المملكة العربية السعودية ؟

ج /



بسم الله الرحمن الرحيم

ورقة عمل درس (توزيع السكان – العوامل الطبيعية : المناخ والموارد)

اسم الطالب : الصف : خامس /

س / ضع علامة (√) أمام العبارة الصحيحة وعلامة (×) أمام العبارة الخاطئة فيما يلي :

- ١ – تزداد الكثافة السكانية في المناطق القطبية
- ٢ – تقل الكثافة السكانية في الصحارى الحارة
- ٣ – يبتعد الإنسان عن المناطق الاستوائية بسبب ارتفاع رطوبة الجو

س / تنقسم الموارد الطبيعية إلى قسمين اذكرها؟

..... / ١

..... / ٢



بسم الله الرحمن الرحيم

ورقة عمل درس (توزيع السكان – العوامل الطبيعية : المناخ والموارد)

اسم الطالب : الصف : خامس /

س / ضع علامة (√) أمام العبارة الصحيحة وعلامة (×) أمام العبارة الخاطئة فيما يلي :

- ١ – تزداد الكثافة السكانية في المناطق القطبية
- ٢ – تقل الكثافة السكانية في الصحارى الحارة
- ٣ – يبتعد الإنسان عن المناطق الاستوائية بسبب ارتفاع رطوبة الجو

س / تنقسم الموارد الطبيعية إلى قسمين اذكرها؟

..... / ١

..... / ٢



بسم الله الرحمن الرحيم

ورقة عمل درس (توزيع السكان – العوامل البشرية)

اسم الطالب : الصف : خامس /

س / ينقسم النشاط الاقتصادي الى ثلاثة أنواع اذكرها ؟



س / ضع علامة (√) أمام العبارة الصحيحة وعلامة (×) أمام العبارة الخاطئة فيما يلي :

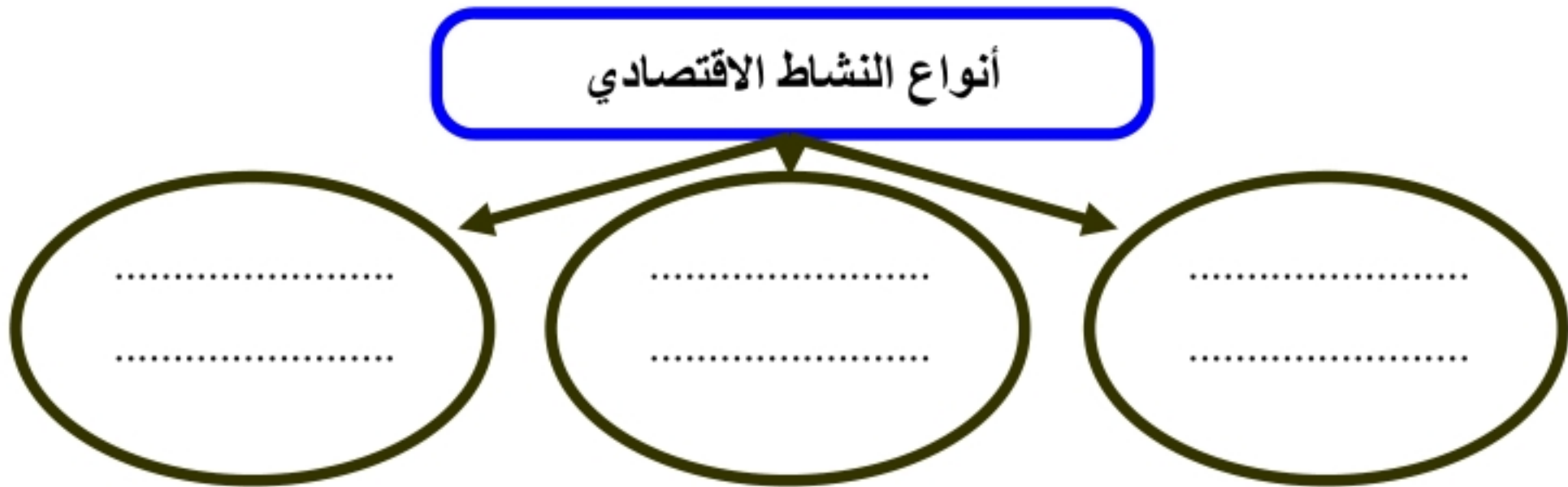
- ١ – النشاط الاقتصادي هو الاعمال والمجهودات التي يؤديها الإنسان ؛ لتلبية احتياجاته الأساسية
- ٢ – تعد النزاعات والحروب أحد أهم العوامل المؤثرة في توزيع السكان
- ٣ – الأمن سبب رئيسي في استقرار السكان وجذبهم

بسم الله الرحمن الرحيم

ورقة عمل درس (توزيع السكان – العوامل البشرية)

اسم الطالب : الصف : خامس /

س / ينقسم النشاط الاقتصادي الى ثلاثة أنواع اذكرها ؟



س / ضع علامة (√) أمام العبارة الصحيحة وعلامة (×) أمام العبارة الخاطئة فيما يلي :

- ١ – النشاط الاقتصادي هو الاعمال والمجهودات التي يؤديها الإنسان ؛ لتلبية احتياجاته الأساسية
- ٢ – تعد النزاعات والحروب أحد أهم العوامل المؤثرة في توزيع السكان
- ٣ – الأمن سبب رئيسي في استقرار السكان وجذبهم

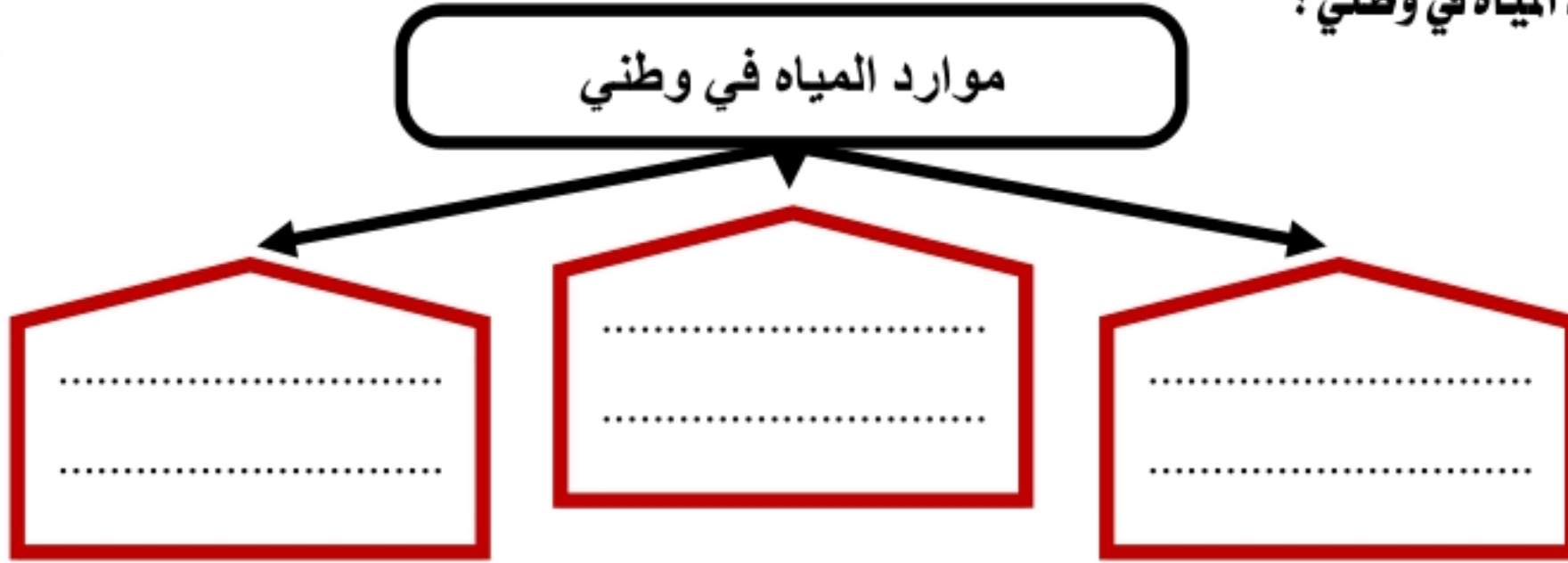


بسم الله الرحمن الرحيم

ورقة عمل درس (المياه)

اسم الطالب : الصف : خامس /

س / اذكر موارد المياه في وطني ؟



س / لماذا لجأت حكومة وطني إلى تحلية مياه البحر ؟

ج /

س / كيف نحافظ على الثروة المائية :

١-

٢-

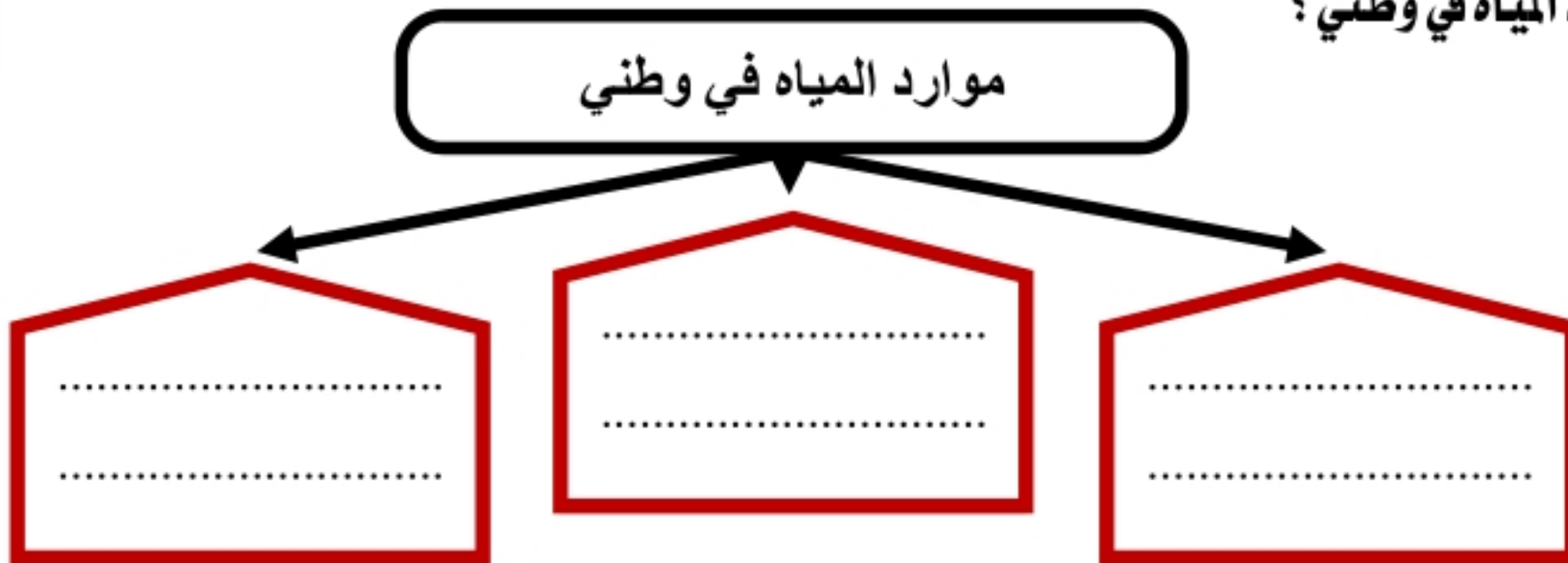


بسم الله الرحمن الرحيم

ورقة عمل درس (المياه)

اسم الطالب : الصف : خامس /

س / اذكر موارد المياه في وطني ؟



س / لماذا لجأت حكومة وطني إلى تحلية مياه البحر ؟

ج /

س / كيف نحافظ على الثروة المائية :

١-

٢-



بسم الله الرحمن الرحيم
ورقة عمل درس (النبات الطبيعي)

اسم الطالب : الصف : خامس /

س / تتأثر النباتات الطبيعية في وطني المملكة العربية السعودية بأحواله المناخية ؛ لذا تتنوع إلى نوعين اذكرهما :

س / اذكر العوامل المؤثرة في نمو النبات الطبيعي :



س / لماذا نحتاج إلى تحديد المحميات الطبيعية في وطني المملكة العربية السعودية ؟

ج /

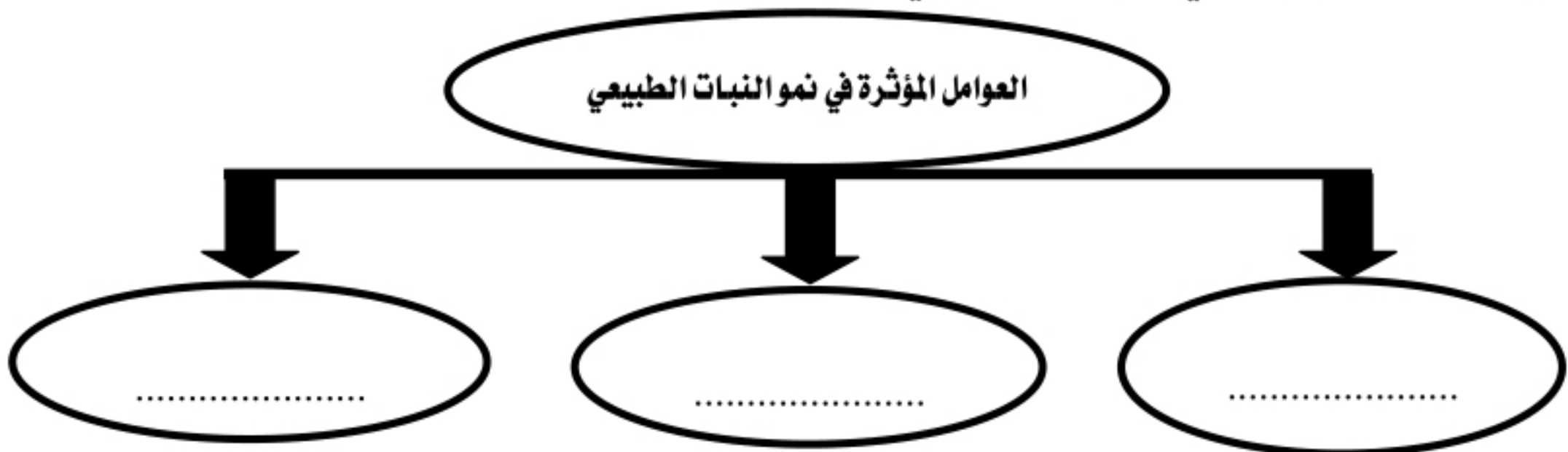


بسم الله الرحمن الرحيم
ورقة عمل درس (النبات الطبيعي)

اسم الطالب : الصف : خامس /

س / تتأثر النباتات الطبيعية في وطني المملكة العربية السعودية بأحواله المناخية ؛ لذا تتنوع إلى نوعين اذكرهما :

س / اذكر العوامل المؤثرة في نمو النبات الطبيعي :



س / لماذا نحتاج إلى تحديد المحميات الطبيعية في وطني المملكة العربية السعودية ؟

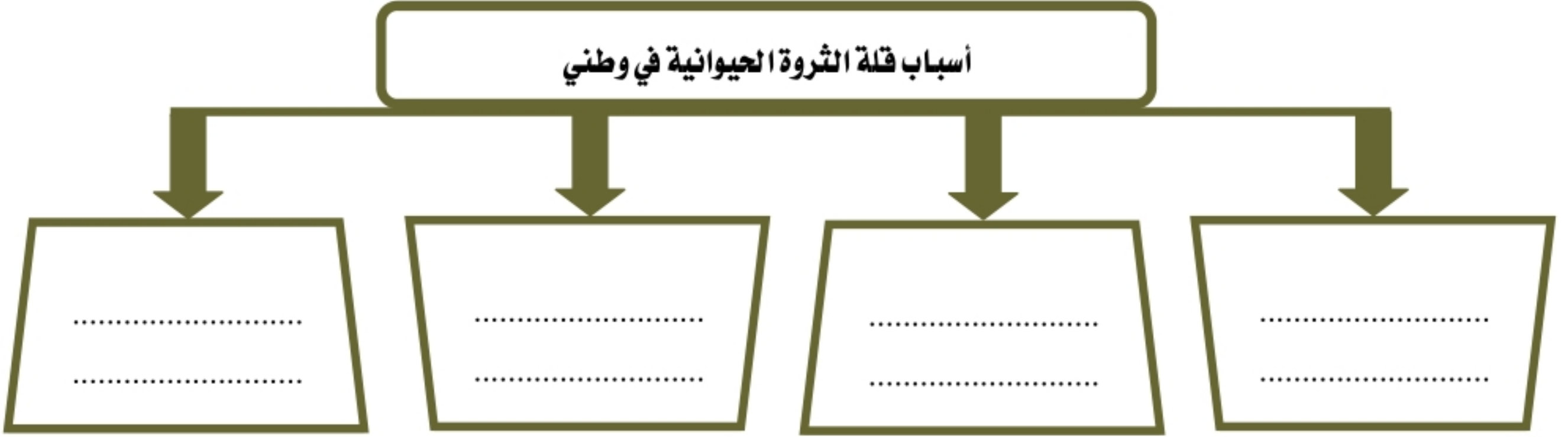
ج /



بسم الله الرحمن الرحيم
ورقة عمل درس (الثروة الحيوانية)

اسم الطالب : الصف : خامس /

س / اذكر أسباب قلة الثروة الحيوانية في وطني المملكة العربية السعودية ؟



س / اذكر أسباب تنمية الثروة الحيوانية ؟

٤

.....

.....

.....

.....

٣

.....

.....

.....

.....

٢

.....

.....

.....

.....

١

.....

.....

.....

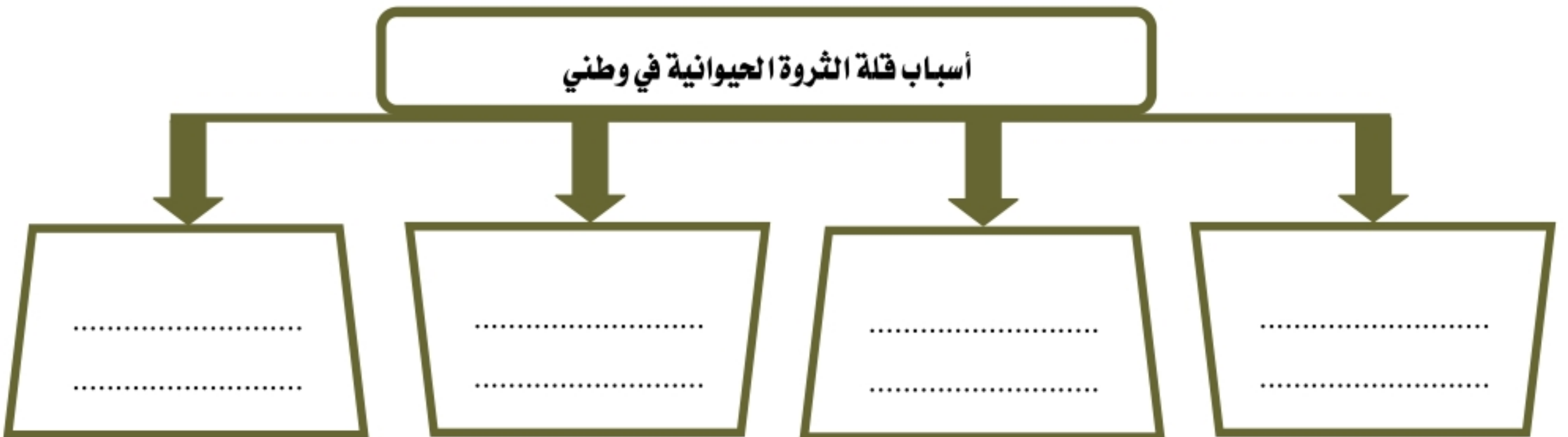
.....



بسم الله الرحمن الرحيم
ورقة عمل درس (الثروة الحيوانية)

اسم الطالب : الصف : خامس /

س / اذكر أسباب قلة الثروة الحيوانية في وطني المملكة العربية السعودية ؟



س / اذكر أسباب تنمية الثروة الحيوانية ؟

٤

.....

.....

.....

.....

٣

.....

.....

.....

.....

٢

.....

.....

.....

.....

١

.....

.....

.....

.....



بسم الله الرحمن الرحيم
ورقة عمل درس (النفط والمعادن)

اسم الطالب : الصف : خامس /

س / أكمل الفراغات التالية بما يناسب :

- أ - يعد النفط من أهم الموارد في وطني المملكة العربية السعودية حيث يأتي في المركز عالمياً في الاحتياط منه .
- ب - يعد حقل الغوار أكبر حقل نفطي في العالم ،
- كما يعد حقل السفانية أكبر حقل نفطي في العالم .
- ج - معظم حقول النفط في وطني المملكة العربية السعودية هي في المنطقة

س / اذكر ثلاثة من أهم المعادن في وطني المملكة العربية السعودية :

أهم المعادن في وطني

.....
-------	-------	-------



بسم الله الرحمن الرحيم
ورقة عمل درس (النفط والمعادن)

اسم الطالب : الصف : خامس /

س / أكمل الفراغات التالية بما يناسب :

- أ - يعد النفط من أهم الموارد في وطني المملكة العربية السعودية حيث يأتي في المركز عالمياً في الاحتياط منه .
- ب - يعد حقل الغوار أكبر حقل نفطي في العالم ،
- كما يعد حقل السفانية أكبر حقل نفطي في العالم .
- ج - معظم حقول النفط في وطني المملكة العربية السعودية هي في المنطقة

س / اذكر ثلاثة من أهم المعادن في وطني المملكة العربية السعودية :

أهم المعادن في وطني

.....
-------	-------	-------



بسم الله الرحمن الرحيم
ورقة عمل درس (الزراعة والرعي)

اسم الطالب : الصف : خامس /

س / اختر الاجابة الصحيحة من بين الأقواس فيما يلي :

- ١ - تأتي الزراعة في الصدارة بين (الأنشطة الاجتماعية - الأنشطة السكانية - الأنشطة الاقتصادية)
٢ - من عوامل نجاح الزراعة (الرمال - البحار - الأراضي الصالحة للزراعة)

س / ما أهم مشكلة تواجه الزراعة في وطني المملكة العربية السعودية ؟

ج /

س / اذكر اسباب تراجع حرفة الرعي في وطني المملكة العربية السعودية :

١-

٢-

٣-



بسم الله الرحمن الرحيم
ورقة عمل درس (الزراعة والرعي)

اسم الطالب : الصف : خامس /

س / اختر الاجابة الصحيحة من بين الأقواس فيما يلي :

- ١ - تأتي الزراعة في الصدارة بين (الأنشطة الاجتماعية - الأنشطة السكانية - الأنشطة الاقتصادية)
٢ - من عوامل نجاح الزراعة (الرمال - البحار - الأراضي الصالحة للزراعة)

س / ما أهم مشكلة تواجه الزراعة في وطني المملكة العربية السعودية ؟

ج /

س / اذكر اسباب تراجع حرفة الرعي في وطني المملكة العربية السعودية :

١-

٢-

٣-



بسم الله الرحمن الرحيم

ورقة عمل درس (الصناعة والتجارة والخدمات)

اسم الطالب : الصف : خامس /

س / ما المقصود بالصناعة؟

ج /

س / عدد أهم مقومات الصناعة؟

أهم مقومات الصناعة

.....
-------	-------	-------	-------	-------	-------

س / عدد أربعة من أهم الصناعات في وطني المملكة العربية السعودية :

- ج / ١ - ٢ - ٣ - ٤ -

س / تنقسم التجارة إلى نوعين اذكرهما؟

أنواع التجارة

.....
-------	-------



بسم الله الرحمن الرحيم

ورقة عمل درس (الصناعة والتجارة والخدمات)

اسم الطالب : الصف : خامس /

س / ما المقصود بالصناعة؟

ج /

س / عدد أهم مقومات الصناعة؟

أهم مقومات الصناعة

.....
-------	-------	-------	-------	-------	-------

س / عدد أربعة من أهم الصناعات في وطني المملكة العربية السعودية :

- ج / ١ - ٢ - ٣ - ٤ -

س / تنقسم التجارة إلى نوعين اذكرهما؟

أنواع التجارة

.....
-------	-------