

تم تحميل وعرض المادة من :



موقع واجباتك

www.wajibati.net

موقع واجباتي منصة تعليمية تساهم بنشر حل المناهج الدراسية بشكل متميز لترتقي بمجال التعليم على الإنترنت ويستطيع الطلاب تصفح حلول الكتب مباشرة لجميع المراحل التعليمية المختلفة



حمل التطبيق من هنا



نموذج اختبار منتصف الفترة لمادة الدراسات الاجتماعية للصف الثاني المتوسط

الدرجة:

20

اسم الطالب

الفصل

أ / ب

السؤال الاول: ضع علامة (√) أمام العبارة الصائبة وعلامة (x) أمام العبارة الخاطئة لما يأتي؟

5 درجات

1	الترابط والتنسيق المشترك بين دول العالم العربي والاسلامي يخدم العالم أجمع
2	يتفق الناس جميعا في ميولهم نحو الهوايات
3	عندما اخطط لتنظيم وقتي لا ابالي بحساب الزمن
4	تعد اندونيسيا أكبر دولة اسلامية من حيث عدد السكان
5	يقصد بالتركيب النوعي للسكان توزيعهم حسب الأعمار

درجتين

السؤال الثاني: عبر بأسلوبك ورأيك في الموضوع التالي؟

احمد طالب في الصف الثاني المتوسط قام بإعداد خطة للمذاكرة، كيف يستطيع معرفة ان تخطيطه غير صحيح وماهي الحلول المناسبة للتغلب على المشكلات التي قد تواجهه عند تطبيق ما خطط له:

.....

.....

.....

4 درجات

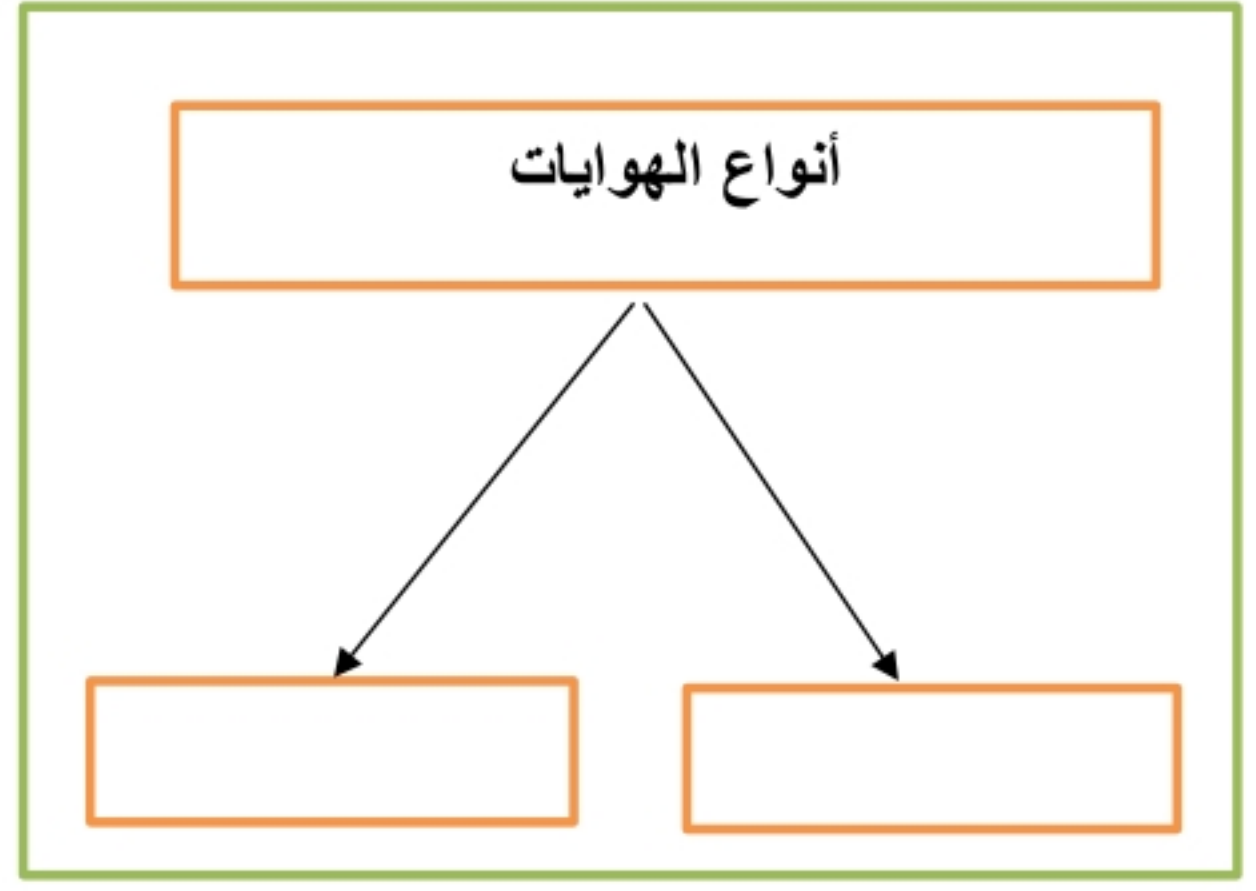
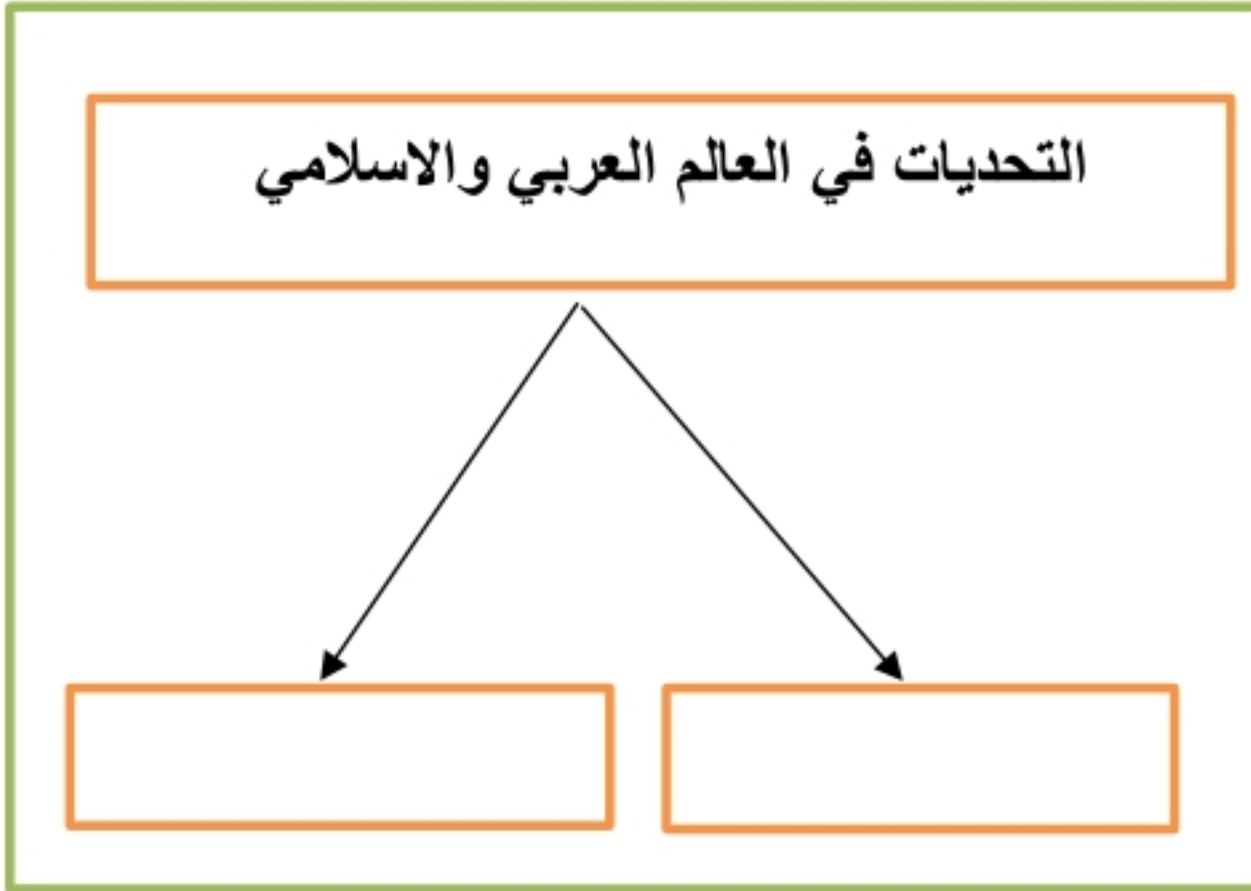
السؤال الثالث: اختر الاجابة الصحيحة في الجدول ادناه؟

1	العاصمة السابقة لنيجيريا :	2	ترتيب الاعمال وفق أهميتها والزمن لتنفيذها :
أ	ابوجا	أ	الأولويات
ب	لاجوس	ب	الهوايات
ج	كانو	ج	تقويم التخطيط
د	إبادان	د	ادارة الوقت
3	تعتبر اندونيسيا ثاني اكبر بلد في العالم في انتاج :	4	من اسباب انتشار الفقر في العالم العربي والاسلامي
أ	النفط	أ	قوة الانتاج
ب	الغاز الطبيعي	ب	البطالة والامية
ج	الذهب	ج	الاستقرار
د	القصدير	د	ازدهار التنمية

يتبع

4 درجات

السؤال الرابع: أكل خرائط المفاهيم التالية؟



3 درجات

السؤال الخامس: ضع الرقم الموجود امام المجموعة الاولى امام يناسبها من المجموعة الثانية؟

المجموعة الثانية	الرقم	المجموعة الأولى	الرقم
المملكة العربية السعودية		جبال طوروس	1
مصر		هضبة نجد	2
باكستان		نهر النيل	3
تركيا			

درجتين

السؤال السادس: عزيزي الطالب أمامك الخريطة الطبيعية لجمهورية ألبانيا الاسلامية تأمل هذه الخريطة



ثم أجب على الاسئلة ادناه؟

(أ) أين تقع البانيا من قارة أوروبا؟

.....

(ب) ماذا يحد البانيا من جهة الشرق؟

.....

(ج) صف بإيجاز السطح في البانيا؟

.....

(د) ماهي عاصمة البانيا؟

.....

انتهت الاسئلة / محمد القرني

نموذج إجابة

المملكة العربية السعودية

وزارة التعليم

إدارة التعليم

مدرسة

المادة: الدراسات الاجتماعية

الصف: الثاني المتوسط

اختبار منتصف الفترة

الفصل الدراسي الثالث لعام 1444هـ

نموذج اختبار منتصف الفترة لمادة الدراسات الاجتماعية للصف الثاني المتوسط

الدرجة:

20

اسم الطالب

نموذج إجابة

الفصل

أ / ب

السؤال الأول: ضع علامة (√) أمام العبارة الصائبة وعلامة (x) أمام العبارة الخاطئة لما يأتي؟

5 درجات

1	الترابط والتنسيق المشترك بين دول العالم العربي والاسلامي يخدم العالم أجمع	√
2	يتفق الناس جميعا في ميولهم نحو الهويات	x
3	عندما اخطط لتنظيم وقتي لا ابالي بحساب الزمن	x
4	تعد اندونيسيا أكبر دولة اسلامية من حيث عدد السكان	√
5	يقصد بالتركيب النوعي للسكان توزيعهم حسب الأعمار	x

درجتين

السؤال الثاني: عبر بأسلوبك ورأيك في الموضوع التالي؟

احمد طالب في الصف الثاني المتوسط قام بإعداد خطة للمذاكرة، كيف يستطيع معرفة ان تخطيطه غير صحيح وماهي الحلول المناسبة للتغلب على المشكلات التي قد تواجهه عند تطبيق ما خطط له:

يعرف ان التخطيط غير صحيح: عندما يشعر بالقلق وضيق الوقت وتراكم الاعمال

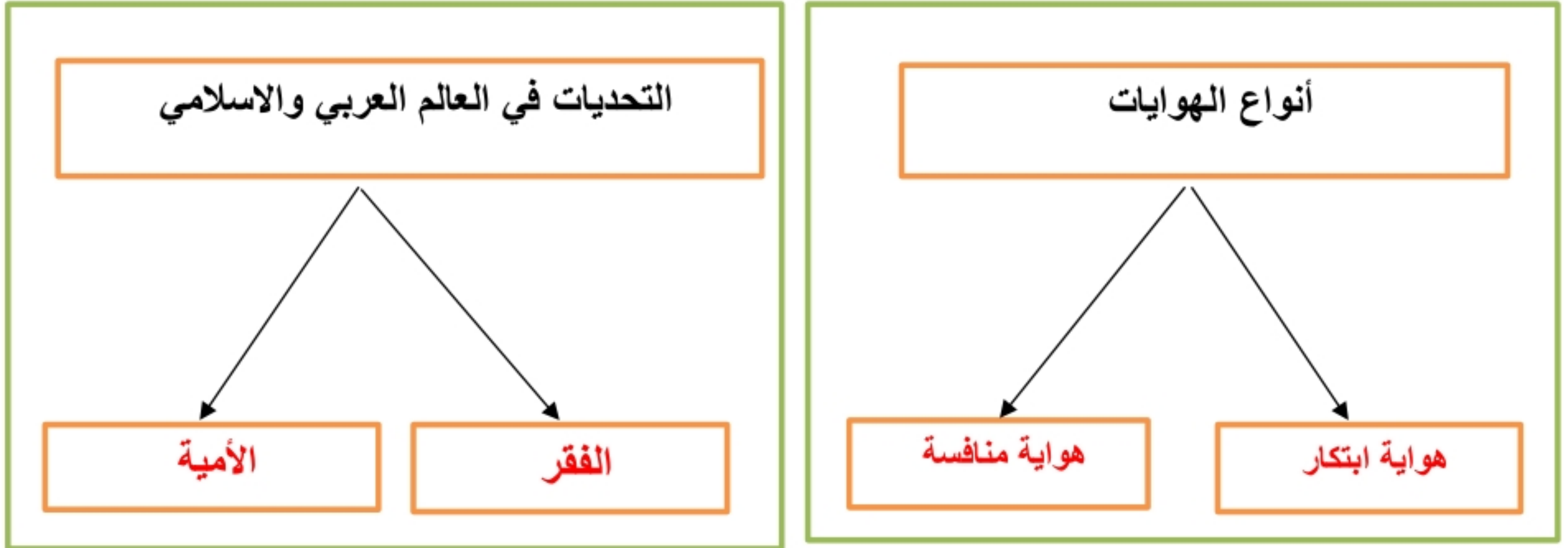
الحلول المناسبة هي : اختيار المكان والوقت المناسبين للمذاكرة و الابتعاد عن كل ما يؤثر على المذاكرة كالجوال والتلفاز وتحديد وقت للاستراحة .

4 درجات

السؤال الثالث: اختر الاجابة الصحيحة في الجدول ادناه؟

1	العاصمة السابقة لنيجيريا :	2	ترتيب الاعمال وفق أهميتها والزمن لتنفيذها :
أ	ابوجا	أ	الأولويات
ب	لاجوس	ب	الهويات
ج	كانو	ج	تقويم التخطيط
د	إبادان	د	إدارة الوقت
3	تعتبر اندونيسيا ثاني اكبر بلد في العالم في انتاج :	4	من اسباب انتشار الفقر في العالم العربي والاسلامي
أ	النفط	أ	قوة الانتاج
ب	الغاز الطبيعي	ب	البطالة والامية
ج	الذهب	ج	الاستقرار
د	القصدير	د	ازدهار التنمية

يتبع



الرقم	المجموعة الأولى	الرقم	المجموعة الثانية
1	جبال طوروس	2	المملكة العربية السعودية
2	هضبة نجد	3	مصر
3	نهر النيل		باكستان
		1	تركيا



ثم أجب على الاسئلة ادناه؟

(أ) أين تقع ألبانيا من قارة أوروبا؟

جنوب شرق أوروبا

(ب) ماذا يحده ألبانيا من جهة الشرق؟

مقدونيا واليونان

(ج) صف بإيجاز السطح في ألبانيا؟

مرتفعات جبلية في الشرق وسهول ساحلية في الغرب

(د) ماهي عاصمة ألبانيا؟

تيرانا

انتهت الاسئلة / محمد القرني

المادة / الدراسات الاجتماعية

الصف / الثاني المتوسط

الزمن / ٤٥ دقيقة

٢٠



وزارة التعليم

Ministry of Education

المملكة العربية السعودية

وزارة التعليم

إدارة تعليم

مكتب تعليم

متوسطة

اختبار منتصف الفصل الدراسي الثالث

لعام / ١٤٤٥ هـ

اسم الطالب / الصف /

السؤال الأول / اختر الإجابة الصحيحة في الجمل التالية وذلك بوضع علامة (✓) في المربع الصحيح.

١	تبلغ مساحة العالم العربي والإسلامي نحو	٢	من أهمية موقع العالم العربي والإسلامي
أ- <input type="checkbox"/>	٣٤ مليون كم ^٢	أ- <input type="checkbox"/>	وقوعه في قارات العالم القديم
ب- <input type="checkbox"/>	٤٣ مليون كم ^٢	ب- <input type="checkbox"/>	مهد الديانات السماوية الثلاث
ج- <input type="checkbox"/>	٤١ مليون كم ^٢	ج- <input type="checkbox"/>	إطلالته على مسطحات مائية مهمة
د- <input type="checkbox"/>	١٤ مليون كم ^٢	د- <input type="checkbox"/>	جميع ما سبق
٣	يشغل العالم العربي والإسلامي نحو	٤	يبلغ عدد الدول الإسلامية
أ- <input type="checkbox"/>	٨١ دائرة عرضية	أ- <input type="checkbox"/>	٥٨
ب- <input type="checkbox"/>	٨٢ دائرة عرضية	ب- <input type="checkbox"/>	٢٢
ج- <input type="checkbox"/>	٨٣ دائرة عرضية	ج- <input type="checkbox"/>	٥٦
د- <input type="checkbox"/>	٨٠ دائرة عرضية	د- <input type="checkbox"/>	٥٧
٥	أكبر دول العالم الإسلامي من حيث المساحة	٦	أكبر دول العالم الإسلامي من حيث عدد السكان
أ- <input type="checkbox"/>	المملكة العربية السعودية	أ- <input type="checkbox"/>	إيران
ب- <input type="checkbox"/>	اندونيسيا	ب- <input type="checkbox"/>	إندونيسيا
ج- <input type="checkbox"/>	الجزائر	ج- <input type="checkbox"/>	مصر
د- <input type="checkbox"/>	كازاخستان	د- <input type="checkbox"/>	كازاخستان
٧	تقع في جنوب شرق اسيا	٨	تقع في وسط افريقيا
أ- <input type="checkbox"/>	البانيا	أ- <input type="checkbox"/>	نيجريا
ب- <input type="checkbox"/>	اندونيسيا	ب- <input type="checkbox"/>	اندونيسيا
ج- <input type="checkbox"/>	نيجيريا	ج- <input type="checkbox"/>	البانيا
د- <input type="checkbox"/>	تركيا	د- <input type="checkbox"/>	المغرب
٩	تقع في جنوب شرق اوروبا	١٠	من نتائج البطالة
أ- <input type="checkbox"/>	نيجيريا	أ- <input type="checkbox"/>	انتشار الجهل
ب- <input type="checkbox"/>	اندونيسيا	ب- <input type="checkbox"/>	الحروب
ج- <input type="checkbox"/>	اوكرانيا	ج- <input type="checkbox"/>	انتشار الفقر
د- <input type="checkbox"/>	البانيا	د- <input type="checkbox"/>	لا شيء مما سبق

السؤال الثاني/ ضع علامة (✓) أمام العبارة الصحيحة و علامة (X) أمام العبارة الخاطئة:



{ }	تعاود مساحة العالم العربي والاسلامي سدس مساحة اليابسة	-١
{ }	من اشهر المحاصيل الزراعية في نيجيريا الفول السوداني	-٢
{ }	تبلغ مساحة العالم العربي نحو ١٤ مليون كم ^٢	-٣
{ }	تشكل الجبال المظهر السائد في العالم العربي والاسلامي	-٤

السؤال الثالث : أصل بين العمود (أ) بما يناسبه من العمود (ب) بوضع الرقم المناسب أمامه فيما يلي :

(أ)		(ب)	
١	العالم العربي		هي فقدان القدرة على القراءة والكتابة
٢	العالم الإسلامي		هي الدولة ذات المستوى الاقتصادي المنخفض
٣	التركيب النوعي		هو توزيع السكان إلى ذكور وإناث
٤	التركيب العمري		الدول الأعضاء في جامعة الدول العربية
٥	الدولة الفقيرة		الدول الأعضاء في منظمة التعاون الإسلامي
٦	الأمية		هو تقسيم السكان إلى فئات حسب أعمارهم

انتهت الأسئلة

إعداد : خالد الحربي



نموذج اختبار منتصف الفترة
الفصل الدراسي الثالث 1444
المادة: الدراسات الاجتماعية
الصف: الثاني المتوسط



وزارة التعليم
ادارة التعليم
مكتب تعليم
مدرسة

الدرجة / 20

الفصل

إعداد / محمد القرني

اسم الطالب

العالم العربي
العالم الاسلامي
التركيب النوعي
الأمية
لاجوس
سورابايا
التركيب العمري

السؤال الأول: مستعينا بالشكل المجاور ضع المصطلح امام ما يناسبه من العبارات ادناه؟

- () ❖ العاصمة السابقة لدولة نيجيريا .
() ❖ مركز صناعي وميناء بحري هام لإندونيسيا .
() ❖ مجموعة الدول الاعضاء في جامعة الدول العربية .
() ❖ توزيع السكان الى ذكور واث و نسبة كل منهم الى جملة السكان .
() ❖ هي فقدان القدرة على القراءة والكتابة .

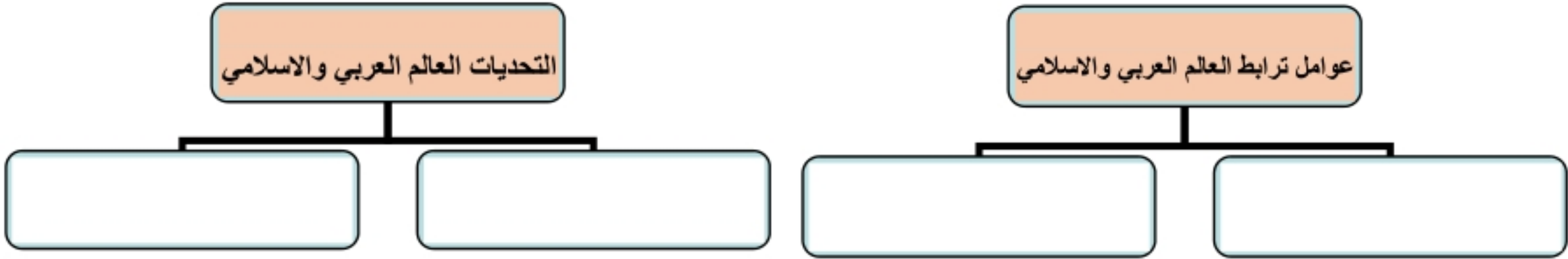
5 درجات

السؤال الثاني : ضع الرقم امام المجموعة الاولى امام ما يناسبه من المجموعة الثانية ؟

الرقم	المجموعة الأولى	الرقم	المجموعة الثانية
1	هضبة بلوختان		المملكة العربية السعودية
2	جبال الحجاز		مصر
3	نهر النيل		تركيا
			باكستان

3 درجات

السؤال الثالث : أكمل خرائط المفاهيم التالية ؟



4 درجات

السؤال الرابع : (أ) قارن بين اندونيسيا و ألبانيا وفق الجدول؟

ألبانيا	وجه المقارنة	اندونيسيا
	الموقع	
	المناخ	
	العاصمة	

4 درجات

(ب) وضح باختصار اهمية موقع العالم العربي والاسلامي ؟

السؤال الخامس: ضع علامة (√) امام العبارة الصائبة و علامة (x) امام العبارة الخاطئة ؟

1	الترابط بين دول العالم العربي والاسلامي يخدم العالم أجمع
2	يتركز ويتوزع أغلب سكان العالم العربي والاسلامي في قارتي آسيا وافريقيا
3	تعادل مساحة العالم العربي والاسلامي ربع مساحة اليابسة
4	تقع نيجيريا في وسط قارة افريقيا على المحيط الاطلسي

4 درجات



نموذج اختبار منتصف الفترة
لفصل الدراسي الثالث 1444
لمادة: الدراسات الاجتماعية
الصف: الثاني المتوسط

نموذج إجابة

MINISTRY OF EDUCATION

وزارة التعليم
إدارة التعليم
مكتب تعليم
مدرسة

الدرجة / 20

إعداد / محمد القرني (إجابة) الفصل

اسم الطالب

العالم العربي
العالم الإسلامي
التركيب النوعي
الأمية
لاجوس
سورابايا
التركيب العمري

السؤال الأول: مستعينا بالشكل المجاور ضع المصطلح امام ما يناسبه من العبارات ادناه؟

- ❖ (لاجوس) العاصمة السابقة لدولة نيجيريا .
- ❖ (سورابايا) مركز صناعي وميناء بحري هام لإندونيسيا .
- ❖ (العالم العربي) مجموعة الدول الاعضاء في جامعة الدول العربية .
- ❖ (التركيب النوعي) توزيع السكان الى ذكور واث ونسبة كل منهم الى جملة السكان .
- ❖ (الأمية) هي فقدان القدرة على القراءة والكتابة .

5 درجات

السؤال الثاني : ضع الرقم امام المجموعة الاولى امام ما يناسبه من المجموعة الثانية ؟

الرقم	المجموعة الأولى	الرقم	المجموعة الثانية
1	هضبة بلوختان	2	المملكة العربية السعودية
2	جبال الحجاز	3	مصر
3	نهر النيل		تركيا
		1	باكستان

3 درجات

السؤال الثالث : أكمل خرائط المفاهيم التالية ؟



4 درجات

السؤال الرابع : (أ) قارن بين اندونيسيا و ألبانيا وفق الجدول؟

ألبانيا	وجه المقارنة	اندونيسيا
جنوب شرق أوروبا	الموقع	جنوب شرق آسيا
مناخ البحر الأبيض المتوسط	المناخ	مناخ استوائي
تيرانا	العاصمة	جاكرتا

4 درجات

(ب) وضح باختصار أهمية موقع العالم العربي والإسلامي ؟
يقع وسط العالم القديم (آسيا وإفريقيا وأوروبا) ومهد الديانات السماوية (اليهودية والنصرانية والإسلام) ويطل على مسطحات مائية ومضائق هامة ومرور طرق التجارة العالمية بأراضيه

السؤال الخامس: ضع علامة (√) امام العبارة الصائبة وعلامة (×) امام العبارة الخاطئة ؟

√	الترابط بين دول العالم العربي والإسلامي يخدم العالم أجمع	1
√	يتركز ويتوزع أغلب سكان العالم العربي والإسلامي في قارتي آسيا وإفريقيا	2
×	تعادل مساحة العالم العربي والإسلامي ربع مساحة اليابسة	3
√	تقع نيجيريا في وسط قارة إفريقيا على المحيط الأطلسي	4

4 درجات



التوقيع	اسم المصحح :	الدرجة	 وزارة التعليم Ministry of Education	المملكة العربية السعودية وزارة التعليم الإدارة العامة للتعليم بمنطقة مكتب التعليم مدرسة
التوقيع	اسم المراجع : ٢٠	 رؤية 2030	

رقم الجلوس	الصف الثاني متوسط	العام الدراسي ١٤٤٥ هـ	أسئلة اختبار منتصف الفصل الثالث (الدور الأول)
عدد الصفحات : ٢	الزمن : ساعة ونصف	المادة : اجتماعيات	اسم الطالب :

السؤال الأول

استعن بالله ثم اجب على الاسئلة

٢٠

ضع علامة (√) أمام العبارة الصحيحة وعلامة (X) أمام العبارة الخاطئة

أ

()	يصل عدد الجزر الإندونيسية إلى عشرة آلاف جزيرة .	١
()	تساوي مساحة العالم العربي نحو ١٤ مليون كم ٢ .	٢
()	تقع ألبانيا في جنوب شرق أوروبا	٣
()	تعتبر لاجوس العاصمة الحالية لنيجيريا وتقع في الوسط	٤
()	من العوامل البشرية المؤثرة في توزيع السكان الأنشطة الاقتصادية .	٥

السؤال الثاني

أربط بين العمود [أ] بما يناسبه في العمود [ب] بوضع الرقم المناسب في مربع الإجابة :

م	العمود [أ]	الإجابة	العمود [ب]
١	الدول الأعضاء في منظمة التعاون الإسلامي		الأمية
٢	الدول ذات المستوى الاقتصادي المنخفض		البطالة
٣	هم الأفراد الذين يعيشون بلا عمل		العالم الإسلامي
٤	الدول التي تضمها جامعة الدول العربية		الدول الفقيرة
٥	فقدان القدرة على القراءة والكتابة		الدول العربية

السؤال الثالث

ضع دائرة على الحرف الذي يسبق الإجابة الصحيحة لكل مما يلي :

١٠

١- من آثار الأمية في العالم العربي والإسلامي:

أ ارتفاع تنافسية الاقتصاد ب ركود التنمية ج انتشار الصحة

٢- تزداد الكثافة السكانية في المناطق :

أ	الرعية	ب	الرملية	ج	الصناعية
٣ - تمثل مساحة العالم العربي والإسلامي بالنسبة إلى مساحة العالم :					
أ	الثالث	ب	الربع	ج	الخمس
٤-: تطل نيجيرا من الجنوب على :					
أ	المحيط الهندي	ب	خليج غينيا	ج	خليج البنغال
٥- تعد مركزا صناعيا وميناء بحريا لإندونيسيا					
أ	سورابايا	ب	دورسو	ج	لاجوس

السؤال الرابع

٥

اذكر اثنين فقط لكل مما يلي :
١- من العوامل التي ساعدت على انتشار الفقر في العالم العربي والإسلامي:


أ -ب-.....

٢- يتوزع أغلب سكان العالم العربي والإسلامي بين قارتي :

أ -ب-.....

٣- من الخصائص السكانية التي تميز العالم العربي والإسلامي :

أ -ب-.....

الدراسات الاجتماعية	المادة	<p>الفصل الدراسي الثالث</p> <p>العام الدراسي ١٤٤٥ هـ</p>  	المملكة العربية السعودية
السابعة والثامنة والتاسعة	الوحدة		وزارة التعليم
المتوسط	المرحلة		الإدارة العامة للتربية والتعليم
ثاني	الصف		بمحافظة جدة
رباب هوساوي	المعلمة		البيان النموذجية
			بنك الأسئلة لمادة: الدراسات الاجتماعية

اختاري الإجابة الصحيحة :

١	يمتد العالم العربي الإسلامي من المحيط :		
	(أ) الأطلسي غرباً إلى الهادئ شرقاً	(ب) الهندي شمالاً والهادئ غرباً	(ج) المتجمد الشمالي جنوباً
	(د) الهندي شمالاً والهادئ		
٢	يقع العالم العربي الإسلامي في وسط العالم القديم بين قارة :		
	(أ) إفريقيا وأمريكا الجنوبية والشمالية	(ب) آسيا وأوروبا وإفريقيا	(ج) أمريكا الشمالية وآسيا وأوروبا
	(د) أستراليا وأوروبا وآسيا		
٣	أشهر الجبال التي تقع في شمال غرب إفريقيا :		
	(أ) الحجاز	(ب) طوروس	(ج) أطلس
	(د) زاجروس		
٤	أشهر الجبال التي تقع في غرب المملكة العربية السعودية :		
	(أ) طوروس	(ب) أطلس	(ج) زاجروس
	(د) الحجاز		
٥	أشهر هضاب العالم العربي والإسلامي تقع غرب باكستان :		
	(أ) بلوختان	(ب) نجد	(ج) الدببة
	(د) الصمان		
٦	السهول التي تتكون بسبب إرساب الأنهار على الضفتين وفي دلتا ويطلق عليها :		
	(أ) الساحلية	(ب) البركانية	(ج) الجبلية
	(د) الفيضية		
٧	العوامل المؤثرة في مناخ العالم العربي والإسلامي:		
	(أ) النبات الطبيعي	(ب) توزيع اليابس والماء	(ج) الإنتاج الحيواني
	(د) خصوبة التربة		
٨	يؤدي اختلاف مقادير الأمطار المتساقطة على العالم العربي والإسلامي إلى:		
	(أ) تنوع النباتات الطبيعية	(ب) تشابه المناخ	(ج) اختلاف الموارد البشرية
	(د) انخفاض موارد المياه		
٩	ينتج عن تنوع الخصائص الطبيعية للعالم العربي والإسلامي:		
	(أ) تشابه الموارد الاقتصادية	(ب) موقعها الفلكي	(ج) تنوع الموارد الطبيعية
	(د) صغر المساحة		

١٠ يتوزع أغلب سكان العالم العربي والإسلامي بين قارتي :			
(أ) أوروبا وأمريكا الشمالية	(ب) استراليا وآسيا	(ج) آسيا وأفريقيا	(د) أمريكا الجنوبية
١١ العوامل الطبيعية التي تؤثر في توزيع السكان :			
(أ) الكثافة السكانية	(ب) التضاريس	(ج) سيادة الجفاف	(د) تشابه المحاصيل
١٢ يتركز سكان العالم العربي والإسلامي في المناطق :			
(أ) السهلية	(ب) الصحراوية	(ج) الجبلية	(د) الجليدية
١٣ تزداد الكثافة السكانية في المناطق :			
(أ) الرعوية	(ب) الرملية	(ج) التحليلية	(د) الصناعية
١٤ الدول الأعضاء في جامعة الدول العربية يطلق عليها:			
(أ) العالم الإسلامي	(ب) منظمة دول الخليج العربي	(ج) العالم العربي	(د) منظمة دول مجلس التعاون
١٥ العوامل التي تربط العالم العربي والإسلامي :			
(أ) الإشراف على الخليج العربي	(ب) اللغة العربية	(ج) اصولهم واحدة	(د) الأنظمة المتماثلة
١٦ انتشر الإسلام في قارة آسيا عن طريق :			
(أ) الدعوة إلى الإسلام	(ب) الرحلات الداخلية والخارجية	(ج) الكتب العلمية والدينية	(د) الفتوحات الإسلامية
١٧ دخل الإسلام إلى دولة إندونيسيا عن طريق :			
(أ) التجار	(ب) الحروب	(ج) الاستعمار	(د) الدعوة
١٨ تقع دولة إندونيسيا في :			
(أ) جنوب شرق آسيا	(ب) شمال غرب أفريقيا	(ج) جنوب غرب أستراليا	(د) شمال شرق أمريكا
١٩ أهم جزر إندونيسيا :			
(أ) المالديف	(ب) سومطرة	(ج) فرسان	(د) فيلكا
٢٠ يحد إندونيسيا من الشمال :			
(أ) بحر الفلبين	(ب) تايلند	(ج) ماليزيا	(د) فيتنام
٢١ أهم مظاهر السطح في وسط إندونيسيا :			
(أ) سهول ساحلية	(ب) كثبان رملية	(ج) منحدرات بحرية	(د) مرتفعات جبلية
٢٢ يتميز مناخ دولة إندونيسيا بأنه :			
(أ) صحراوي	(ب) مداري	(ج) استوائي	(د) قطبي

٢٣	عاصمة إندونيسيا تقع على الساحل الشمالي الغربي من جزيرة جاوة ويطلق عليها :		
	(أ) سورابايا	(ب) جاكرتا	(ج) برونوي
	(د) كمبوديا		
٢٤	تقع نيجيريا في.		
	(أ) شمال آسيا	(ب) جنوب أوروبا	(ج) وسط أفريقيا
	(د) غرب استراليا		
٢٥	لدولة نيجيريا مناخان تفصلهما دائرة العرض (١٠) شمالاً فمناخها:		
	(أ) استوائي ومداري	(ب) قطبي وصحراوي	(ج) استوائي وصحراوي
	(د) قطبي ومداري		
٢٦	عاصمة نيجيريا:		
	(أ) جاكرتا	(ب) كانو	(ج) لاجوس
	(د) أبوجا		
٢٧	العاصمة السابقة لدولة نيجيريا وهي الميناء الرئيسي على المحيط الأطلسي:		
	(أ) كانو	(ب) لاجوس	(ج) أبوجا
	(د) إبادان		
٢٨	يتميز مناخ ألبانيا بأنه مناخ :		
	(أ) البحر الأبيض المتوسط	(ب) البحر الأحمر	(ج) البحر الأسود
	(د) بحر العرب		
٢٩	عاصمة ألبانيا :		
	(أ) دورسو	(ب) تيرانا	(ج) كانو
	(د) جاكرتا		
٣٠	انتشرت البطالة في العالم العربي والإسلامي لأسباب عدة منها :		
	(أ) انخفاض عدد السكان	(ب) التركيز على التعليم العملي	(ج) قلة الصناعة
	(د) زيادة امتلاك الأراضي		
٣١	نتائج البطالة في العالم العربي والإسلامي :		
	(أ) انتشار الفقر	(ب) انعدام نسبة الإعالة	(ج) الاستقرار المهني
	(د) انتشار الجهل		
٣٢	أسباب انتشار الفقر في العالم العربي والإسلامي:		
	(أ) انخفاض قدرة السكان	(ب) انتشار الأمية	(ج) سوء استثمار الثروات الطبيعية
	(د) زيادة الديون الخارجية		
٣٣	نتائج تفشي الفقر بين شعوب دول العالم العربي والإسلامي:		
	(أ) تدهور المستوى الصحي	(ب) زيادة السكان الكبيرة	(ج) سيطرة الاستعمار
	(د) الحروب		
٣٤	العوامل التي ساعدت على انتشار الأمية في العالم العربي والإسلامي :		
	(أ) انتشار الأمراض	(ب) انخفاض الإنتاجية	(ج) الانشغال بالحروب
	(د) ركود التنمية		

٣٥	آثار الأمية في العالم العربي والإسلامي :		
	(أ) انتشار الأمراض	(ب) الانشغال بالحروب	(ج) انشغال المجتمعات
٣٦	يتميز جنوب شرق شبه الجزيرة العربية بوجود صحراء:		
	(أ) الربع الخالي	(ب) الدهناء	(ج) النفوذ
٣٧	ترتيب الأعمال والأنشطة وفق أهميتها مع مراعاة الزمن المطلوب لتنفيذها :		
	(أ) الأولويات	(ب) إدارة الوقت	(ج) الإنجاز
٣٨	الإرشادات التي يستعان بها في التخطيط :		
	(أ) عدم تخصيص وقت للراحة	(ب) تسجيل المواعيد النهائية	(ج) إهدار الوقت أثناء العمل
٣٩	الإجراءات التي ترصد بها المشكلات أثناء تنفيذ مراحل التخطيط :		
	(أ) التسويف والإهمال	(ب) الصدق والواقعية	(ج) الكذب والغش
٤٠	يمكن اكتشاف خطأ التخطيط من خلال .		
	(أ) الإعداد الجيد	(ب) الشعور بالراحة	(ج) تنظيم الوقت
٤١	نشاط أو اهتمام يمارسه الفرد من أجل تلبية الحاجات الذاتية وتنمية المهارات والقدرات يطلق عليها:		
	(أ) الإبداع	(ب) المنافسة	(ج) الابتكار
٤٢	ضوابط الهواية :		
	(أ) إهدار الوقت	(ب) عدم تحفيزها للعمل	(ج) تأديتها في جميع المناسبات
٤٣	فوائد ممارسة الهواية :		
	(أ) فقدان الذاكرة	(ب) الشعور بالخمول	(ج) الإسهام في بناء الشخصية
٤٤	تحقق بعض الطالبات في دراستهن وذلك بسبب :-		
	(أ) تحديد الأعمال العاجلة	(ب) تخصيص وقت للراحة	(ج) عدم التخطيط الجيد
٤٥	تساهم هواية السفر داخل الوطن على تنمية مهارة :		
	(أ) البحث والاستكشاف	(ب) التفكير والتركيز	(ج) الابتكار والادخار
٤٦	السلبات المترتبة على التخطيط الغير جيد :		
	(أ) الشعور بالراحة	(ب) الإعداد الجيد	(ج) تنظيم الوقت

٤٧	هو ما يبذل من الجهود لتصنيع السلع وتوفيرها وتوفير الخدمات التي يستهلكها المجتمع لتلبية احتياجاته ورغبات افراده يطلق عليه:		
	(أ) النشاط الاقتصادي	(ب) النشاط السياسي	(ج) النشاط الأمني
٤٨	مراحل النشاط الاقتصادي متعددة منها :		
	(أ) تطوير الأنظمة	(ب) التخصيص	(ج) الحاجة والرغبة
٤٩	يتحكم في تحديد مستوى الإنتاجية عدد من العوامل من أبرزها:		
	(أ) الدافعية	(ب) المواد الخام	(ج) الإبداع
٥٠	القدرة على إنتاج سلع وخدمات تحقق الجودة والفعالية في الأسواق العالمية يطلق عليها:		
	(أ) الإنتاج	(ب) التنافسية	(ج) الاستهلاك
٥١	تعد المملكة العربية السعودية عضواً من مجموعة العشرين وذلك بسبب احتواءها على مورد كبير من:		
	(أ) النفط	(ب) التجارة	(ج) الرعي
٥٢	أبرز القطاعات الإنتاجية في المملكة العربية السعودية قطاع الصناعات :		
	(أ) الخشبية	(ب) التطويرية	(ج) لمواد البناء
٥٣	القيمة الإجمالية لمنتجات السلع والخدمات التي تنتج في الدولة في زمن محدد يُطلق عليها:		
	(أ) تحقيق الأهداف	(ب) الناتج المحلي	(ج) استعمال الموارد
٥٤	يحقق التنوع الاقتصادي عدداً من الفوائد أبرزها :		
	(أ) قلة الناتج المحلي	(ب) إهدار فرص العمل	(ج) تحسين مستويات المعيشة
	(د) ارتفاع الواردات		

٢- في الفقرات من (1) إلى (١٤) زاجي بين المصطلحات في العمود الأول مع ما يناسبها من تعريفها في العمود الثاني:

المصطلحات	تعريفها
(١) العالم العربي	(أ) توزيع السكان إلى ذكور وإناث
(٢) العالم الإسلامي	(ب) عدم القدرة على القراءة والكتابة
(٣) التركيب النوعي	(ج) ذات المستوى الاقتصادي المنخفض
(٤) التركيب العمري	(د) الدول الأعضاء في جامعة الدول العربية
(٥) الأمية	(هـ) ترتيب الأعمال والأنشطة وفق أهميتها مع مراعاة الزم المطلوب لتنفيذها
(٦) الدولة الفقيرة	(و) تقسيم السكان إلى فئات حسب أعمارهم
(٧) الأولويات	(ز) الدول الأعضاء في منظمة التعاون الإسلامي
(٨) الهواية	(ح) الجهود لتصنيع السلع وتوفيرها وتوفير الخدمات التي يستهلكها المجتمع
(٩) النشاط الاقتصادي	(ط) نشاط أو اهتمام يمارسه الفرد من أجل تلبية الحاجات الذاتية وتنمية المهارات والقدرات
(١٠) الإنتاجية	(ي) تنفيذ العملية الإنتاجية بالطريقة الصحيحة وبأقل زمن وتكلفة
(١١) الكفاءة	(ك) تنفيذ العملية الإنتاجية بالطريقة الصحيحة وبأقل زمن وتكلفة
(١٢) الفاعلية	(ل) القدرة على إنتاج سلع وخدمات تحقق الجودة والفاعلية في الأسواق العالمية
(١٣) التنافسية	(م) القيمة الإجمالية للمنتجات من السلع والخدمات التي تنتج في الدولة في زمن محدد
(١٤) الناتج المحلي	(ن) معدل الإنتاج في زمن محدد

٣] ضعى علامة (صح) نهاية العبارة الصحيحة وعلامة (خطأ) نهاية العبارة الخاطئة فيما يلي :

- ١-يقع العالم العربي الإسلامي في وسط الأرض المأهولة بالسكان .
- ٢-يتوزع العالم العربي والإسلامي بين قارتي آسيا وإفريقيا .
- ٣- تزداد الكثافة السكانية في المناطق الرعوية .
- ٤- يتركز السكان في المناطق السهلية لخصوبة تربتها .
- ٥- ميز الله عز وجل الجنس البشري بتعدد لغاته .
- ٦-البطالة هي فقدان القدرة على القراءة والكتابة .
- ٧-الدولة الفقيرة هي ذات المستوى الاقتصادي المنخفض .
- ٨-تنقسم الأعمال من حيث الزمن إلى أعمال قصيرة المدى وأعمال طويلة المدى .
- ٩-يتم تحديد الأولويات من حيث الأهمية إلى (مهم) و(غير مهم) .
- ١٠-يعتمد نجاح التخطيط على حسن تنفيذ الجدول والالتزام به .
- ١١-يعتمد التخطيط الجيد على حسن إدارة الوقت والاستفادة منه .
- ١٢-حتى أتمكن من معرفة صحة التخطيط لابد من تقويم التخطيط .
- ١٣-يمكن أن يكتشف خطأ التخطيط من خلال انجاز الأعمال عند اقتراب موعد الاختبارات .
- ١٤-يتشابه الناس في ممارسة هواياتهم بتشابه ذواقهم واهتماماتهم .
- ١٥-تسهم ممارسة الهواية في تكوين شخصيتنا المستقبلية .
- ١٦-تساعد هواية حل المسائل الرياضية المعقدة على تقوية التركيز .
- ١٧-الكفاءة والفاعلية عنصران مرتبطان بعضهما ببعض لتحقيق إنتاجية عالية .
- ١٨-يعد الناتج المحلي مقياساً لتقدم اقتصاد الدولة ومقارنتها بالدول الأخرى .
- ١٩-حرصت حكومة المملكة العربية السعودية على عدم تنوع الاقتصاد المحلي .
- ٢٠-يعد تطوير الأنظمة عاملاً مهماً في النشاط الاقتصادي لتحقيق التحفيز والضبط والشفافية .

٤ [علي لما يأتي :

١- يتركز السكان في المناطق السهلية .

-----/*

٢- تنتشر الزراعة في ألبانيا في وسط البلاد وغربها.

-----/*

٣- كثير من الدول العربية والإسلامية تزداد نسبة الذكور عن الإناث في المراكز الصناعية والتعدينية التي تتطور وتنمو بسرعة .

-----/*

٤- تنتشر الزراعة في البانيا وسط وغرب البلاد .

-----/*

٥- يخفق بعض الطالبات في دراستهم .

-----/*

٦- أقرت حكومة المملكة العربية السعودية عدداً من المشروعات الاقتصادية في انحاء العالم .

-----/*

٥ [قارني بين كل من :

أ- التركيب النوعي والتركيب العمري

التركيب العمري	التركيب النوعي

ب- الكفاءة و الفعالية .

الفعالية	الكفاءة

٦] ارسمي خارطة مفاهيم :

أ- عوامل ترابط العالم العربي والإسلامي:

عوامل ترابط العالم العربي والإسلامي

ب- الأولويات من حيث الأهمية :

الأولويات من حيث الأهمية

ج/ مراحل النشاط الاقتصادي

مراحل النشاط الاقتصادي