

تم تحميل وعرض المادة من :



موقع واجباتي

www.wajibati.net

موقع واجباتي منصة تعليمية تساهم بنشر حل المناهج الدراسية بشكل متميز لترتقي بمجال التعليم على الإنترنت ويستطيع الطلاب تصفح حلول الكتب مباشرة لجميع المراحل التعليمية المختلفة



حمل التطبيق من هنا



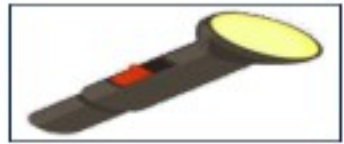
التاريخ:	 وزارة التعليم Ministry of Education	المملكة العربية السعودية
المادة: العلوم		وزارة التعليم
الصف: الأول الابتدائي		الإدارة العامة للتعليم بمنطقة
اسم الطالب/ة.....		الفصل /.....

تقويم ختامي لمهارات علوم الصف الأول – (الفصل الدراسي الثالث) عام ١٤٤٤

السؤال الأول: نكتب (الصيف الشتاء الربيع الخريف) تحت صورة كل فصل:



السؤال الثاني: نصل كل كلمة بالصورة المناسبة:



غائم

ضوء

حرارة

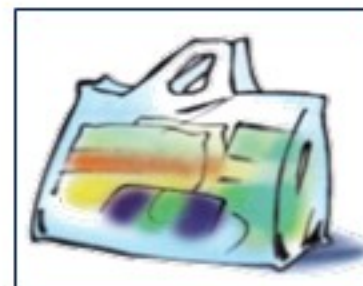

صوت

دفع

السؤال الثالث: نحدد موقع الأشياء ب (تحت - يمين - فوق - خلف) تحت كل صورة:

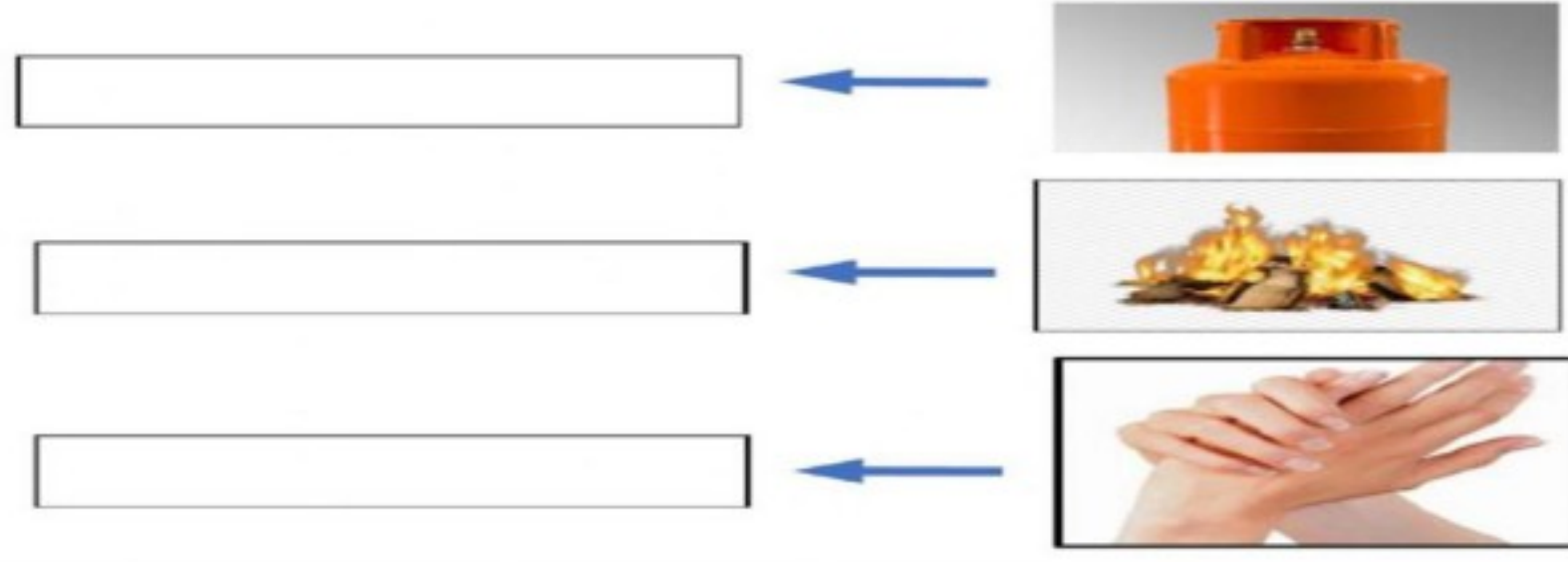


السؤال الرابع: * نضع إشارة صح تحت الجسم الذي يسمح بمرور الضوء من خلاله:

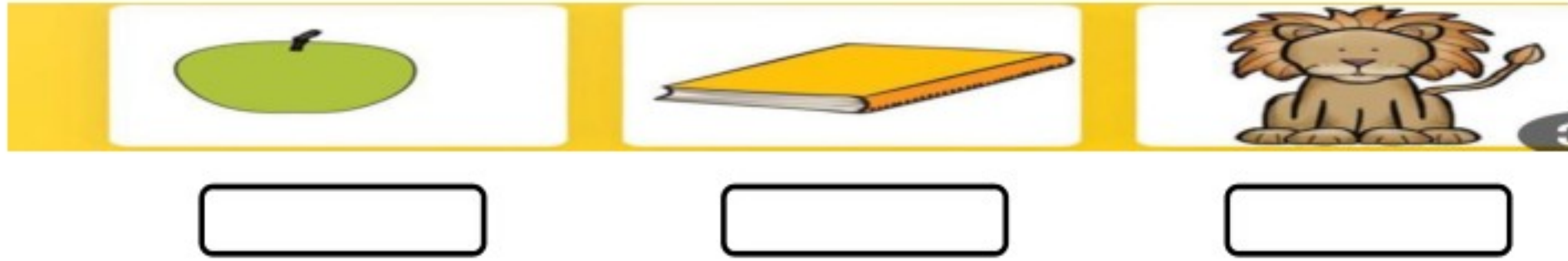


ب/ ايهما نلبس في فصل الشتاء؟ ←

السؤال الخامس: نكتب مصادر الحرارة بجانب كل صورة (الاحتكاك * احتراق الخشب * الغاز)



السؤال السادس: ١ - أيهما يصدر صوت:



٢ / ما مصادر الضوء الطبيعية على الأرض:



السؤال السابع: ١ - نصف نوع الحركة في الصور التالية (دورانية * مستقيم * متعرج):



ب - نصل كل مفردة بمعناها

مقدار البعد بين جسمين

السرعة

وصف حركة الجسم سريعة او بطيئة

المسافة



بالتوفيق يا صغاري

سكره الشمري

التاريخ:	 وزارة التعليم Ministry of Education	المملكة العربية السعودية
المادة: العلوم		وزارة التعليم
الصف: الأول الابتدائي		الإدارة العامة للتعليم بمنطقة
اسم الطالب/ة.....		الفصل/.....

تقويم ختامي لمهارات علوم الصف الأول - (الفصل الدراسي الثالث) عام ١٤٤٤

السؤال الأول: نكتب (الصيف - الشتاء - الربيع - الخريف) تحت صورة كل فصل:



الخريف



الربيع




الشتاء



الصيف

السؤال الثاني: نصل كل كلمة بالصورة المناسبة:



السؤال الثالث: نحدد موقع الأشياء ب (تحت - يمين - فوق - خلف) تحت كل صورة:



فوق



تحت

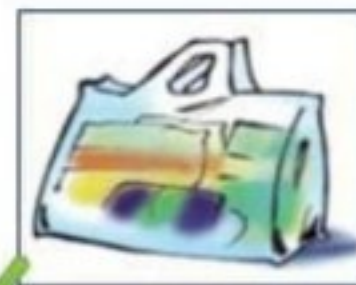


يمين



خلف

السؤال الرابع: * نضع إشارة صح تحت الجسم الذي يسمح بمرور الضوء من خلاله:

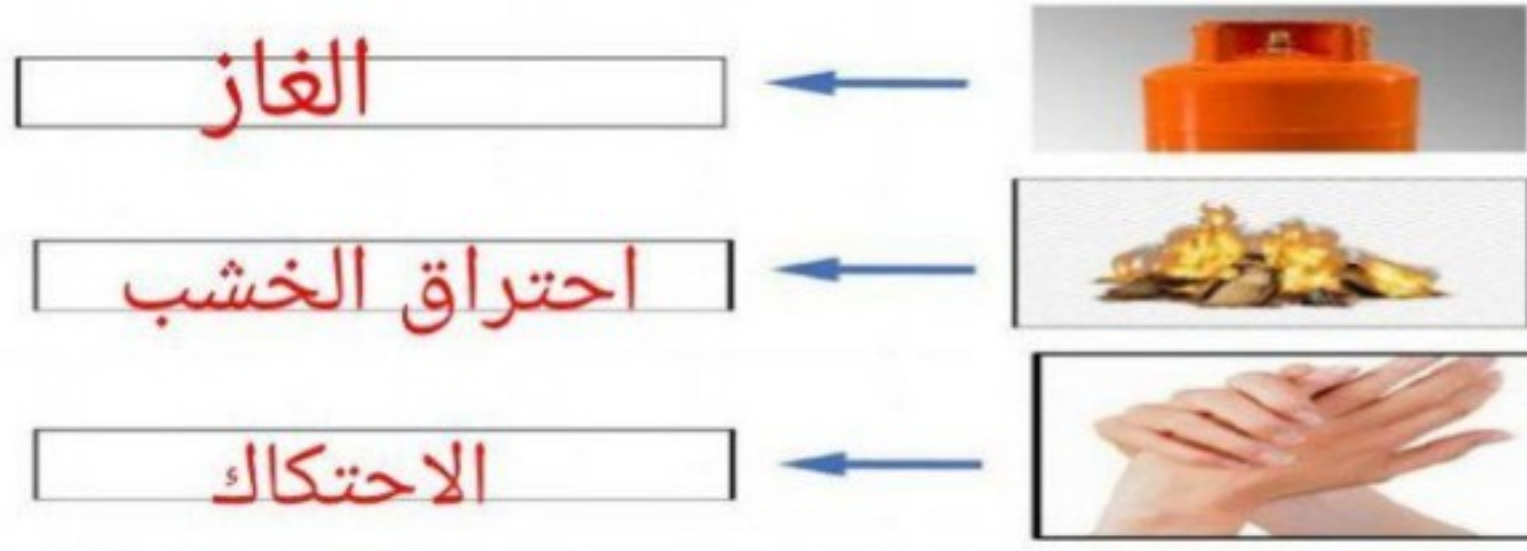


ب/ ايهما نلبس في فصل الشتاء؟




غيب عطاء ممة ☁️ ☁️ 🌾

السؤال الخامس: نكتب مصادر الحرارة بجانب كل صورة (الاحتكاك * احتراق الخشب * الغاز)



السؤال السادس: ١ - أيهما يصدر صوت:



٢ / ما مصادر الضوء الطبيعية على الأرض:



السؤال السابع: ١ - نصف نوع الحركة في الصور التالية (دورانية * مستقيم * متعرج):



ب - نصل كل مفردة بمعناها

مقدار البعد بين جسمين

وصف حركة الجسم سريعة او بطيئة

السرعة

المسافة



بالتوفيق يا صغاري

سكره الشمري

تم الحل بواسطة:

