

تم تحميل وعرض المادة من :



# موقع واجباتي

## www.wajibati.net

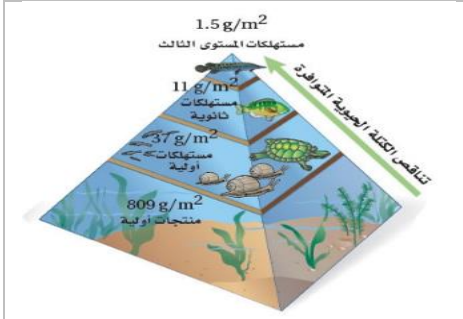
موقع واجباتي منصة تعليمية تساهم بنشر حل المناهج الدراسية بشكل متميز لترتقي بمجال التعليم على الإنترنت ويستطيع الطلاب تصفح حلول الكتب مباشرة لجميع المراحل التعليمية المختلفة



حمل التطبيق من هنا

اسم الطالبة	رقم الجلوس	الشعبة
-------------	------------	--------

درجات فقط	10	اجبني على الأسئلة التالية حسب الشكل المجاور لها.
-----------	----	--




يمثل الهرم البيئي المقابل:

A هرم الطاقة

B هرم الأعداد

C هرم الكتلة الحيوية

1




ماذا يمثل الرسم التالي؟

A سلسلة غذائية

B شبكة غذائية

C هرم بيئي

2



يمثل نمط التوزيع التالي نمط توزيع:

A الجمل

B الضب

C طائر الخرشنة

3



ماذا يمثل الخط الافقي في هذا الشكل:

A طور التسارع

B طور التباطؤ

C القدرة الاستيعابية

4



الدورة التي أمامك هي :

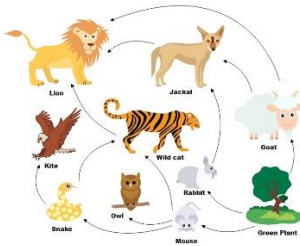
A دورة النيتروجين

B دورة الماء

C دورة الفسفور

5

حددي نموذج انتقال الطاقة المائل في الصورة التي أمامك:



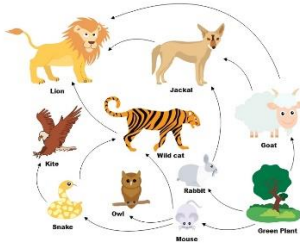
A شبكة غذائية

6

B سلسلة غذائية

C هرم بيئي

من خلال الصورة حددي المخلوق المنتج:



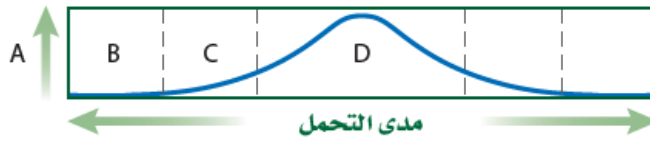
A الأرنب

7

B النبات

C الأفعى

حدد على الرسم المقابل الحرف الذي يمثل منطقة عدم التحمل:



8

A A B B C C

من خلال الرسم ماذا يمثل الحرف D في الرسم:



9

A منطقة عدم التحمل B منطقة الإجهاد الفسيولوجي C المدى الأمثل

أي أنواع السلوك يمثله الشكل المجاور؟



A التعود

10

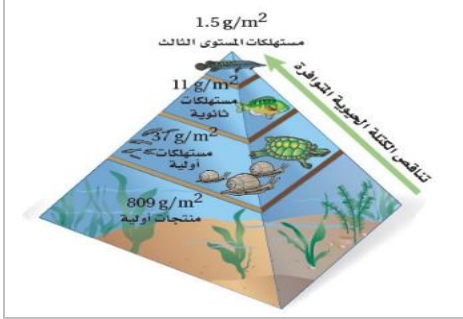
B السلوك الإجرائي الشرطي

C السلوك المطبوع

انتهت الأسئلة / معلمة المادة

اسم الطالبة	رقم الجلوس	الشعبة
-------------	------------	--------

درجات فقط	10	اجبني على الأسئلة التالية حسب الشكل المجاور لها.
-----------	----	--




يمثل الهرم البيئي المقابل:

A هرم الطاقة

B هرم الأعداد

C هرم الكتلة الحيوية

1




ماذا يمثل الرسم التالي؟

A سلسلة غذائية

B شبكة غذائية

C هرم بيئي

2



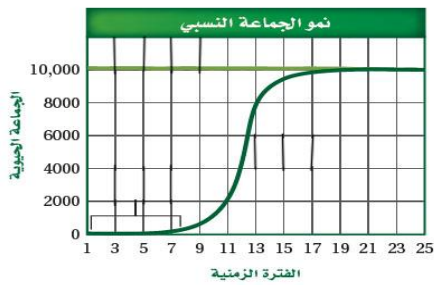
يمثل نمط التوزيع التالي نمط توزيع:

A الجمل

B الضب

C طائر الخرشنة

3



ماذا يمثل الخط الافقي في هذا الشكل:

A طور التسارع

B طور التباطؤ

C القدرة الاستيعابية

4



الدورة التي أمامك هي :

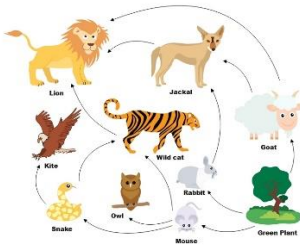
A دورة النيتروجين

B دورة الماء

C دورة الفسفور

5

حددي نموذج انتقال الطاقة المائل في الصورة التي أمامك:



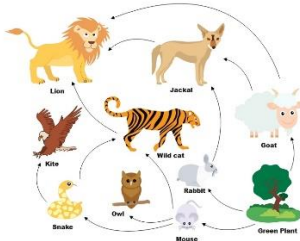
A شبكة غذائية

6

B سلسلة غذائية

C هرم بيئي

من خلال الصورة حددي المخلوق المنتج:



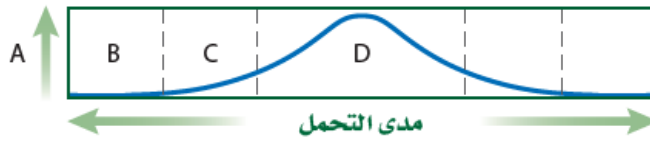
A الأرنب

7

B النبات

C الأفعى

حدد على الرسم المقابل الحرف الذي يمثل منطقة عدم التحمل:



8

A A B B C C

من خلال الرسم ماذا يمثل الحرف D في الرسم:



9

A منطقة عدم التحمل B منطقة الإجهاد الفسيولوجي C المدى الأمثل

أي أنواع السلوك يمثله الشكل المجاور؟



A التعود

10

B السلوك الإجرائي الشرطي

C السلوك المطبوع

انتهت الأسئلة / معلمة المادة