

تم تحميل وعرض المادة من :



موقع واجباتك

www.wajibati.net

موقع واجباتي منصة تعليمية تساهم بنشر حل المناهج الدراسية بشكل متميز لترتقي بمجال التعليم على الإنترنت ويستطيع الطلاب تصفح حلول الكتب مباشرة لجميع المراحل التعليمية المختلفة



حمل التطبيق من هنا

المجموع الكلي		المملكة العربية السعودية وزارة التعليم الإدارة العامة للتعليم بمنطقة
٤٠		مدرسة /
اختبار مادة العلوم (الدور الأول) الفصل الدراسي الأول للعام الدراسي ١٤٤٥ هـ		

المادة	العلوم		الصف	الثالث
اليوم	التاريخ		زمن الاجابة	ساعة ونصف
اسم الطالب/ة				
رقم الجلوس	()			

اسم المدقق / ة	اسم المراجع / ة	اسم المصحح / ة	الدرجة المستحقة		رقم السؤال
			الدرجة رقماً	الدرجة كتابة	
					السؤال الأول
					السؤال الثاني
					السؤال الثالث
					المجموع

يتبع



ما المصطلح العلمي المناسب للعبارات التالية :-



(التكيف , الموطن , البذرة , التحول , البناء الضوئي)

- ١- (.....) عملية تصنع فيها النباتات غذاؤها .
- ٢- (.....) سلسلة من التغيرات يمر بها المخلوق الحي في نموه .
- ٣- (.....) تركيب يمكن أن ينبت لينمو ويصبح نبات جديد .
- ٤- (.....) مكان يعيش فيه المخلوق الحي .
- ٥- (.....) سلوك أو تركيب يساعد المخلوق الحي على البقاء .

نختار الإجابة الصحيحة فيما يلي :-



١- أي مما يلي يعتبر مخلوق حي .	٢- من أنواع المحللات .
أ- الرمل	أ- الأسد
ب - النبات	ب - البكتريا والديدان
ج - الهواء	ج - الفراشة
٣- ينتج المخلوق الحي أفراد من نوعه .	٤- إدخال مواد ضارة إلى البيئة .
أ- الحركة	أ- الانقراض
ب - التكاثر	ب - التلوث
ج - النمو	ج - التدوير
٥- تغير يحدثه الإنسان في البيئة .	٦- يسمي أول مخلوق حي في السلسلة الغذائية .
أ- الزلازل	أ- المحلل
ب - الحرائق	ب - المنتج
ج - النمو	ج - المستهلك
٧- تكيفات الحيوانات الصحراوية .	٨- استخدام الشيء أكثر من مرة .
أ- السباحة	أ- الاستهلاك
ب - الهروب	ب - الترشيح
ج - النشاط ليلاً	ج - إعادة استخدام
٩- الحيوان الذي يصطاد غيره .	١٠- مورد يحتاجه المخلوق الحي .
أ- فريسه	أ- الهجرة
ب - مفترس	ب - الماء
ج - محلل	ج - الاختباء



السؤال الثاني :-

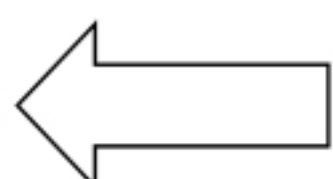
١٥

ما هي أجزاء النبات التي تقوم بالوظائف التالية :-

الوظيفة	جزء النبات
صنع الغذاء
نقل الماء والأملاح
تثبيت النبات في التربة

نضع علامة او امام العبارات التالية:

البرمائيات والحشرات تبدأ دورة حياتها بالبيضة	<input type="checkbox"/>
الجزء المذكر في الزهرة ينتج حبوب اللقاح	<input type="checkbox"/>
تحتاج المخلوقات الحية لكي تعيش إلى صخور	<input type="checkbox"/>
الخلايا صغيرة جداً لا يمكن رؤيتها بالعين المجردة	<input type="checkbox"/>
يتكون النظام البيئي من مخلوقات حية وغير حية	<input type="checkbox"/>
تحصل معظم المنتجات على الطاقة من الشمس	<input type="checkbox"/>
التدوير وإعادة الاستخدام يضر البيئة	<input type="checkbox"/>
يؤدي الصيد الجائر إلى انقراض الحيوانات	<input type="checkbox"/>
المخلوق الذي ينتج الغذاء يسمى منتج	<input type="checkbox"/>
الثمار تركيب أو جزء يحمل داخله البذور	<input type="checkbox"/>
الشبكة الغذائية مجموعة من السلاسل الغذائية المترابطة	<input type="checkbox"/>
من طرق تكيف حيوانات المحيط الهجرة	<input type="checkbox"/>




يتبع

السؤال الثالث :-

نرتب السلسلة الغذائية التالية من (١ - ٤) :-



١٠



.....

.....

.....

.....

مثال حسب ما هو مطلوب :-



.....



١- حيوان مستهلك

.....



٢- من الكوارث الطبيعية

.....



٣- من موارد البيئة

.....



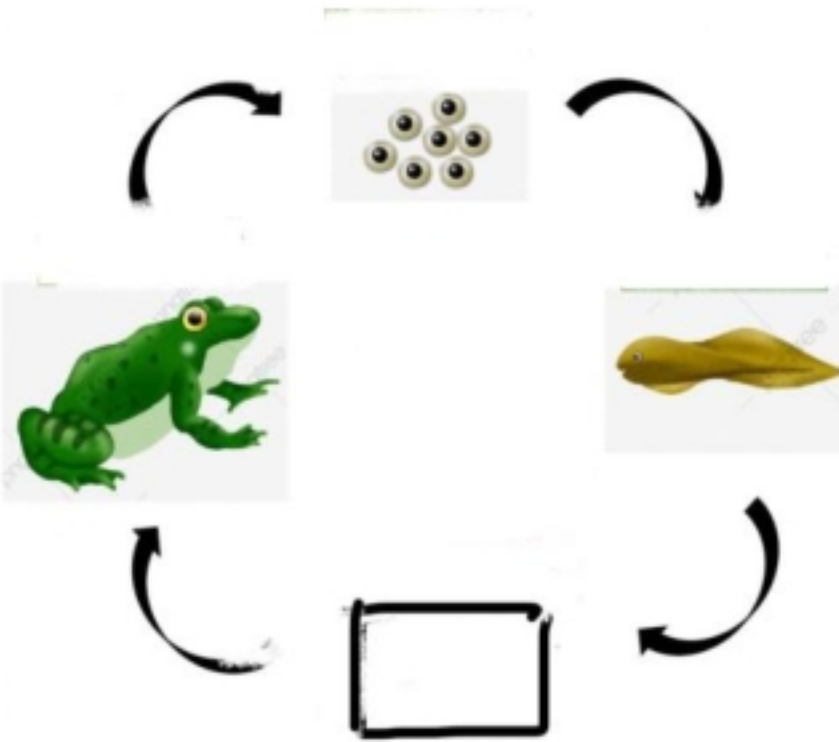
٤- تكيف تركيبى

.....



٥- حيوان مهدد بالانقراض

فى الشكل التالى أى مرحلة من نمو الضفدع مفقود ؟



.....

أنتهت الاسئلة ... بالتوفيق

سكره الشمري



نموذج إجابة

المجموع الكلي		المملكة العربية السعودية وزارة التعليم الإدارة العامة للتعليم بمنطقة
٤٠		مدرسة /
اختبار مادة العلوم (الدور الأول) الفصل الدراسي الأول للعام الدراسي ١٤٤٥ هـ		

المادة	العلوم		الصف	الثالث
اليوم	التاريخ		زمن الاجابة	ساعة ونصف
اسم الطالب/ة				
رقم الجلوس	()			

اسم المدقق / ة	اسم المراجع / ة	اسم المصحح / ة	الدرجة المستحقة		رقم السؤال
			الدرجة رقماً	الدرجة كتابة	
					السؤال الأول
					السؤال الثاني
					السؤال الثالث
					المجموع

يتبع



السؤال الأول :-

١٥

ما المصطلح العلمي المناسب للعبارات التالية :-

(التكيف , الموطن , البذرة , التحول , البناء الضوئي)

- ١- (البناء الضوئي) عملية تصنع فيها النباتات غذاؤها .
- ٢- (.....التحول.....) سلسلة من التغيرات يمر بها المخلوق الحي في نموه .
- ٣- (.....البذرة.....) تركيب يمكن أن ينبت لينمو ويصبح نبات جديد .
- ٤- (.....الموطن.....) مكان يعيش فيه المخلوق الحي .
- ٥- (.....التكيف.....) سلوك أو تركيب يساعد المخلوق الحي على البقاء .

نختار الإجابة الصحيحة فيما يلي :-

١- أي مما يلي يعتبر مخلوق حي .	٢- من أنواع المحلات .
أ- الرمل	أ- الأسد
ب - النبات ✓	ب - البكتريا والديدان ✓
ج - الهواء	ج - الفراشة
٣- ينتج المخلوق الحي أفراد من نوعه .	٤- إدخال مواد ضارة إلى البيئة .
أ- الحركة	أ- الانقراض
ب - التكاثر ✓	ب - التلوث ✓
ج - النمو	ج - التدوير
٥- تغير يحدثه الإنسان في البيئة .	٦- يسمي أول مخلوق حي في السلسلة الغذائية .
أ- الزلازل	أ- المحلل
ب - الحرائق ✓	ب - المنتج ✓
ج - النمو	ج - المستهلك
٧- تكيفات الحيوانات الصحراوية .	٨- استخدام الشيء أكثر من مرة .
أ- السباحة	أ- الاستهلاك
ب - الهروب	ب - الترشيح
ج - النشاط ليلاً ✓	ج - إعادة استخدام ✓
٩- الحيوان الذي يصطاد غيره .	١٠- مورد يحتاجه المخلوق الحي .
أ- فريسه	أ- الهجرة
ب - مفترس ✓	ب - الماء ✓
ج - محلل	ج - الاختباء

السؤال الثاني :-

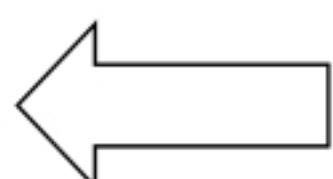
١٥

ما هي أجزاء النبات التي تقوم بالوظائف التالية :-

الوظيفة	جزء النبات
صنع الغذاء	الورقة
نقل الماء والأملاح	الساق
تثبيت النبات في التربة	الجزر

نضع علامة او امام العبارات التالية:

البرمائيات والحشرات تبدأ دورة حياتها بالبيضة	<input checked="" type="checkbox"/>
الجزء المذكر في الزهرة ينتج حبوب اللقاح	<input checked="" type="checkbox"/>
تحتاج المخلوقات الحية لكي تعيش إلى صخور	<input type="checkbox"/>
الخلايا صغيرة جداً لا يمكن رؤيتها بالعين المجردة	<input checked="" type="checkbox"/>
يتكون النظام البيئي من مخلوقات حية وغير حية	<input checked="" type="checkbox"/>
تحصل معظم المنتجات على الطاقة من الشمس	<input checked="" type="checkbox"/>
التدوير وإعادة الاستخدام يضر البيئة	<input type="checkbox"/>
يؤدي الصيد الجائر إلى انقراض الحيوانات	<input checked="" type="checkbox"/>
المخلوق الذي ينتج الغذاء يسمى منتج	<input checked="" type="checkbox"/>
الثمار تركيب أو جزء يحمل داخله البذور	<input checked="" type="checkbox"/>
الشبكة الغذائية مجموعة من السلاسل الغذائية المترابطة	<input checked="" type="checkbox"/>
من طرق تكيف حيوانات المحيط الهجرة	<input checked="" type="checkbox"/>




يتبع

السؤال الثالث :-

نرتب السلسلة الغذائية التالية من (١ - ٤) :-



١٠



٤

١

٣

٢

مثال حسب ما هو مطلوب :-

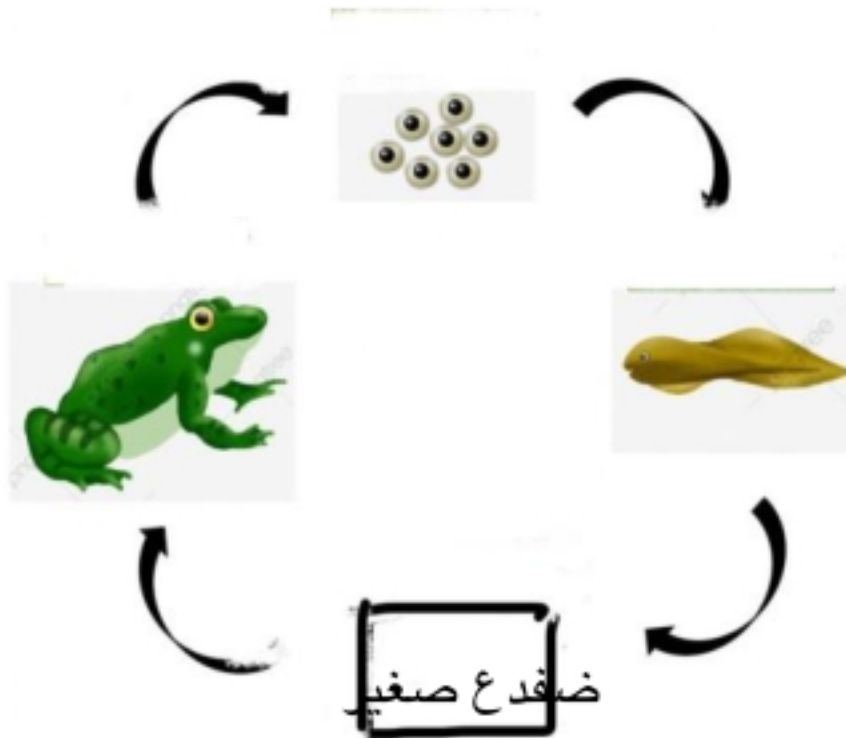


- | | | |
|---|---|-------------------------|
| الأرنب | ← | ١- حيوان مستهلك |
| الزلازل والبراكين | ← | ٢- من الكوارث الطبيعية |
| الماء والغذاء والهواء | ← | ٣- من موارد البيئة |
| السنام في الجمل واللون والشفة المشقوقة والفرو في الدب | ← | ٤- تكيف تركيبى |
| غزال البريم وطيائر الجبارى | ← | ٥- حيوان مهدد بالانقراض |

فى الشكل التالى أى مرحلة من نمو الضفدع مفقود ؟



ضفدع صغير



أنتهت الاسئلة ... بالتوفيق

سكره الشمري



رقم الجلوس

أسم الطالب :

اختبار مادة (العلوم) (الدور الأول) الفصل الدراسي الأول للعام الدراسي ١٤٤٥ هـ

الدرجة رقمياً	الدرجة كتابياً	أسم المصحح	التوقيع	أسم المراجع	التوقيع

السؤال الأول : اختر الإجابة الصحيحة من بين ما يلي :-

١٠


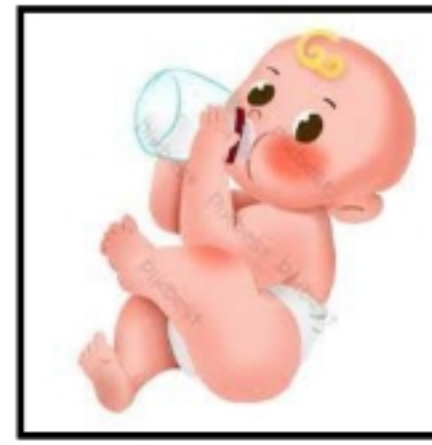
١	أي مما يلي يعتبر مخلوق حي :	(أ) النبات	(ب) الرمل	(ج) الهواء	(د) الماء
٢	ينتج المخلوق الحي أفراد من نوعه :	(أ) التكاثر	(ب) الحركة	(ج) النمو	(د) الاستجابة
٣	إدخال مواد ضارة إلى البيئة :	(أ) التلوث	(ب) التدوير	(ج) المستهلك	(د) الترشيح
٤	استخدام الشيء أكثر من مرة :	(أ) إعادة الاستخدام	(ب) الترشيح	(ج) التدوير	(د) المستهلك
٥	الحيوان الذي يصطاد غيره :	(أ) مفترس	(ب) فريسه	(ج) محلل	(د) منتج
٦	يحدث عند توقف الامطار لفترة زمنية طويلة :	(أ) التصحر	(ب) الفيضان	(ج) الجفاف	(د) الزلازل
٧	مكان يعيش فيه المخلوق الحي :	(أ) التكيف	(ب) المستهلك	(ج) الموطن	(د) التخفي
٨	تحصل معظم المنتجات على الطاقة من :	(أ) المفترسات	(ب) المحلات	(ج) الشمس	(د) الصخور
٩	وحدة بناء أجسام جميع المخلوقات الحية هي :	(أ) الهواء	(ب) الغذاء	(ج) الخلية	(د) الماء
١٠	من أنواع المحلات :	(أ) الأسد	(ب) الفراشة	(ج) البكتيريا والديدان	(د) الجراد

السؤال الثاني :

أضع علامة (√) أمام العبارة الصحيحة وعلامة (X) أمام العبارة الخاطئة في كل مما يلي :-

١	الجزء المذكر في الزهرة ينتج حبوب اللقاح .
٢	يتكون النظام البيئي من مخلوقات حية وغير حية .
٣	البرمائيات والحشرات تبدأ حياتها بالبيضة .
٤	الخلايا صغيرة جداً لا يمكن رؤيتها بالعين .
٥	تحصل معظم المنتجات على الطاقة من الشمس .
٦	يؤدي الصيد الجائر لانقراض الحيوانات .
٧	النباتات تعتبر من المنتجات .
٨	التدوير وإعادة الاستخدام يضر البيئة .
٩	الجمال يبدأ أول مراحل حياته بالبيضة .
١٠	يحدث الجفاف بسبب الأمطار الغزيرة والعواصف .

ب / ضع (√) تحت المخلوقات الحية فيما يلي وعلامة (x) امام الأشياء غير الحية :-



(.....)

(.....)

(.....)



(.....)

(.....)

السؤال الثالث : أ / نصل العمود (أ) بما يناسبه من العمود (ب) :-

(أ)	(ب)
١- الأوراق	تثبت النبات في التربة وتمتص الماء والأملاح .
٢- الساق	تركيب يمكن أن ينبت لينمو ويصبح نبات جديد .
٣- البذرة	تقوم بصنع الغذاء حيث تستخدم الشمس .
٤- الجذور	يشكل قوام النبات ويحمل أجزاء النبات .

ج - رتب الصور لتكوين سلسلة غذائية في ما يلي :-



ب - ما الذي تحتاجه المخلوقات الحية :-

- ١-
- ٢-
- ٣-

انتهت الأسئلة،

رقم الجلوس

أسم الطالب :

اختبار مادة (العلوم) (الدور الأول) الفصل الدراسي الأول للعام الدراسي ١٤٤٤ هـ

الدرجة رقمياً	الدرجة كتابياً	أسم المراجع	التوقيع
		نموذج الإجابة	

السؤال الأول : اختر الإجابة الصحيحة من بين ما يلي :-

١٠

١	أي مما يلي يعتبر مخلوق حي :	(أ) النبات	(ب) الرمل	(ج) الهواء	(د) الماء
٢	ينتج المخلوق الحي أفراد من نوعه :	(أ) التكاثر	(ب) الحركة	(ج) النمو	(د) الاستجابة
٣	إدخال مواد ضارة إلى البيئة :	(أ) التلوث	(ب) التدوير	(ج) المستهلك	(د) الترشيد
٤	استخدام الشيء أكثر من مرة :	(أ) إعادة الاستخدام	(ب) الترشيد	(ج) التدوير	(د) المستهلك
٥	الحيوان الذي يصطاد غيره :	(أ) مفترس	(ب) فريسه	(ج) محلل	(د) منتج
٦	يحدث عند توقف الامطار لفترة زمنية طويلة :	(أ) التصحر	(ب) الفيضان	(ج) الجفاف	(د) الزلازل
٧	مكان يعيش فيه المخلوق الحي :	(أ) التكيف	(ب) المستهلك	(ج) الموطن	(د) التخفي
٨	تحصل معظم المنتجات على الطاقة من :	(أ) المفترسات	(ب) المحلات	(ج) الشمس	(د) الصخور
٩	وحدة بناء أجسام جميع المخلوقات الحية هي :	(أ) الهواء	(ب) الغذاء	(ج) الخلية	(د) الماء
١٠	من أنواع المحلات :	(أ) الأسد	(ب) الفراشة	(ج) البكتيريا والديدان	(د) الجراد

السؤال الثاني :

أضع علامة (√) أمام العبارة الصحيحة وعلامة (X) أمام العبارة الخاطئة في كل مما يلي :-

1	الجزء المذكر في الزهرة ينتج حبوب اللقاح .	√
2	يتكون النظام البيئي من مخلوقات حية وغير حية .	√
3	البرمائيات والحشرات تبدأ حياتها بالبيضة .	√
4	الخلايا صغيرة جداً لا يمكن رؤيتها بالعين .	√
5	تحصل معظم المنتجات على الطاقة من الشمس .	√
6	يؤدي الصيد الجائر لانقراض الحيوانات .	√
7	النباتات تعتبر من المنتجات .	√
8	التدوير وإعادة الاستخدام يضر البيئة .	X
9	الجمال يبدأ أول مراحل حياته بالبيضة .	X
10	يحدث الجفاف بسبب الأمطار الغزيرة والعواصف .	X

ب / ضع (√) تحت المخلوقات الحية فيما يلي وعلامة (x) امام الأشياء غير الحية :-



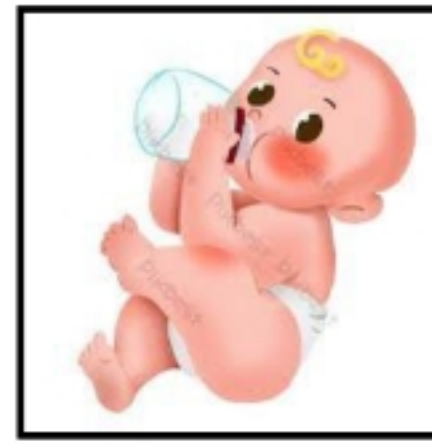
(.....) X




(.....) √



(.....) X



(.....) √





(.....) √

السؤال الثالث : أ / نصل العمود (أ) بما يناسبه من العمود (ب) :-

(أ)	(ب)
1- الأوراق	تثبت النبات في التربة وتمتص الماء والأملاح .
2- الساق	تركيب يمكن أن ينبت لينمو ويصبح نبات جديد .
3- البذرة	تقوم بصنع الغذاء حيث تستخدم الشمس .
4- الجذور	يشكل قوام النبات ويحمل أجزاء النبات .

ج - رتب الصور لتكوين سلسلة غذائية في ما يلي :-



ب - ما الذي تحتاجه المخلوقات الحية :-

الغذاء - الماء - المكان - الغازات

انتهت الأسئلة،