

تم تحميل وعرض المادة من :



# موقع واجباتك

## www.wajibati.net

موقع واجباتي منصة تعليمية تساهم بنشر حل المناهج الدراسية بشكل متميز لترتقي بمجال التعليم على الإنترنت ويستطيع الطلاب تصفح حلول الكتب مباشرة لجميع المراحل التعليمية المختلفة



حمل التطبيق من هنا



40

المصحح : ..... التوقيع: .....  
المراجع : ..... التوقيع: .....  
الدرجة كتابة: ..... درجة

اسم الطالب : ..... رقم الجلوس ( )

20

السؤال الأول / اختر الإجابات الصحيحة فيما يلي بوضع دائرة حولها:

1	عاصمة المملكة العربية السعودية	أ	الدمام	ب	تبوك	ج	الرياض
2	الشعار السعودي الرسمي هو سيفان متقاطعان وسطهما	أ	درع	ب	صقر	ج	نخلة
3	النتيجة في التاريخ هي ما ينتج عن	أ	المصادر	ب	الكتابة	ج	الحدث
4	وطني يتكون من	أ	15 منطقة	ب	14 منطقة	ج	13 منطقة
5	من عناصر الجغرافيا	أ	الاحداث	ب	الانتاج	ج	الموقع
6	..... هي انتقال الناس والبضائع من مكان إلى آخر	أ	البيئة	ب	الموقع	ج	الحركة
7	عدد الجهات الأصلية	أ	8 جهات	ب	6 جهات	ج	4 جهات
8	من عناصر التاريخ	أ	المكان	ب	البيئة	ج	الشخصيات
9	..... هو بقعة الارض التي ننتمي اليها ونفخر بها والتي عاش عليها أبائنا واجدادنا	أ	التاريخ	ب	الوطن	ج	الشعار الوطني
10	يقع وطني المملكة العربية السعودية في ..... من قارة آسيا	أ	الجنوب الغربي	ب	الشمال الشرقي	ج	الشمال الغربي

السؤال الثاني / اكتب فروع الدراسات الاجتماعية الأربعة :

4

.....

.....

.....

.....

السؤال الثالث/ ضع علامة (√) أمام العبارات الصحيحة وعلامة (x) أمام العبارات غير الصحيحة:

10

( )	1. لا ينكس العلم السعودي لإحتوائه على كلمة التوحيد
( )	2. تفيدني الدراسات الاجتماعية في معرفة تاريخ وطني
( )	3. التاريخ هو دراسة أحداث الماضي وتفسيرها لتوضيح أثرها على الحاضر والمستقبل
( )	4. يوم التأسيس يوافق 22 فبراير من كل عام
( )	5. تشرق الشمس من جهة الجنوب
( )	6. انظف المكان قبل أن أتركه
( )	7. وطني بعد التوحيد أمن وسلام
( )	8. الجغرافي هو الذي يدرس مظاهر الأرض وطبيعتها وسكانها
( )	9. الرياضيات من فروع الدراسات الاجتماعية
( )	10. الشرق والغرب من الجهات الفرعية

السؤال الرابع / ضع الكلمات الموجودة في الجدول التالي في الفراغ المناسب:

6

ملكي	الإشاعة	العلم	المؤرخ	ثانوية	23 سبتمبر
------	---------	-------	--------	--------	-----------

1. اليوم الوطني ويوافق ..... من كل عام .
2. ..... هو الشخص الذي يدرس الماضي ويكتب عنه .
3. ..... هو رمز الدولة وهويتها نراه مرفوعاً على المدارس والميادين والسفارات السعودية.
4. نظام الحكم في المملكة .....
5. المصادر نوعان مصادر أولية ومصادر .....
6. ..... هي نقل الكلام دون التثبت من صحته .

--- انتهت الأسئلة ---



# نموذج إجابة

أسئلة اختبار  
المادة:  
الصف:  
الزمن:



المملكة العربية السعودية  
الادارة العامة للتعليم بالمدينة المنورة  
مكتب تعليم .....  
ابتدائية .....

المصحح: ..... التوقيع: .....  
المراجع: ..... التوقيع: .....  
الدرجة كتابة: ..... درجة

اسم الطالب: ..... رقم الجلوس ( )

## السؤال الأول / اختر الإجابات الصحيحة فيما يلي بوضع دائرة حولها:

20

1	عاصمة المملكة العربية السعودية	أ	الدمام	ب	تبوك	ج	الرياض
2	الشعار السعودي الرسمي هو سيفان متقاطعان وسطهما	أ	درع	ب	صقر	ج	نخلة
3	النتيجة في التاريخ هي ما ينتج عن	أ	المصادر	ب	الكتابة	ج	الحدث
4	وطني يتكون من	أ	15 منطقة	ب	14 منطقة	ج	13 منطقة
5	من عناصر الجغرافيا	أ	الاحداث	ب	الانتاج	ج	الموقع
6	..... هي انتقال الناس والبضائع من مكان إلى آخر	أ	البيئة	ب	الموقع	ج	الحركة
7	عدد الجهات الأصلية	أ	8 جهات	ب	6 جهات	ج	4 جهات
8	من عناصر التاريخ	أ	المكان	ب	البيئة	ج	الشخصيات
9	..... هو بقعة الارض التي ننتمي اليها ونفخر بها والتي عاش عليها أباننا واجدادنا	أ	التاريخ	ب	الوطن	ج	الشعار الوطني
10	يقع وطني المملكة العربية السعودية في ..... من قارة آسيا	أ	الجنوب الغربي	ب	الشمال الشرقي	ج	الشمال الغربي

## السؤال الثاني / اكتب فروع الدراسات الاجتماعية الأربعة:

4

..الحكومة

..الاقتصاد

..الجغرافيا

...التاريخ

السؤال الثالث/ ضع علامة (√) أمام العبارات الصحيحة وعلامة (x) أمام العبارات غير الصحيحة:

10

( صح ) .	1. لاينكس العلم السعودي لإحتوائه على كلمة التوحيد
( صح ) .	2. تفيدني الدراسات الاجتماعية في معرفة تاريخ وطني
( صح ) .	3. التاريخ هو دراسة أحداث الماضي وتفسيرها لتوضيح أثرها على الحاضر والمستقبل
( صح ) .	4. يوم التأسيس يوافق 22 فبراير من كل عام
( خطأ ) .	5. تشرق الشمس من جهة الجنوب
( صح ) .	6. انظف المكان قبل أتركه
( صح ) .	7. وطني بعد التوحيد أمن وسلام
( صح ) .	8. الجغرافي هو الذي يدرس مظاهر الارض وطبيعتها وسكانها
( خطأ ) .	9. الرياضيات من فروع الدراسات الاجتماعية
( خطأ ) .	10. الشرق والغرب من الجهات الفرعية

السؤال الرابع / ضع الكلمات الموجودة في الجدول التالي في الفراغ المناسب:

6

23 سبتمبر      ثانوية      المؤرخ      العلم      الاشاعة      ملكي

1. اليوم الوطني ويوافق ..... 22 سبتمبر..... من كل عام .

2. .... المؤرخ ..... هو الشخص الذي يدرس الماضي ويكتب عنه .

3. .... العلم ..... هو رمز الدولة وهويتها نراه مرفوعاً على المدارس والبيادين والسفارات و السعودية.

4. نظام الحكم في المملكة ..... ملكي ..... .

5. المصادر نوعان مصادر أولية ومصادر ..... ثانوية ..... .

6. .... الاشاعة ..... هي نقل الكلام دون التثبت من صحته .

--- انتهت الأسئلة ---

السؤال الأول: أ/ ضعي كلمة (صح) امام الإجابة الصحيحة وكلمة (خطأ) أمام الإجابة الخاطئة:

١٢

١	من مكونات الثقافة في وطني اللغة والدين	( )
٢	الإشاعة ضارة بالمجتمع ونهانا عنها الله ورسوله	( )
٣	كان وطني قبل التوحيد جهات متفرقة	( )
٤	المؤرخ هو الشخص الذي يدرس الماضي ويكتب عنه	( )
٥	تستعمل الخرائط لمعرفة الأماكن	( )
٦	من التفاعل السليم مع البيئة أنظف المكان قبل تركه	( )
٧	يجب الفخر والاعتزاز بالوطن وتراثه	( )
٨	يجب علينا أن نرفع علم الوطن ونحترمه	( )
٩	توفر لنا حكومة وطني التعليم والصحة	( )
١٠	تشرق الشمس من جهة الشمال	( )
١١	الحكومة هي النظام الذي يدار به الوطن	( )
١٢	يحتوى علم بلادي على السيف الدال على الحق	( )

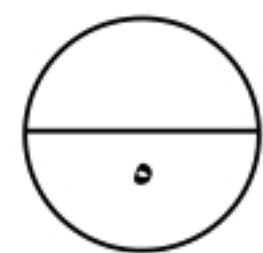
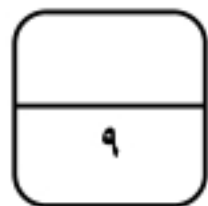
١٢

ب/ اختاري الإجابة الصحيحة فيما يلي بوضع دائرة عليها:

١	تتكون بلادي المملكة العربية السعودية من .....	منطقة
أ	١٤	ب
ب	١٣	ج
ج	١٥	
٢	يقع وطني المملكة العربية السعودية .....	العالم
أ	وسط	ب
ب	قلب	ج
ج	شمال	
٣	من عناصر التاريخ	
أ	الإنتاج	ب
ب	الشخصيات	ج
ج	البيئة	
٤	هي كل ما يتعلق بالكرة الأرضية وتكويناتها	
أ	الاقتصاد	ب
ب	الجغرافيا	ج
ج	الرياضيات	
٥	الشخص الذي يدرس الجغرافيا هو .....	
أ	اقتصادي	ب
ب	جغرافي	ج
ج	سياسي	



٦	الشمال الشرقي هي الجهة الواقعة بين الشمال و .....		
أ	الشرق	ب	الغرب
ج	الجنوب		
٧	هو تحول الأرض الخصبة إلى صحراء		
أ	التصحّر	ب	الحدائق
ج	الغابات		
٨	انتقال الناس والبضائع من مكان إلى آخر يسمى		
أ	الحركة	ب	سياسة
ج	الإنتاج		
٩	تقسم الجهات الأصلية إلى ..... جهات		
أ	٤	ب	٥
ج	٦		
١٠	نظام الحكم في وطني		
أ	ملكي	ب	جمهوري
ج	دستوري		
١١	عاصمة بلادي المملكة العربية السعودية .....		
أ	الرياض	ب	الطائف
ج	تبوك		
١٢	الشعار السعودي الرسمي هو سيفان متقاطعان و وسطها		
أ	نخلة	ب	صقر
ج	درع		

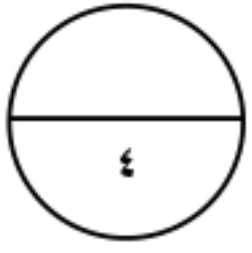


السؤال الثاني: أ/ أملّي الفراغ بالكلمات المساعدة :

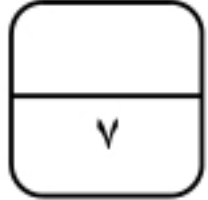
الآثار	الحجر	أين هو
	الإشاعة	النتيجة

- ١- هي نقل الكلام دون التثبيت من صحته.....
- ٢- كان الناس قديماً يكتبون على .....
- ٣- من المصادر الأولية التي يعتمد عليها المؤرخ .....
- ٤- هي ما ينتج عن الحدث .....
- ٥- من أسئلة الجغرافي .....

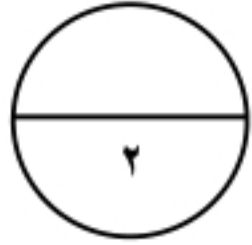
ب/ صلي العمود الأول بما يناسبه من العمود الثاني ( باستخدام الأرقام )



( أ )	( ب )
١- من أسئلة التاريخ	الوطن
٢- من فروع الدراسات الاجتماعية	العلم
٣- رمز الدولة و هويتها	الاقتصاد
٤- بقعة الأرض التي تنتمي إليها	ماذا حدث



السؤال الثالث: أ/ ضعي التاريخ المناسب في مكانه ( ٢٣ سبتمبر - ٢٢ فبراير )

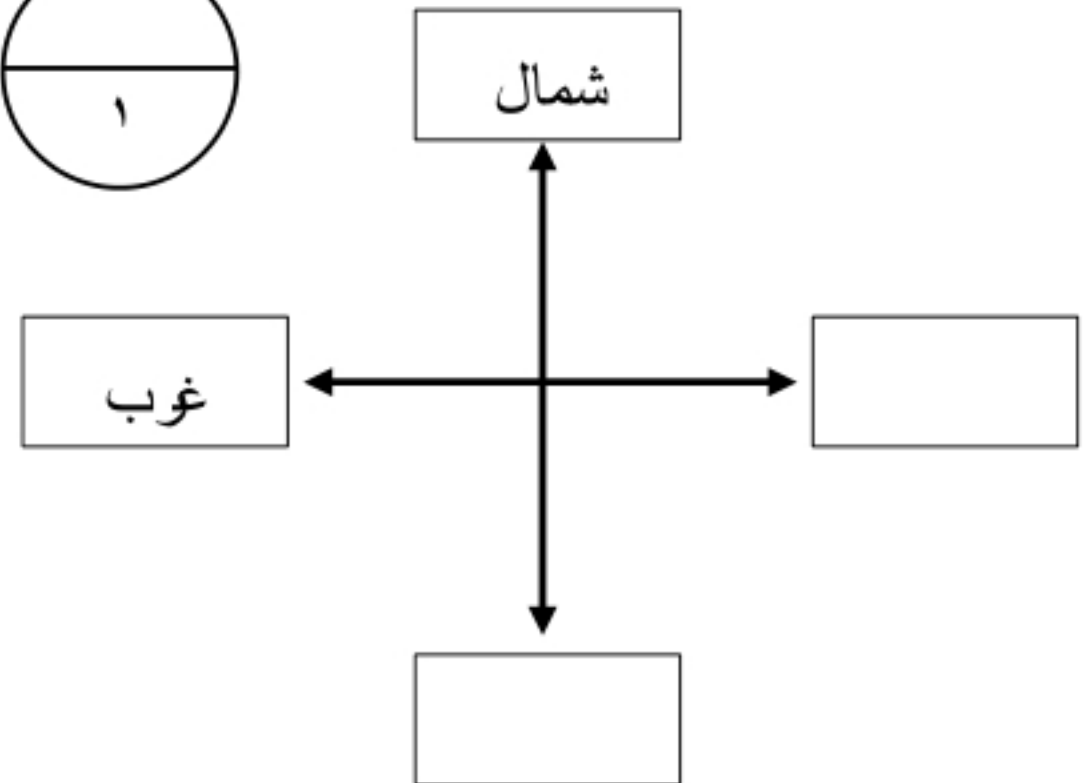
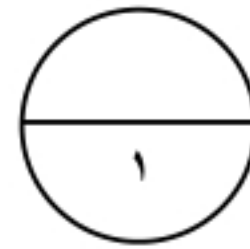
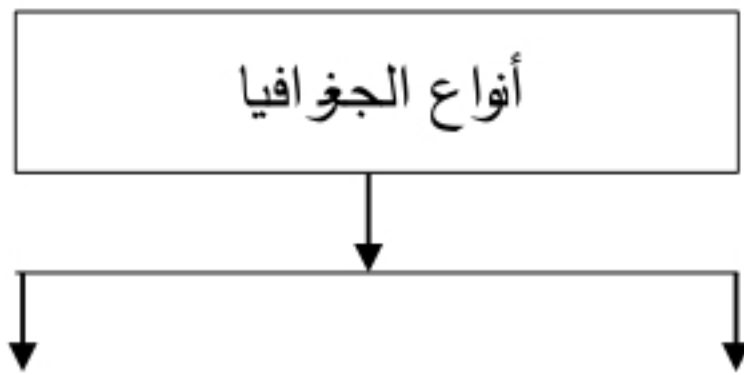
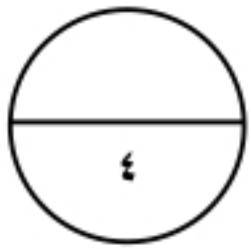


١- يوم التأسيس يوفق ..... من كل عام

٢- اليوم الوطني يوافق ..... من كل عام

ب/ أكمل الرسم التالي :

الجهات الأصلية :



تمت الأسئلة مع تمنياتي لكم بالتوفيق

معلمة المادة /



# نموذج إجابة

٢٤

السؤال الأول: أ/ ضعي كلمة (صح) امام الإجابة الصحيحة وكلمة (خطأ) أمام الإجابة الخاطئة:

١٢

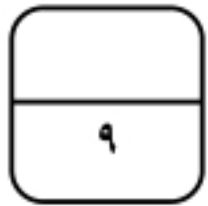
١	من مكونات الثقافة في وطني اللغة والدين	( صح )
٢	الإشاعة ضارة بالمجتمع ونهانا عنها الله ورسوله	( صح )
٣	كان وطني قبل التوحيد جهات متفرقة	( صح )
٤	المؤرخ هو الشخص الذي يدرس الماضي ويكتب عنه	( صح )
٥	تستعمل الخرائط لمعرفة الأماكن	( صح )
٦	من التفاعل الغير السليم مع البيئة أنظف المكان قبل تركه	( خطأ )
٧	يجب الفخر والاعتزاز بالوطن وتراثه	( صح )
٨	يجب علينا أن نرفع علم الوطن ونحترمه	( صح )
٩	لا توفر لنا حكومة وطني التعليم والصحة	( خطأ )
١٠	تشرق الشمس من جهة الشمال	( خطأ )
١١	الحكومة هي النظام الذي يدار به الوطن	( صح )
١٢	يحتوى علم بلادي على السيف الدال على الحق	( خطأ )

١٢

ب/ اختاري الإجابة الصحيحة فيما يلي بوضع دائرة عليها:

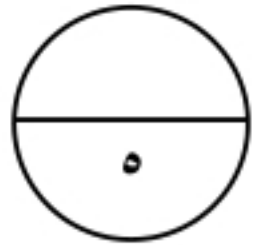
١	تتكون بلادي المملكة العربية السعودية من ..... منطقة			
أ	١٤	ب	١٣	ج
٢	يقع وطني المملكة العربية السعودية ..... العالم			
أ	شرق	ب	شمال	ج
٣	من عناصر التاريخ			
أ	الإنتاج	ب	الشخصيات	ج
٤	هي كل ما يتعلق بالكرة الأرضية وتكويناتها			
أ	الجغرافيا	ب	الاقتصاد	ج
٥	الشخص الذي يدرس الجغرافيا هو .....			
أ	اقتصادي	ب	جغرافي	ج
				سياسي

٦	الشمال الشرقي هي الجهة الواقعة بين الشمال و .....			
أ	الشرق	ب	الغرب	ج
٧	هو تحول الأرض الخصبة إلى صحراء			
أ	التصحّر	ب	الحدائق	ج
٨	انتقال الناس والبضائع من مكان إلى آخر يسمى			
أ	الحركة	ب	سياسة	ج
٩	تقسم الجهات الأصلية إلى ..... جهات			
أ	٣	ب	٤	ج
١٠	نظام الحكم في وطني			
أ	ملكي	ب	جمهوري	ج
١١	عاصمة بلادي المملكة العربية السعودية .....			
أ	الطائف	ب	الرياض	ج
١٢	الشعار السعودي الرسمي هو سيفان متقاطعان و وسطها			
أ	درع	ب	صقر	ج
				د



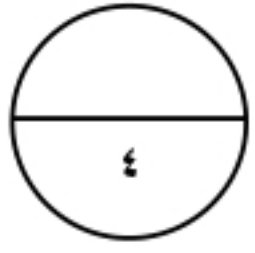
السؤال الثاني: أ/ أملئ الفراغ بالكلمات المساعدة :

أين هو	الحجر	الآثار	النتيجة	الإشاعة
--------	-------	--------	---------	---------

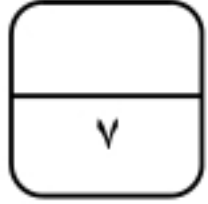


- ١- هي نقل الكلام دون التثبيت من صحته ..... الإشاعة .....
- ٢- كان الناس قديماً يكتبون على ..... الحجر .....
- ٣- من المصادر الأولية التي يعتمد عليها المؤرخ ..... الآثار .....
- ٤- هي ما ينتج عن الحدث ..... النتيجة .....
- ٥- من أسئلة الجغرافي ..... أين هو .....

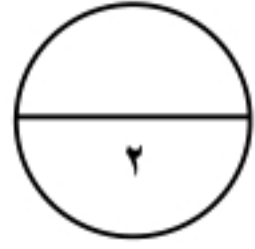
ب/ صلي العمود الأول بما يناسبه من العمود الثاني ( باستخدام الأرقام )



( أ )		( ب )
١- من أسئلة التاريخ	٤	الوطن
٢- من فروع الدراسات الاجتماعية	٣	العلم
٣- رمز الدولة و هويتها	٢	الاقتصاد
٤- بقعة الأرض التي تنتمي إليها	١	ماذا حدث



السؤال الثالث: أ/ ضعي التاريخ المناسب في مكانه ( ٢٣ سبتمبر - ٢٢ فبراير )

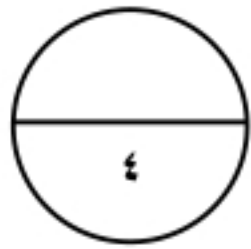


١- يوم التأسيس يوفق ..... ٢٢ فبراير ..... من كل عام

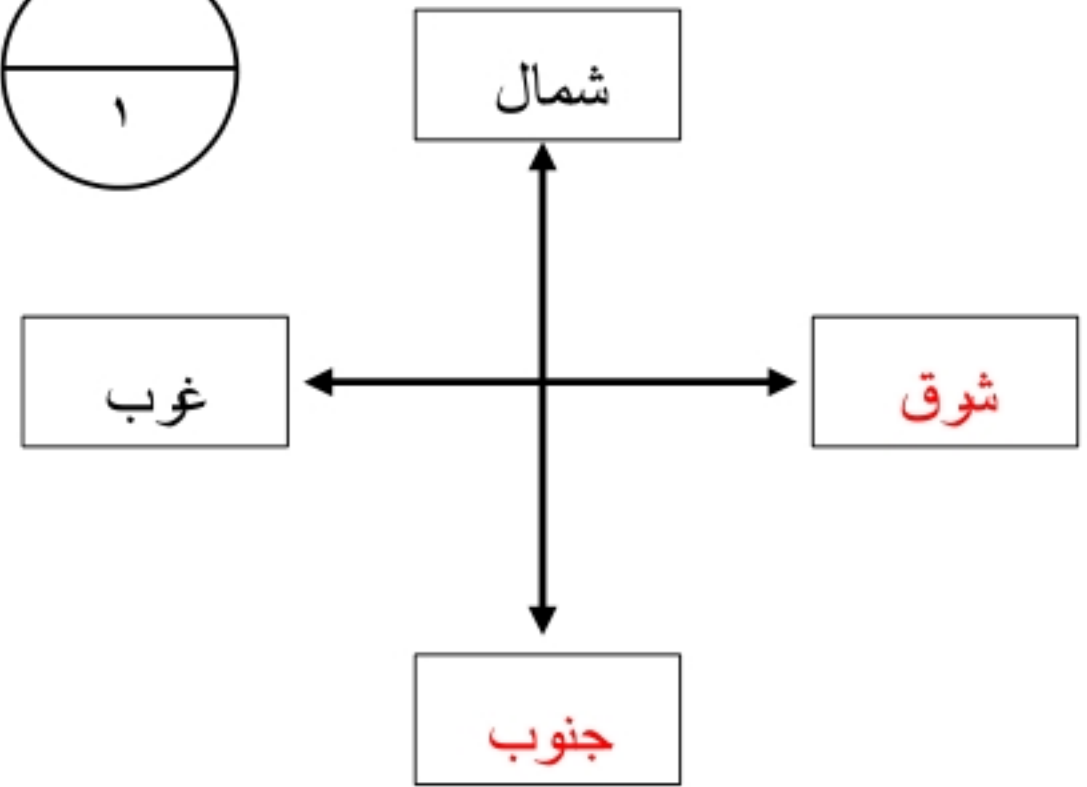
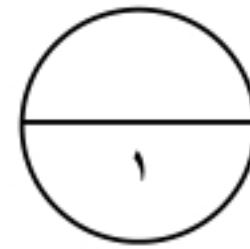
٢- اليوم الوطني يوافق ..... ٢٣ سبتمبر ..... من كل عام

ب/ أكمل الرسم التالي :

الجهات الأصلية :



أنواع الجغرافيا



تمت الأسئلة مع تمنياتي لكم بالتوفيق

معلمة المادة /



التاريخ : / / ١٤٤٥ هـ  
الفصل الدراسي: الأول ( الدور الأول )  
الزمن : ساعة



المملكة العربية السعودية  
وزارة التعليم  
إدارة التعليم بمنطقة .....  
مكتب التعليم بمحافظة .....

## اختبار مادة الدراسات الاجتماعية للصف الرابع الابتدائي لعام ١٤٤٥ هـ

اسم الطالب: ..... رقم الجلوس ( )

المراجع	المصحح	الدرجة رقماً	الدرجة كتابة	رقم السؤال
				السؤال الأول ١٥
				السؤال الثاني ١٥
				السؤال الثالث ١٠
	كتابة		رقماً	الدرجة النهائية
				40

استعن بالله أولاً ، ثم أجب على الأسئلة الآتية وتأكد من إجابتك على جميع الأسئلة قبل تسليم ورقة الإجابة

اختر الإجابة الصحيحة فيما يلي :

١ يقع وطني المملكة العربية السعودية في :		
جنوب العالم	شمال العالم	وسط العالم
٢ من عناصر التاريخ :		
الانتاج	الموقع	الشخصيات
٣ من عناصر الجغرافيا :		
التبادل التجاري	الأحداث	البيئة
٤ من عناصر الاقتصاد:		
الزمن	الحركة	الموارد والاستهلاك
٥ من عناصر الحكومة :		
البيئة	الأحداث	نظام الحكم
٦ يوم التأسيس لبلادي يوافق يوم :		
٢٢ فبراير	٢٥ مايو	١٥ يناير
٧ اليوم الوطني لبلادي يوافق يوم:		
٢٣ سبتمبر	٣ مايو	١٥ يناير
٨ علم وطني لونه :		
أخضر	أصفر	أبيض
٩ عاصمة المملكة العربية السعودية هي مدينة:		
الرياض	مكة المكرمة	جدة
١٠ يقع المسجد الحرام في مدينة :		
مكة المكرمة	المدينة المنورة	جدة
١١ هو الشخص الذي يدرس الماضي ويكتب عنه :		
السياسي	المؤرخ	الجغرافي
١٢ كان الناس قديما يكتبون ويرسمون أحداثهم التاريخية على :		
جهاز الحاسب	الحجر	الجوال
١٣ يتكون وطني المملكة العربية السعودية من :		
١١ منطقة	١٣ منطقة	١٠ مناطق
١٤ هو الشخص الذي يدرس مظاهر الأرض وطبيعتها :		
السياسي	الجغرافي	المؤرخ
١٥ التعامل السليم مع البيئة :		
رمي النفايات	أنظف المكان قبل أن أتركه	قطع الأشجار

## السؤال الثاني:

١٥

ضع علامة (√) أمام الإجابة الصحيحة وعلامة (x) أمام الإجابة الخاطئة :

١	نظام الحكم في المملكة العربية السعودية نظام ملكي .
٢	من طرق المحافظة على العلم الوطني السعودي رفعه عاليا .
٣	الشعار السعودي الرسمي هو سيفان متقاطعان وسطهما نخلة.
٤	من الرموز الوطنية في المملكة العربية السعودية العلم .
٥	النشيد الوطني هو النشيد الرسمي للمملكة العربية السعودية .
٦	الحكومة : النظام الذي يدار به الوطن .
٧	التاريخ هو دراسة أحداث الماضي وتفسيرها لتوضيح أثرها في الحاضر والمستقبل
٨	الإشاعة هي نقل الكلام دون التثبت من صحته.
٩	جميع أحداث التاريخ تقوم على الترتيب الزمني وتتابعه.
١٠	من طرق المحافظة على البيئة ترك بقايا الطعام في مكان جلوسي.
١١	الشرق والغرب من الجهات الفرعية .
١٢	ينكس العلم السعودي مثل غيره من أعلام الدول الأخرى.
١٣	مما نعمله في اليوم الوطني تخريب الممتلكات العامة.
١٤	من فروع الدراسات الاجتماعية الرياضيات .
١٥	الإشاعة لاتضر المجتمع .

## السؤال الثالث:

١٠

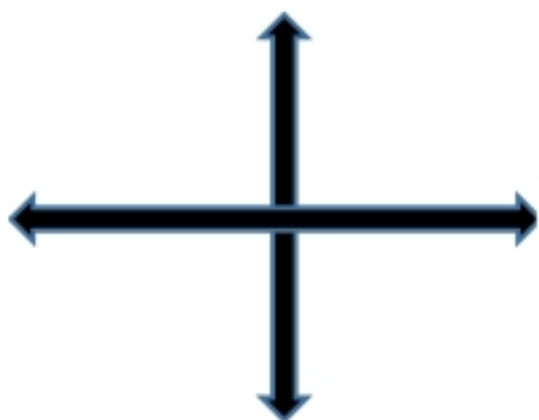
أ) املاً الفراغات بما يناسبها من الكلمات التالية:

( الدليل - التاريخ - أولية - المكان - بشرية - البضائع )

- ١- يبحث المؤرخ عن ..... من أجل أن يدرس .....
- ٢- الآثار والشواهد القديمة هي مصادر .....
- ٣- الجزء المحدد على الأرض صغيراً كان أو كبير يسمى .....
- ٤- الحركة هي انتقال الناس و ..... من مكان إلى آخر.
- ٥- للجغرافيا فرعان : طبيعية و .....

ب) حدد الجهات الأصلية في الشكل الذي أمامك :

( الشمال - الجنوب - الشرق - الغرب )



تمنياتي لكم بالتوفيق والنجاح





اختر الإجابة الصحيحة فيما يلي :

١	يقع وطني المملكة العربية السعودية في :	وسط العالم	شمال العالم	جنوب العالم
٢	من عناصر التاريخ :	الشخصيات	الموقع	الانتاج
٣	من عناصر الجغرافيا :	البيئة	الأحداث	التبادل التجاري
٤	من عناصر الاقتصاد:	الموارد والاستهلاك	الحركة	الزمن
٥	من عناصر الحكومة :	نظام الحكم	الأحداث	البيئة
٦	يوم التأسيس لبلادي يوافق يوم :	١٥ يناير	٢٥ مايو	٢٢ فبراير
٧	اليوم الوطني لبلادي يوافق يوم:	١٥ يناير	٣ مايو	٢٣ سبتمبر
٨	علم وطني لونه :	أبيض	أصفر	أخضر
٩	عاصمة المملكة العربية السعودية هي مدينة:	جدة	مكة المكرمة	الرياض
١٠	يقع المسجد الحرام في مدينة :	جدة	المدينة المنورة	مكة المكرمة
١١	هو الشخص الذي يدرس الماضي ويكتب عنه :	الجغرافي	المؤرخ	السياسي
١٢	كان الناس قديما يكتبون ويرسمون أحداثهم التاريخية على :	الجوال	الحجر	جهاز الحاسب
١٣	يتكون وطني المملكة العربية السعودية من :	١٠ مناطق	١٣ منطقة	١١ منطقة
١٤	هو الشخص الذي يدرس مظاهر الأرض وطبيعتها :	المؤرخ	الجغرافي	السياسي
١٥	التعامل السليم مع البيئة :	قطع الأشجار	أنظف المكان قبل أن أتركه	رمي النفايات



## السؤال الثاني:

١٥

ضع علامة (√) أمام الإجابة الصحيحة وعلامة (x) أمام الإجابة الخاطئة :

√	١	نظام الحكم في المملكة العربية السعودية نظام ملكي .
√	٢	من طرق المحافظة على العلم الوطني السعودي رفعه عاليا .
√	٣	الشعار السعودي الرسمي هو سيفان متقاطعان وسطهما نخلة.
√	٤	من الرموز الوطنية في المملكة العربية السعودية العلم .
√	٥	النشيد الوطني هو النشيد الرسمي للمملكة العربية السعودية .
√	٦	الحكومة : النظام الذي يدار به الوطن .
√	٧	التاريخ هو دراسة أحداث الماضي وتفسيرها لتوضيح أثرها في الحاضر والمستقبل
√	٨	الإشاعة هي نقل الكلام دون التثبت من صحته.
√	٩	جميع أحداث التاريخ تقوم على الترتيب الزمني وتتابعه.
x	١٠	من طرق المحافظة على البيئة ترك بقايا الطعام في مكان جلوسي.
x	١١	الشرق والغرب من الجهات الفرعية .
x	١٢	ينكس العلم السعودي مثل غيره من أعلام الدول الأخرى.
x	١٣	مما نعمله في اليوم الوطني تخريب الممتلكات العامة.
x	١٤	من فروع الدراسات الاجتماعية الرياضيات .
x	١٥	الإشاعة لاتضر المجتمع .

## السؤال الثالث:

١٠

أ) املاً الفراغات بما يناسبها من الكلمات التالية:

( الدليل - التاريخ - أولية - المكان - بشرية - البضائع )

- ١- يبحث المؤرخ عن **الدليل** من أجل أن يدرس **التاريخ**
- ٢- الآثار والشواهد القديمة هي مصادر **أولية**
- ٣- الجزء المحدد على الأرض صغيراً كان أو كبير يسمى **المكان**
- ٤- الحركة هي انتقال الناس و **البضائع** من مكان إلى آخر.
- ٥- للجغرافيا فرعان : طبيعية و **بشرية**.

ب) حدد الجهات الأصلية في الشكل الذي أمامك :

( الشمال - الجنوب - الشرق - الغرب )



تمنياتي لكم بالتوفيق والنجاح