

تم تحميل وعرض المادة من :



موقع واجباتك

www.wajibati.net

موقع واجباتي منصة تعليمية تساهم بنشر حل المناهج الدراسية بشكل متميز لترتقي بمجال التعليم على الإنترنت ويستطيع الطلاب تصفح حلول الكتب مباشرة لجميع المراحل التعليمية المختلفة



حمل التطبيق من هنا



رقم الجلوس

أسم الطالب :

اختبار مادة (العلوم) (الدور الأول) الفصل الدراسي الأول للعام الدراسي ١٤٤٥ هـ

الدرجة رقمياً	الدرجة كتابياً	أسم المصحح	التوقيع	أسم المراجع	التوقيع

السؤال الأول : اختر الإجابة الصحيحة من بين ما يلي :-

١٠


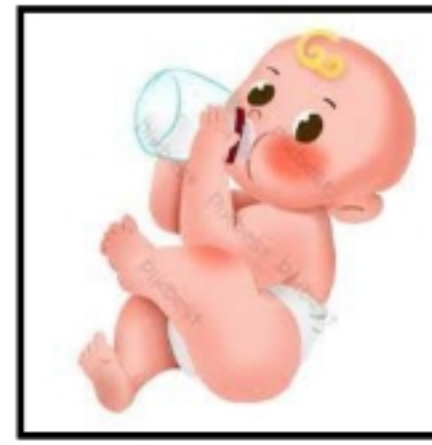
١	أي مما يلي يعتبر مخلوق حي :	(أ) النبات	(ب) الرمل	(ج) الهواء	(د) الماء
٢	ينتج المخلوق الحي أفراد من نوعه :	(أ) التكاثر	(ب) الحركة	(ج) النمو	(د) الاستجابة
٣	إدخال مواد ضارة إلى البيئة :	(أ) التلوث	(ب) التدوير	(ج) المستهلك	(د) الترشيح
٤	استخدام الشيء أكثر من مرة :	(أ) إعادة الاستخدام	(ب) الترشيح	(ج) التدوير	(د) المستهلك
٥	الحيوان الذي يصطاد غيره :	(أ) مفترس	(ب) فريسه	(ج) محلل	(د) منتج
٦	يحدث عند توقف الامطار لفترة زمنية طويلة :	(أ) التصحر	(ب) الفيضان	(ج) الجفاف	(د) الزلازل
٧	مكان يعيش فيه المخلوق الحي :	(أ) التكيف	(ب) المستهلك	(ج) الموطن	(د) التخفي
٨	تحصل معظم المنتجات على الطاقة من :	(أ) المفترسات	(ب) المحلات	(ج) الشمس	(د) الصخور
٩	وحدة بناء أجسام جميع المخلوقات الحية هي :	(أ) الهواء	(ب) الغذاء	(ج) الخلية	(د) الماء
١٠	من أنواع المحلات :	(أ) الأسد	(ب) الفراشة	(ج) البكتيريا والديدان	(د) الجراد

السؤال الثاني :

أضع علامة (√) أمام العبارة الصحيحة وعلامة (X) أمام العبارة الخاطئة في كل مما يلي :-

١	الجزء المذكر في الزهرة ينتج حبوب اللقاح .
٢	يتكون النظام البيئي من مخلوقات حية وغير حية .
٣	البرمائيات والحشرات تبدأ حياتها بالبيضة .
٤	الخلايا صغيرة جداً لا يمكن رؤيتها بالعين .
٥	تحصل معظم المنتجات على الطاقة من الشمس .
٦	يؤدي الصيد الجائر لانقراض الحيوانات .
٧	النباتات تعتبر من المنتجات .
٨	التدوير وإعادة الاستخدام يضر البيئة .
٩	الجمل يبدأ أول مراحل حياته بالبيضة .
١٠	يحدث الجفاف بسبب الأمطار الغزيرة والعواصف .

ب / ضع (√) تحت المخلوقات الحية فيما يلي وعلامة (x) امام الأشياء غير الحية :-



(.....)

(.....)

(.....)



(.....)

(.....)

السؤال الثالث : أ / نصل العمود (أ) بما يناسبه من العمود (ب) :-

(أ)	(ب)
١- الأوراق	تثبت النبات في التربة وتمتص الماء والأملاح .
٢- الساق	تركيب يمكن أن ينبت لينمو ويصبح نبات جديد .
٣- البذرة	تقوم بصنع الغذاء حيث تستخدم الشمس .
٤- الجذور	يشكل قوام النبات ويحمل أجزاء النبات .

ج - رتب الصور لتكوين سلسلة غذائية في ما يلي :-



ب - ما الذي تحتاجه المخلوقات الحية :-

- ١-
- ٢-
- ٣-

انتهت الأسئلة،

رقم الجلوس

أسم الطالب :

اختبار مادة (العلوم) (الدور الأول) الفصل الدراسي الأول للعام الدراسي ١٤٤٤ هـ

الدرجة	الدرجة	الدرجة	الدرجة
رقماً	كتابتاً	أسم المراجع	التوقيع

نموذج الإجابة

السؤال الأول : اختر الإجابة الصحيحة من بين ما يلي :-

١٠

١	أي مما يلي يعتبر مخلوق حي :	(أ) النبات	(ب) الرمل	(ج) الهواء	(د) الماء
٢	ينتج المخلوق الحي أفراد من نوعه :	(أ) التكاثر	(ب) الحركة	(ج) النمو	(د) الاستجابة
٣	إدخال مواد ضارة إلى البيئة :	(أ) التلوث	(ب) التدوير	(ج) المستهلك	(د) الترشيد
٤	استخدام الشيء أكثر من مرة :	(أ) إعادة الاستخدام	(ب) الترشيد	(ج) التدوير	(د) المستهلك
٥	الحيوان الذي يصطاد غيره :	(أ) مفترس	(ب) فريسه	(ج) محلل	(د) منتج
٦	يحدث عند توقف الامطار لفترة زمنية طويلة :	(أ) التصحر	(ب) الفيضان	(ج) الجفاف	(د) الزلازل
٧	مكان يعيش فيه المخلوق الحي :	(أ) التكيف	(ب) المستهلك	(ج) الموطن	(د) التخفي
٨	تحصل معظم المنتجات على الطاقة من :	(أ) المفترسات	(ب) المحلات	(ج) الشمس	(د) الصخور
٩	وحدة بناء أجسام جميع المخلوقات الحية هي :	(أ) الهواء	(ب) الغذاء	(ج) الخلية	(د) الماء
١٠	من أنواع المحلات :	(أ) الأسد	(ب) الفراشة	(ج) البكتيريا والديدان	(د) الجراد

السؤال الثاني :

أضع علامة (√) أمام العبارة الصحيحة وعلامة (X) أمام العبارة الخاطئة في كل مما يلي :-

1	الجزء المذكر في الزهرة ينتج حبوب اللقاح .	√
2	يتكون النظام البيئي من مخلوقات حية وغير حية .	√
3	البرمائيات والحشرات تبدأ حياتها بالبيضة .	√
4	الخلايا صغيرة جداً لا يمكن رؤيتها بالعين .	√
5	تحصل معظم المنتجات على الطاقة من الشمس .	√
6	يؤدي الصيد الجائر لانقراض الحيوانات .	√
7	النباتات تعتبر من المنتجات .	√
8	التدوير وإعادة الاستخدام يضر البيئة .	X
9	الجمل يبدأ أول مراحل حياته بالبيضة .	X
10	يحدث الجفاف بسبب الأمطار الغزيرة والعواصف .	X

ب / ضع (√) تحت المخلوقات الحية فيما يلي وعلامة (x) امام الأشياء غير الحية :-



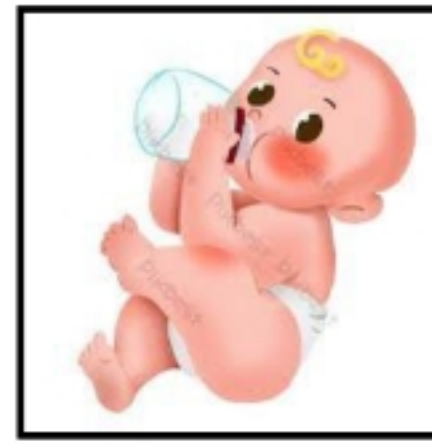
(.....)




(.....)



(.....)



(.....)





(.....)

السؤال الثالث : أ / نصل العمود (أ) بما يناسبه من العمود (ب) :-

(أ)	(ب)
1- الأوراق	تثبت النبات في التربة وتمتص الماء والأملاح .
2- الساق	تركيب يمكن أن ينبت لينمو ويصبح نبات جديد .
3- البذرة	تقوم بصنع الغذاء حيث تستخدم الشمس .
4- الجذور	يشكل قوام النبات ويحمل أجزاء النبات .

ج - رتب الصور لتكوين سلسلة غذائية في ما يلي :-



ب - ما الذي تحتاجه المخلوقات الحية :-

الغذاء - الماء - المكان - الغازات

انتهت الأسئلة،

اختبار نهائي علوم ثالث الفصل الدراسي الأول لعام ١٤٤٥ هـ

أسم الطالب		الصف					
رقم الجلوس		٣ /					
رقم السؤال	الدرجة المستحقة	المصحح	توقيعه	المراجع	توقيعه	المدقق	توقيعه
رقماً	كتابة						
السؤال الأول							
السؤال الثاني							
السؤال الثالث							
السؤال الرابع							
المجموع							

السؤال الأول: ضع علامة (✓) أمام العبارة الصحيحة وعلامة (x) أمام العبارة الخاطئة؟

١-	من خصائص المخلوقات الحية النمو و التكاثر .	()
٢-	لا تمر الزواحف و الطيور بمرحلة التحول .	()
٣-	لا تستطيع النباتات الصحراوية التكيف في الصحراء .	()
٤-	المخالب الحادة تساعد الحيوانات المفترسة على الصيد .	()
٥-	الجفاف أحد أنواع الكوارث الطبيعية يحدث نتيجة الأمطار الغزيرة .	()

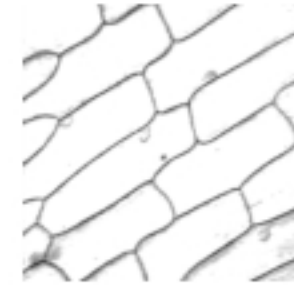
السؤال الثاني: أكمل الفراغات التالية بالكلمة المناسبة؟

(الورقة - الزواحف - المحلات - الهجرة - الترديد)

- ١- مخلوقات حية تحلل بقايا النباتات والحيوانات .
- ٢- انتقال المخلوقات الحية من بيئة باردة إلى بيئة دافئة .
- ٣- تبدأ دورة حياتها بالبيض .
- ٤- يساعد على حماية الإنسان لبيئته .
- ٥- جزء النبات الذي يصنع الغذاء .

السؤال الثالث : أختار الإجابة الصحيحة ؟

١- يمثل الشكل المجاور



- خلايا
- ورقة
- تكيف

٢- يعتبر النمر



- شيء غير حي
- مخلوق حي
- طيور

٣- الجزء المشار إليه في البذرة



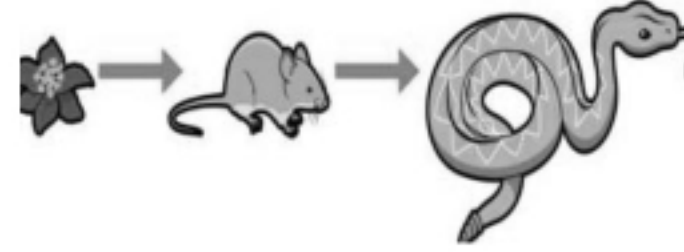
- الجنين
- غلاف البذرة
- الغذاء

٤- من مراحل نمو الفراشة في الصورة التالية



- عذراء
- بيضة
- يرقة

٥- يعتبر الثعبان في السلسلة الغذائية



- محلل
- مستهلك
- منتج

٦- مكان يعيش فيه المخلوق الحي ويجد حاجاته


- نظام بيئي
- تكاثر
- موطن

٨- من تكيفات الخفاش



- اللون الفاتح
- النشاط الليلي
- التخفي

٧- يمثل الشكل المجاور



- سلسلة غذائية
- شبكة غذائية
- نظام بيئي

١٠- يحدث الإنسان تغيراً في بيئته عن طريق

- التدوير
- إعادة الاستخدام
- التلوث

٩- غزال الريم حيوان



- منقرض
- مهدد بالانقراض
- شيء غير حي

الفصل الدراسي : الأول
العام الدراسي : ١٤٤٤ هـ
المادة : علوم
الصف : الثالث
الزمن : ساعة و نصف

نموذج الإجابة لاختبار نهائي علوم ثالث الفصل الدراسي الأول (الدور الأول) لعام ١٤٤٤ هـ

أسم الطالب		الصف						
رقم الجلوس		٣ /						
رقم السؤال	الدرجة المستحقة		المصحح	توقيعه	المراجع	توقيعه	المدقق	توقيعه
	رقماً	كتابة						
السؤال الأول								
السؤال الثاني								
السؤال الثالث								
السؤال الرابع								
المجموع								

السؤال الأول: ضع علامة (✓) أمام العبارة الصحيحة وعلامة (x) أمام العبارة الخاطئة؟

١-	من خصائص المخلوقات الحية النمو و التكاثر .	(درجتان)	(✓)
٢-	لا تمر الزواحف و الطيور بمرحلة التحول .	(درجتان)	(✓)
٣-	لا تستطيع النباتات الصحراوية التكيف في الصحراء .	(درجتان)	(x)
٤-	المخالب الحادة تساعد الحيوانات المفترسة على الصيد .	(درجتان)	(✓)
٥-	الجفاف أحد أنواع الكوارث الطبيعية يحدث نتيجة الأمطار الغزيرة .	(درجتان)	(x)

السؤال الثاني: أكمل الفراغات التالية بالكلمة المناسبة؟

(الورقة - الزواحف - المحللات - الهجرة - الترشيذ)

١- المحللات مخلوقات حية تحلل بقايا النباتات والحيوانات . (درجتان)

٢- الهجرة انتقال المخلوقات الحية من بيئة باردة إلى بيئة دافئة . (درجتان)

٣- الزواحف تبدأ دورة حياتها بالبيض . (درجتان)

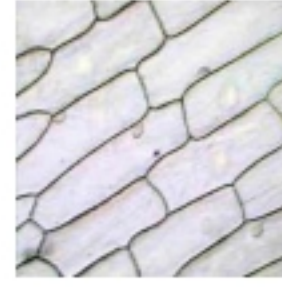
٤- الترشيذ يساعد على حماية الإنسان لبيئته . (درجتان)

٥- الورقة جزء النبات الذي يصنع الغذاء . (درجتان)



السؤال الثالث : أختَر الإجابة الصحيحة ؟ (كل فقرة درجتان)

١- يمثل الشكل المجاور



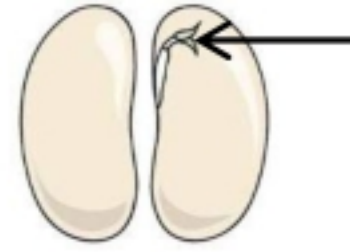
- خلايا
- ورقة
- تكيف

٢- يعتبر النمر



- شيء غير حي
- مخلوق حي
- طيور

٣- الجزء المشار إليه في البذرة




- الجنين
- غلاف البذرة
- الغذاء

٤- من مراحل نمو الفراشة في الصورة التالية



- عذراء
- بيضة
- يرقة

٥- يعتبر النبات في السلسلة الغذائية



- محلل
- مستهلك
- منتج

٦- مكان يعيش فيه المخلوق الحي ويجد حاجاته

- نظام بيئي
- تكاثر
- موطن

٨- من تكيفات الخفاش



- اللون الفاتح
- النشاط الليلي
- التخفي

٧- يمثل الشكل المجاور



- سلسلة غذائية
- شبكة غذائية
- نظام بيئي

١٠- يحدث الإنسان تغيراً في بيئته عن طريق

- التدوير
- إعادة الاستخدام
- التلوث

٩- غزال الريم حيوان



- منقرض
- مهدد بالانقراض
- شيء غير حي