

تم تحميل وعرض المادة من :



# موقع واجباتي

## www.wajibati.net

موقع واجباتي منصة تعليمية تساهم بنشر حل المناهج الدراسية بشكل متميز لترتقي بمجال التعليم على الإنترنت ويستطيع الطلاب تصفح حلول الكتب مباشرة لجميع المراحل التعليمية المختلفة



حمل التطبيق من هنا

اختبار التربية الفنية - ثالث ابتدائي - الترم الاول

الصف : ٣ / .....

اسم الطالب/ة : .....

السؤال الأول ، صح او خطأ :

١. التصميم هو التخطيط لشيء معين وإنشاؤه بطريقة جميلة وممتعة

صح  خطأ

٢. يتم تنفيذ الاسكتش غالباً بأقلام الرصاص

صح  خطأ

٣. ألعابنا تعتمد على التصميم

صح  خطأ

٤. التصميم يستخدم في الفنون و العمارة و الأثاث فقط

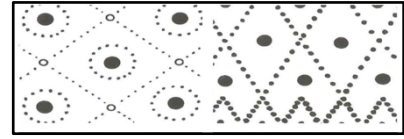

صح  خطأ

٥. لم يعتمد الانسان في زخرفته على الموجودات المحيطة به

صح  خطأ

السؤال الثاني ، اختاري ما بين الاقواس وضعه في المكان المناسب في الفراغات التالية :

( تشكيلات من نقطة - تشكيلات من الخطوط )

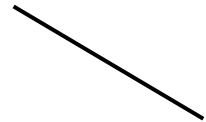


السؤال الثالث ، صل/ي بين الشكل وما يناسبه من الكلمات فيما يأتي :

الخط



الحجم



الشكل



# نموذج إجابة

المملكة العربية السعودية  
وزارة التعليم  
الإدارة العامة للتعليم بمنطقة .....  
ابتدائية .....

١٠

اختبار التربية الفنية - ثالث ابتدائي - الترم الاول


الصف : ٣ / .....

اسم الطالب/ة : .....

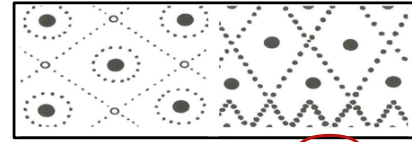
السؤال الأول ، صح او خطأ :

١. التصميم هو التخطيط لشيء معين وإنشاؤه بطريقة جميلة وممتعة  
 صح  خطأ
٢. يتم تنفيذ الاسكتش غالباً بأقلام الرصاص  
 صح  خطأ
٣. العابنا تعتمد على التصميم  
 صح  خطأ
٤. التصميم يستخدم في الفنون و العمارة و الأثاث فقط  
 صح  خطأ
٥. لم يعتمد الانسان في زخرفته على الموجودات المحيطة به  
 صح  خطأ

السؤال الثاني ، اختاري ما بين الأقواس وضعه في المكان المناسب في الفراغات التالية :  
( تشكيلات من نقطة - تشكيلات من الخطوط )



..... تشكيلات من الخطوط .....



..... تشكيلات من نقطة .....

السؤال الثالث ، صل/ي بين الشكل وما يناسبه من الكلمات فيما يأتي :

