

تم تحميل وعرض المادة من :



# موقع واجباتك

## www.wajibati.net

موقع واجباتي منصة تعليمية تساهم بنشر حل المناهج الدراسية بشكل متميز لترتقي بمجال التعليم على الإنترنت ويستطيع الطلاب تصفح حلول الكتب مباشرة لجميع المراحل التعليمية المختلفة



حمل التطبيق من هنا

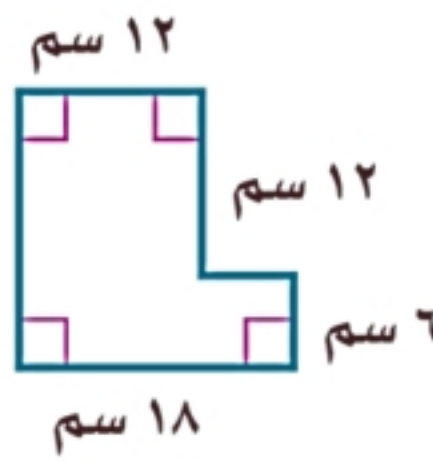


المصحح	التوقيع	الدرجة	الدرجة
المراجع	التوقيع	كتابة	رقما
		٤٠	

٢٠ درجة

السؤال الأول : اختر الإجابة الصحيحة لكل فقرة :

١ أوجد مساحة الشكل المركب



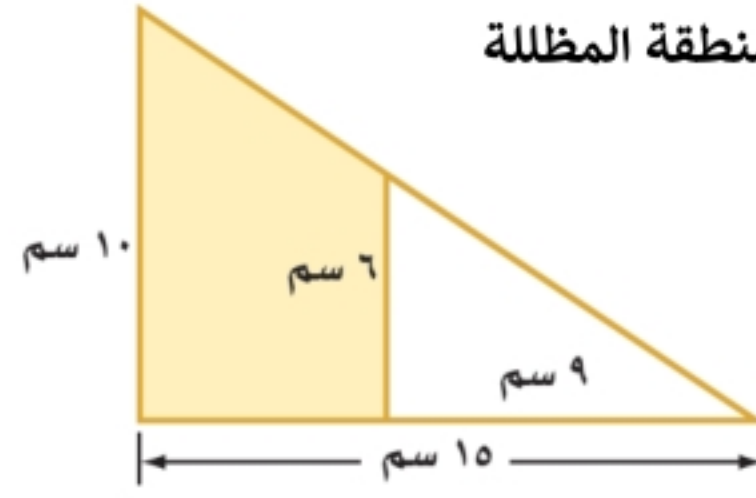
- (أ) ٢٤٦ سم<sup>٢</sup>  
(ب) ٢٥٢ سم<sup>٢</sup>  
(ج) ٢٣٨ سم<sup>٢</sup>  
(د) ٢٤٤ سم<sup>٢</sup>

٢ عدد أوجه المجسم



- (أ) ٥  
(ب) ٤  
(ج) ٦  
(د) ٣

٣ أوجد مساحة المنطقة المظللة



- (أ) ٦٠ سم<sup>٢</sup>  
(ب) ٥٤ سم<sup>٢</sup>  
(ج) ٤٢ سم<sup>٢</sup>  
(د) ٤٨ سم<sup>٢</sup>

٤ مجسم قاعدته دائرتان متطابقتان ومتوازيتان

- (أ) المخروط  
(ب) الهرم  
(ج) الأسطوانة  
(د) المنشور

٥ أوجد حجم المنشور

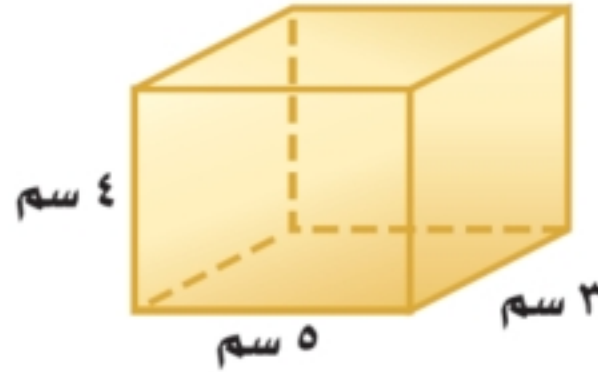


- (أ) ٤٥ قدم<sup>٣</sup>  
(ب) ٣٦ قدم<sup>٣</sup>  
(ج) ٤٢ قدم<sup>٣</sup>  
(د) ٤٤ قدم<sup>٣</sup>

٦ تبسيط العبارة  $٧٧ + ٥ - ٧٧ =$

- (أ) ٥  
(ب) ١٤  
(ج) ٧  
(د) ٢٢

٧ المساحة الجانبية للمنشور



- (أ) ٢٤٦ سم<sup>٢</sup>  
(ب) ٢٦٢ سم<sup>٢</sup>  
(ج) ٥٢ سم<sup>٢</sup>  
(د) ٦٤ سم<sup>٢</sup>

٨ يجب أن يكون عمرك أكبر من ١٨ سنة حتى تقود السيارة

- (أ)  $١٨ > ع$   
(ب)  $١٨ \leq ع$   
(ج)  $١٨ < ع$   
(د)  $١٨ \geq ع$

٩ العبارة التي تكافئ  $٣(ص - ١٠) =$

- (أ)  $٣ص - ٧$   
(ب)  $٣ص - ٣٠$   
(ج)  $٣ص - ١٣$   
(د)  $٧ + ص$

١٠ حل المعادلة  $٣س + ٢ = ٢٠$  هو س =

- (أ)  $س = ٦$   
(ب)  $س = ٤$   
(ج)  $س = ٥$   
(د)  $س = ٣$

١٢ أكبر من ثلاثة أمثال عدد بمقدار واحد يساوي ٧

- (أ)  $٧ = ١ - ٣س$   
(ب)  $٧ = ٣ + س$   
(ج)  $٧ = ١ + ٣س$   
(د)  $١ = ٧ + ٣س$

١١ حل المعادلة  $٢١ + ١٥ = ٨$

- (أ)  $٨ = أ$   
(ب)  $٣ = أ$   
(ج)  $٦ = أ$   
(د)  $٧ = أ$

١٣ قيمة د (٦) اذا كان د(س) = ٢س - ٨

١٤ يتسع خزان الوقود لـ ٦٠ لترا على الأكثر

- (أ) ١  
(ب) ٤  
(ج) صفر  
(د) -٤
- (أ)  $٦٠ \geq ل$   
(ب)  $٦٠ < ل$   
(ج)  $٦٠ \leq ل$   
(د)  $٦٠ > ل$

١٥ عبارة الحد النوني للمتتابعة الحسابية -٢، -٤، -٦، -٨، ...

١٦ حل المتباينة س - ٤ > ٨

- (أ) ن - ٢  
(ب) ن - ٢٢  
(ج) ن + ٢  
(د) ن - ٢٠
- (أ) س > ٤  
(ب) س > ٢  
(ج) س > ١٢  
(د) س > ١٠

١٧ الحدود الثلاثة التالية بالمتتابعة الحسابية ٢، ٦، ١٠، ....

١٨ ميل المستقيم المار بالنقطتين (٤، ١) و (٦، ٥) هو

- (أ) ١٤، ١٩، ٢٣  
(ب) ١٤، ١٨، ٢٢  
(ج) ١٥، ١٨، ٢١  
(د) ١٤، ١٧، ٢٠
- (أ) ٢  
(ب) -١  
(ج) ١  
(د) ٢

١٩ المتباينة ن + ٦ < ١٤ صحيحة عندما

٢٠ يبيع محل خضار ٦ برتقالات بـ ١٢ ريال. فما ثمن ١٠ برتقالات ؟

- (أ) ن = ٨  
(ب) ن = ٧  
(ج) ن = ٢  
(د) ن = ٩
- (أ) ١٨  
(ب) ٢٤  
(ج) ٢٠  
(د) ٢٢

١٠ درجات

السؤال الثاني : ضع علامة ( ✓ ) أمام العبارة الصحيحة وعلامة ( x ) أمام العبارة الخاطئة :

١	حجم المخروط يساوي ثلث حجم الأسطوانة
٢	أساس المتتابعة الحسابية ١٤، ١٢، ١٠، ..... هو ٢
٣	الخاصية في العبارة $٣(٦+أ) = ١٨+١٣$ هي خاصية التوزيع
٤	عند ضرب أو قسمة طرفي المتباينة في عدد موجب فإن إشارة المتباينة تتغير حتى تبقى صحيحة
٥	في العبارة الجبرية ن - ٥ - ٢ن - ٣ + ن الثوابت -٣

١٠ درجات

السؤال الثالث : ضع رقم العبارة من العمود (أ) أمام العبارة التي تناسبها في العمود (ب)

العمود (ب)	م	العمود (أ)	م
مجال الدالة	<input type="checkbox"/>	مجسم قاعدته الوحيدة مضلع وواجهه مثلثات	١
لا يتقاطعان أبدا مهما امتدا	<input type="checkbox"/>	تمثل حلولها بيانيا بخط مستقيم	٢
لا يتقاطعان ولا يقعان في المستوى نفسه	<input type="checkbox"/>	المستقيمان المتخالفان	٣
الدالة الخطية	<input type="checkbox"/>	مستقيمين متوازيين	٤
الهرم	<input type="checkbox"/>	مجموعة قيم المدخلات	٥

انتهت الأسئلة

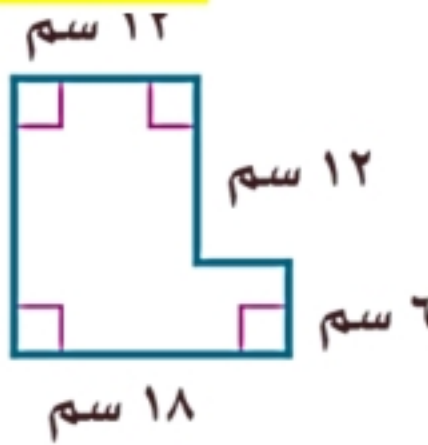
التوقيع	الدرجة	المصحح
التوقيع	كتابة	المراجع

## نموذج إجابة

السؤال الأول : اختر الإجابة الصحيحة لكل فقر

٢٠ درجة

١ أوجد مساحة الشكل المركب



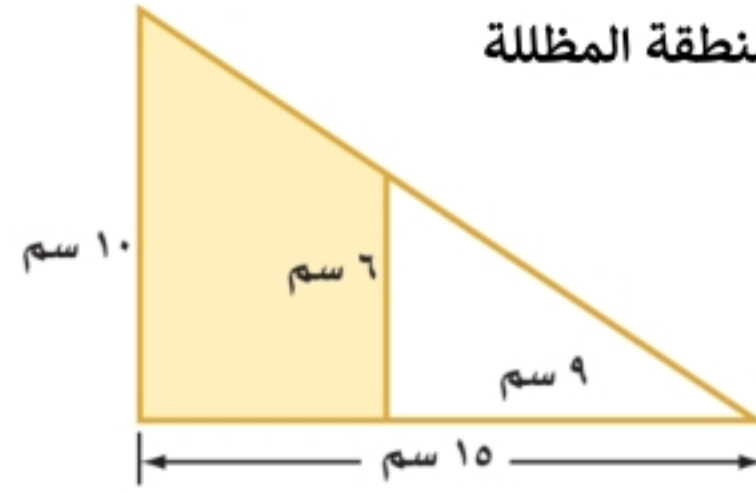
- (أ) ٢٤٦ سم<sup>٢</sup>  
(ب) ٢٥٢ سم<sup>٢</sup>  
(ج) ٢٣٨ سم<sup>٢</sup>  
(د) ٢٤٤ سم<sup>٢</sup>

٢ عدد اوجه الجسم



- (أ) ٥  
(ب) ٤  
(ج) ٦  
(د) ٣

٣ أوجد مساحة المنطقة المظللة



- (أ) ٦٠ سم<sup>٢</sup>  
(ب) ٥٤ سم<sup>٢</sup>  
(ج) ٤٢ سم<sup>٢</sup>  
(د) ٤٨ سم<sup>٢</sup>

٤ مجسم قاعدته دائرتان متطابقتان ومتوازيتان

- (أ) المخروط  
(ب) الهرم  
(ج) الأسطوانة  
(د) المنشور

٥ أوجد حجم المنشور

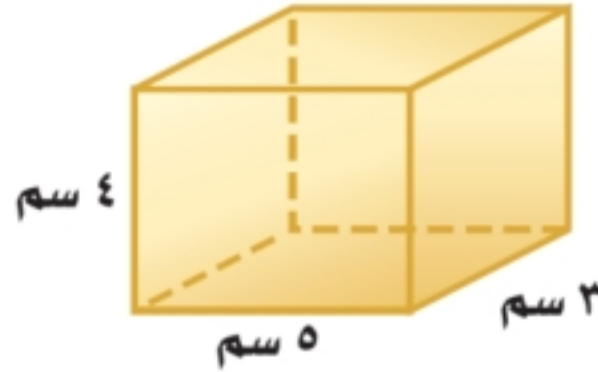


- (أ) ٤٥ قدم<sup>٣</sup>  
(ب) ٣٦ قدم<sup>٣</sup>  
(ج) ٤٢ قدم<sup>٣</sup>  
(د) ٤٤ قدم<sup>٣</sup>

٦ تبسيط العبارة  $٧٧ + ٥ - ٧٧ =$

- (أ) ٥  
(ب) ١٤  
(ج) ٧  
(د) ٢٧

٧ المساحة الجانبية للمنشور



- (أ) ٢٤٦ سم<sup>٢</sup>  
(ب) ٢٦٢ سم<sup>٢</sup>  
(ج) ٥٢ سم<sup>٢</sup>  
(د) ٦٤ سم<sup>٢</sup>

٨ يجب أن يكون عمرك أكبر من ١٨ سنة حتى تقود السيارة

- (أ)  $١٨ > ع$   
(ب)  $١٨ \leq ع$   
(ج)  $١٨ < ع$   
(د)  $١٨ \geq ع$

٩ العبارة التي تكافئ  $٣(ص - ١٠) =$

- (أ)  $٣ص - ٧$   
(ب)  $٣ص - ٣٠$   
(ج)  $٣ص - ١٣$   
(د)  $٧ + ص$

١٠ حل المعادلة  $٣س + ٢ = ٢٠$  هو س =

- (أ)  $س = ٦$   
(ب)  $س = ٤$   
(ج)  $س = ٥$   
(د)  $س = ٣$

١١ حل المعادلة  $٢١ + ١٥ = ٨$

- (أ)  $٨ = أ$   
(ب)  $٣ = أ$   
(ج)  $٦ = أ$   
(د)  $٧ = أ$

١٢ أكبر من ثلاثة أمثال عدد بمقدار واحد يساوي ٧

- (أ)  $٧ = ١ - ٣س$   
(ب)  $٧ = ٣ + س$   
(ج)  $٧ = ١ + ٣س$   
(د)  $١ = ٧ + ٣س$

١٣ قيمة د (٦) اذا كان د(س) = ٢س - ٨

١٤ يتسع خزان الوقود لـ ٦٠ لترا على الأكثر

- (أ) ١  
(ب) ٤  
(ج) صفر  
(د) ٤-
- (أ)  $٦٠ \geq ل$   
(ب)  $٦٠ < ل$   
(ج)  $٦٠ \leq ل$   
(د)  $٦٠ > ل$

١٥ عبارة الحد النوني للمتتابعة الحسابية -٢، -٤، -٦، -٨، ...

١٦ حل المتباينة س - ٤ > ٨

- (أ) ن - ٢  
(ب) ن - ٢٢  
(ج) ن + ٢  
(د) ن - ٢٢
- (أ) س > ٤  
(ب) س > ٢  
(ج) س > ١٢  
(د) س > ١٠

١٧ الحدود الثلاثة التالية بالمتتابعة الحسابية ٢، ٦، ١٠، ....

١٨ ميل المستقيم المار بالنقطتين (٤، ١) و (٦، ٥) هو

- (أ) ٢٣، ١٩، ١٤  
(ب) ٢٢، ١٨، ١٤  
(ج) ٢١، ١٨، ١٥  
(د) ٢٠، ١٧، ١٤
- (أ) ٢  
(ب) ١-  
(ج) ١  
(د) ٢

١٩ المتباينة ن + ٦ < ١٤ صحيحة عندما

٢٠ يبيع محل خضار ٦ برتقالات بـ ١٢ ريال. فما ثمن ١٠ برتقالات ؟

- (أ) ن = ٨  
(ب) ن = ٧  
(ج) ن = ٢  
(د) ن = ٩
- (أ) ١٨  
(ب) ٢٤  
(ج) ٢٠  
(د) ٢٢

١٠ درجات

السؤال الثاني : ضع علامة ( ✓ ) أمام العبارة الصحيحة وعلامة ( x ) أمام العبارة الخاطئة :

١	حجم المخروط يساوي ثلث حجم الأسطوانة	✓
٢	أساس المتتابعة الحسابية ١٤، ١٢، ١٠، ..... هو ٢	x
٣	الخاصية في العبارة $٣(٦+أ) = ١٨+٣أ$ هي خاصية التوزيع	✓
٤	عند ضرب أو قسمة طرفي المتباينة في عدد موجب فإن إشارة المتباينة تتغير حتى تبقى صحيحة	x
٥	في العبارة الجبرية ن - ٥ - ٢ن - ٣ + ن الثوابت - ٣	✓

١٠ درجات

السؤال الثاني : ضع رقم العبارة من العمود (أ) أمام العبارة التي تناسبها في العمود (ب)

العمود (أ)	م	العمود (ب)	م
مجسم قاعدته الوحيدة مضلع وواجهه مثلثات	١	مجال الدالة	٥
تمثل حلولها بيانيا بخط مستقيم	٢	لا يتقاطعان أبدا مهما امتدا	٤
المستقيمان المتخالفان	٣	لا يتقاطعان ولا يقعان في المستوى نفسه	٣
مستقيمين متوازيين	٤	الدالة الخطية	٢
مجموعة قيم المدخلات	٥	الهرم	١


انتهت الأسئلة

رياضيات	المادة	بسم الله الرحمن الرحيم		المملكة العربية السعودية وزارة التعليم إدارة التعليم بمحافظة مدرسة
الأول	الدور	 		
ثاني متوسط	الصف			
ساعتان	الزمن			
١٤٤٤ هـ	العام الدراسي			

اسم الطالبة	رقم الجلوس			
رقم السؤال	السؤال الأول	السؤال الثاني	السؤال الثالث	المجموع
الدرجة				

٢٠

السؤال الأول: اختر الإجابة الصحيحة في كل سؤال مما يلي:

١	يسمى الشكل المجاور:				
أ	منشور رباعي	ب	منشور ثلاثي	ج	هرم رباعي
د	هرم ثلاثي	ما أقل عدد من المشابك نحتاج إليه لتثبيت ٨ قطع من الملابس على حبل الغسيل، إذا علمنا أن كل قطعة تحتاج مشبكين وبإمكاننا تثبيت قطعتين متجاورتين بمشبك واحد؟			
أ	٦	ب	٨	ج	٩
د	١٢	تبسيط العبارة ٤ز - ز يساوي:			
أ	٥ز	ب	-٤ز	ج	١٢ز
د	٣ز	إذا كان $(س) = ٢س + ٤$ ، فإن $(٣)$ تساوي:			
أ	٨	ب	٩	ج	١٠
د	١١	المعادلة التي تعبر عن الجملة "أكبر من ثلاثة أمثال عدد بمقدار واحد يساوي ٧" هي:			
أ	$٣ن + ٧ = ١$	ب	$٣ن = ٧$	ج	$٧ + ٣ = ١$
د	$٣ن + ١ = ٧$	استعمل خاصية التوزيع في إعادة كتابة العبارة $(٢ - ب - ٣)$ :			
أ	٦ب	ب	٢ب - ب	ج	٦ + ب
د	٢ب - ٦	ثلاثة نجارين يصنع كل واحد منهم ثلاثة كراسي في ثلاثة أيام، فإن عدد الكراسي التي يصنعها ٧ نجارين في ٣٠ يوماً إذا عملوا بالمعدل نفسه يساوي:			
أ	١١٠ كرسي	ب	٢١٠ كرسي	ج	١٩٠ كرسي
د	٢٠٠ كرسي	أساس المتتابعة الحسابية ٢، ٦، ١٠، ١٤، ١٨، ..... هو			
أ	٤	ب	٧	ج	٨
د	٢٣	المعاملات في العبارة التالية $٥ن - ٢ن - ٣ + ن$ هي:			
أ	٥، ٣-	ب	٥، ٢-	ج	٣-
د	٥، ٢-	الحد التالي في المتتابعة الحسابية ٢، ٤، ٦، ٨، ..... هو:			
أ	٢	ب	١١	ج	٩
د	١٠				

ميل سقف الغرفة المجاورة هو:



١١

١٥

د

$\frac{3}{5}$

ج

$\frac{1}{5}$

ب

٥

أ

المتباينة التي تمثلها الشكل التالي هي:



١٢

ك < ١ -

د

ك ≥ ١ -

ج

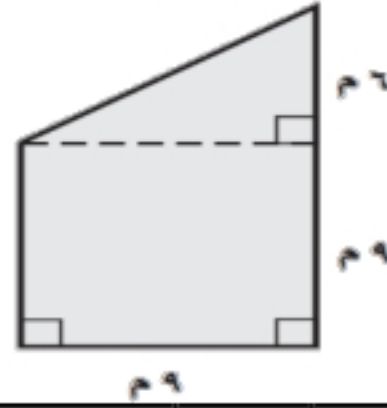
ك > ١ -

ب

ك ≤ ١ -

أ

مساحة الشكل المركب المجاور:



١٣

$٢٩٩\text{م}^٢$

د

$٢١٠\text{م}^٢$

ج

$٢١٠٨\text{م}^٢$

ب

$٢٢٩\text{م}^٢$

أ

حل المتباينة:  $٧ ≥ ٣ + س$

١٤

س < ١٠

د

س ≥ ٤

ج

س > ٤

ب

س > ١٠

أ

قاعدة الدالة المجاورة هي:

س	د (س)
٥-	٩-
١-	٥-
٣	١-
٧	٣

١٥

د(س) = س - ٤

د

د(س) = س + ٤

ج

د(س) = س - ٤

ب

د(س) = س - ٤

أ

يبيع محل خضار ٦ برتقالات بـ ١٢ ريالاً، فما ثمن ١٠ برتقالات؟

١٦

٣٤ ريالاً

د

١٥ ريالاً

ج

٢٤ ريالاً

ب

٢٠ ريالاً

أ

عبارة تستعمل لإيجاد الحد النوني للمتتابعة (٢، ٥، ٨، ١١، .....)

١٧

١ + ٢ن

د

١ - ٢ن

ج

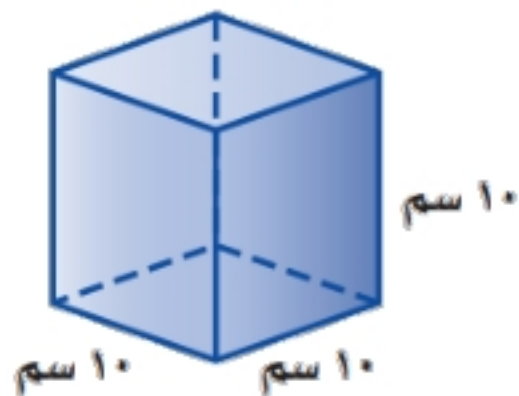
١ + ٣ن

ب

١ - ٣ن

أ

أوجد حجم المنشور في الشكل المجاور



١٨

$١٠٠\text{سم}^٣$

د

$١٠٠٠\text{سم}^٣$

ج

$١٠\text{سم}^٣$

ب

$٧٢\text{سم}^٣$

أ

الحد الثامن في المتتابعة (١٩، ٢١، ٢٣، ٢٥، .....)

١٩

٣٠

د

٢٩

ج

٢٨

ب

١١

أ

حل المعادلة:  $٧ = ٥ - \frac{2}{3}س$

٢٠

١٨

د

١٠

ج

٦

ب

٢

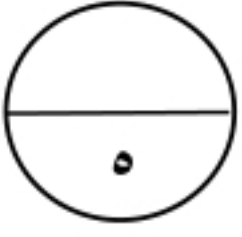
أ



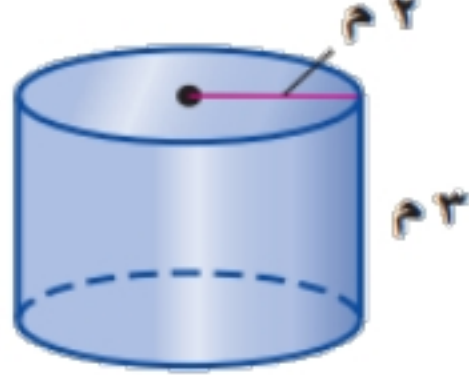
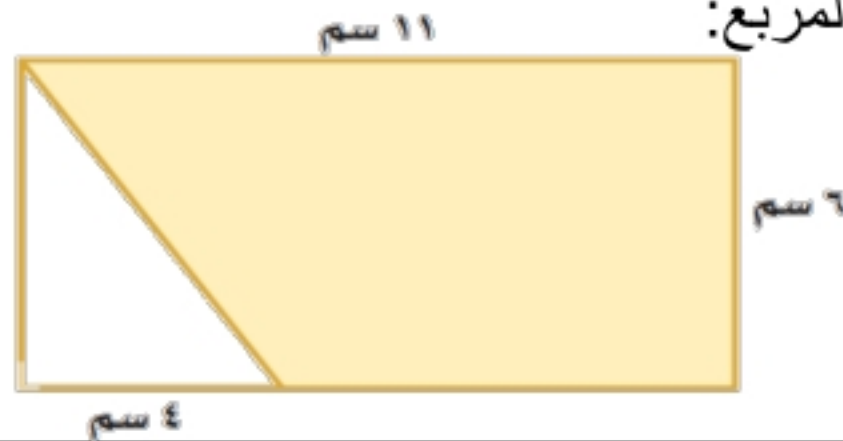
تابع

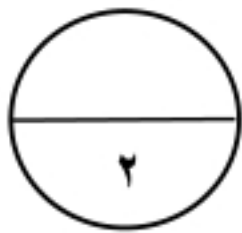
(أ) ضع علامة (✓) أمام العبارة الصحيحة، وعلامة (x) أمام العبارة الخاطئة فيما يلي:

١	الشكل المركب يتكون من شكلين بسيطين أو أكثر.
٢	المخروط مجسم قاعدته دائريتان متطابقتان ومتوازيان متصلتان معاً بجانب منحنى.
٣	المعادلة التي تمثل طولها بيانياً بخط مستقيم تسمى دالة خطية
٤	الحجم هو قياس الحيز الذي يشغله الجسم في الفضاء ويقاس بالوحدات المكعبة.
٥	المتتابعة التي حدها النوني $n^3$ تمثل متتابعة حسابية.



(ب) صل من العمود (الأول) ما يناسبه من العمود (الثاني)

العمود (ب)	العمود (أ)
٤٥	١- الحد الثابت في العبارة $8x + 4$ هو
٣٧,٧	٢- ميل المستقيم المار بالنقطتين (٥، ٣) ، (٢، ٦) يساوي:
١-	٣- المساحة الجانبية لسطح الأسطوانة (مقرب الجواب لأقرب جزء من عشرة):
٦٦	
٤	٤- حل المعادلة $17 + 10 = 12$
٢-	٥- مساحة المنطقة المظللة بالسنتيمتر المربع:
٢	



(ج) حدد اسم المجسم التالي وأذكر عدد أوجهه وأحرفه ورؤوسه؟

اسم الشكل: .....

عدد أحرفه: .....

عدد رؤوسه: .....

عدد أوجهه: .....

تابع

٣



السؤال الثالث:

(أ) أكمل جدول الدالة التالي، ثم أوجد المجال والمدى؟

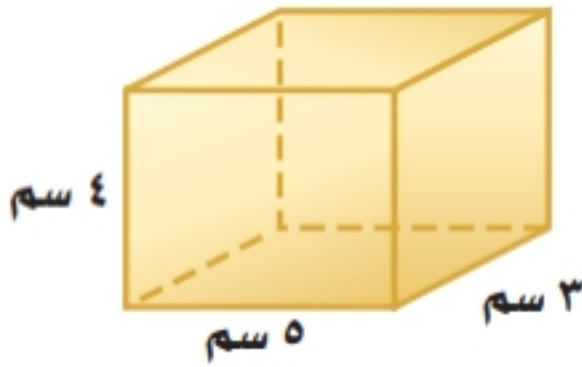
د (س)	س + ٣	س
		٤-
		٢-
		٣
		٥

(ب) أوجد حل المتباينة التالية ومثل الحل بيانياً ، وتحقق من صحة الحل.

$$٥ > ١٥$$



(ج) أوجد المساحة الجانبية والكلية لسطح المكعب التالي؟



انتهت الأسئلة،،  
بالتوفيق للجميع.....

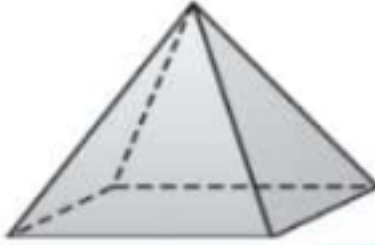
رياضيات	المادة	بسم الله الرحمن الرحيم وزارة التعليم Ministry of Education	المملكة العربية السعودية وزارة التعليم إدارة التعليم بمحافظة مدرسة
الاول	الدور		
ثاني متوسط	الصف		
ساعتان	الزمن		
١٤٤٤هـ	العام الدراسي		

اسم الطالبة	رقم الجلوس	السؤال الأول	السؤال الثاني	السؤال الثالث	المجموع
رقم السؤال	الدرجة				

## نموذج إجابة

السؤال الأول: اختر الإجابة الصحيحة

٢٠

يسمى الشكل المجاور:	١
	
أ منشور رباعي    ب منشور ثلاثي    ج هرم رباعي    د هرم ثلاثي	
ما أقل عدد من المشابك نحتاج إليه لتثبيت ٨ قطع من الملابس على حبل الغسيل، إذا علمنا أن كل قطعة تحتاج مشبكين وبإمكاننا تثبيت قطعتين متجاورتين بمشك واحد؟	٢
أ ٦    ب ٨    ج ٩    د ١٢	
تبسيط العبارة ٤ز - ز يساوي:	٣
أ ٥ز    ب -٤ز    ج ١٢ز    د ٣ز	
إذا كان د(س) = ٢س + ٤ ، فإن د(٣) تساوي:	٤
أ ٨    ب ٩    ج ١٠    د ١١	
المعادلة التي تعبر عن الجملة "أكبر من ثلاثة أمثال عدد بمقدار واحد يساوي ٧" هي:	٥
أ ٣ + ١ = ٧    ب ٣ = ٧    ج ٧ + ٣ = ١    د ٣ + ١ = ن	
استعمل خاصية التوزيع في إعادة كتابة العبارة ٢(ب - ٣) :	٦
أ ٦ب    ب ٢ب - ب    ج ٦ + ب    د ٢ب - ٦	
ثلاثة نجارين يصنع كل واحد منهم ثلاثة كراسي في ثلاثة أيام، فإن عدد الكراسي التي يصنعها ٧ نجارين في ٣٠ يوماً إذا عملوا بالمعدل نفسه يساوي:	٧
أ ١١٠ كرسي    ب ٢١٠ كرسي    ج ١٩٠ كرسي    د ٢٠٠ كرسي	
أساس المتتابعة الحسابية ٢، ٦، ١٠، ١٤، ١٨، ..... هو	٨
أ ٤    ب ٧    ج ٨    د ٢٣	
المعاملات في العبارة التالية ٥ن - ٢ن - ٣ + ن هي:	٩
أ ٥، ٣-    ب ٥، ٢-    ج ٣-    د ٥، ٢، ١-	
الحد التالي في المتتابعة الحسابية ٢، ٤، ٦، ٨، ..... هو:	١٠
أ ٢    ب ١١    ج ٩    د ١٠	

ميل سقف الغرفة المجاورة هو:



١١

١٥

د

$\frac{3}{5}$

ج

$\frac{1}{5}$

ب

٥

أ

المتباينة التي تمثلها الشكل التالي هي:



١٢

١ - < ك

د

١ - ≥ ك

ج

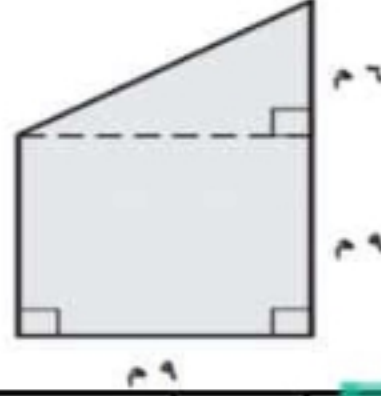
١ - > ك

ب

١ - ≤ ك

أ

مساحة الشكل المركب المجاور:



١٣

٢٩٩ م<sup>٢</sup>

د

١٠ م<sup>٢</sup>

ج

١٠٨ م<sup>٢</sup>

ب

٢٩ م<sup>٢</sup>

أ

حل المتباينة:  $٧ \geq ٣ + س$

١٤

١٠ < س

د

٤ ≥ س

ج

٤ > س

ب

١٠ > س

أ

قاعدة الدالة المجاورة هي:

س	د (س)
٥-	٩-
١-	٥-
٣	١-
٧	٣

١٥

د (س) = ٤س

د

د (س) = ٤ + س

ج

د (س) = ٤س -

ب

د (س) = س - ٤

أ

يبيع محل خضار ٦ برتقالات بـ ١٢ ريالاً، فما ثمن ١٠ برتقالات؟

١٦

٣٤ ريالاً

د

١٥ ريالاً

ج

٢٤ ريالاً

ب

٢٠ ريالاً

أ

عبارة تستعمل لإيجاد الحد النوني للمتتابعة (٢، ٥، ٨، ١١، .....)

١٧

١ + ٢ن

د

١ - ٢ن

ج

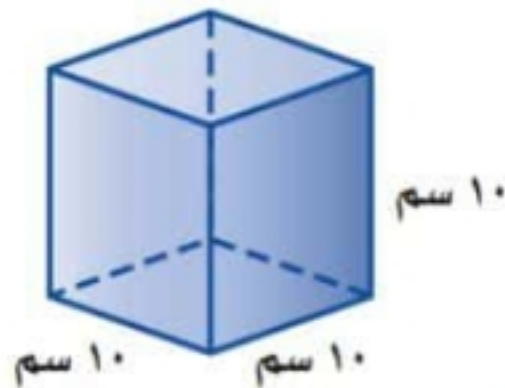
١ + ٣ن

ب

١ - ٣ن

أ

أوجد حجم المنشور في الشكل المجاور



١٨

١٠٠ سم<sup>٣</sup>

د

١٠٠٠ سم<sup>٣</sup>

ج

١٠ سم<sup>٣</sup>

ب

٧٢ سم<sup>٣</sup>

أ

الحد الثامن في المتتابعة (١٩، ٢١، ٢٣، ٢٥، .....)

١٩

٣٠

د

٢٩

ج

٢٨

ب

١١

أ

حل المعادلة:  $٧ = ٥ - س \frac{2}{3}$

٢٠

١٨

د

١٠

ج

٦


ب

٢

أ



تابع

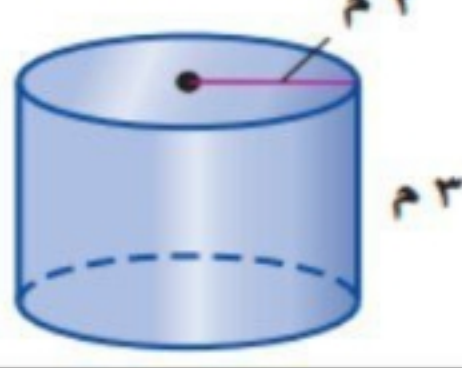
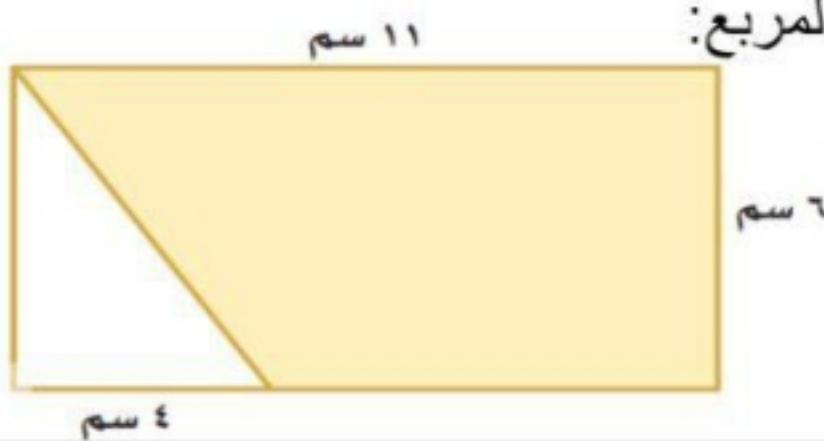


## السؤال الثاني:

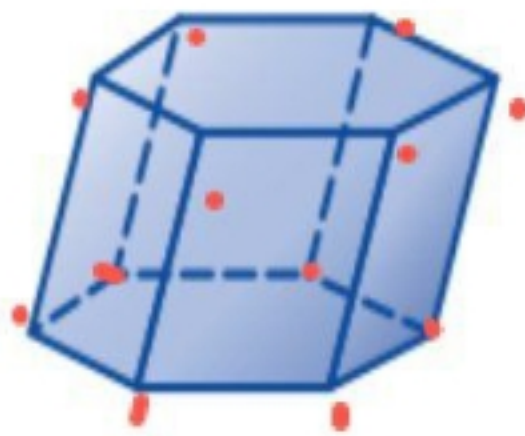
(أ) ضع علامة (✓) أمام العبارة الصحيحة، وعلامة (x) أمام العبارة الخاطئة فيما يلي:

١	الشكل المركب يتكون من شكلين بسيطين أو أكثر.	✓
٢	المخروط مجسم قاعدته دائريتان متطابقتان ومتوازيان متصلتان معاً بجانب منحنى.	x
٣	المعادلة التي تمثل حلولها بيانياً بخط مستقيم تسمى دالة خطية	✓
٤	الحجم هو قياس الحيز الذي يشغله الجسم في الفضاء ويقاس بالوحدات المكعبة.	✓
٥	المتتابعة التي حدها النوني $n^2$ تمثل متتابعة حسابية.	✓

(ب) صل من العمود (الأول) ما يناسبه من العمود (الثاني)

العمود (ب)	العمود (أ)
٤٥	١- الحد الثابت في العبارة $8x + 4$ هو
٣٧,٧	٢- ميل المستقيم المار بالنقطتين (٥، ٣)، (٦، ٢) يساوي:
١-	٣- المساحة الجانبية لسطح الأسطوانة (مقرب الجواب لأقرب جزء من عشرة):
٦٦	
٤	٤- حل المعادلة $17 + 10 = 12$
٢-	٥- مساحة المنطقة المظلة بالسنتيمتر المربع:
٢	

(ج) حدد اسم الجسم التالي وأذكر عدد أوجهه وأحرفه ورؤوسه؟



اسم الشكل: **مستطوي السطح** عدد أوجهه: **٨**  
 عدد رؤوسه: **٨** عدد أوجهه: **٨**



تابع

٣

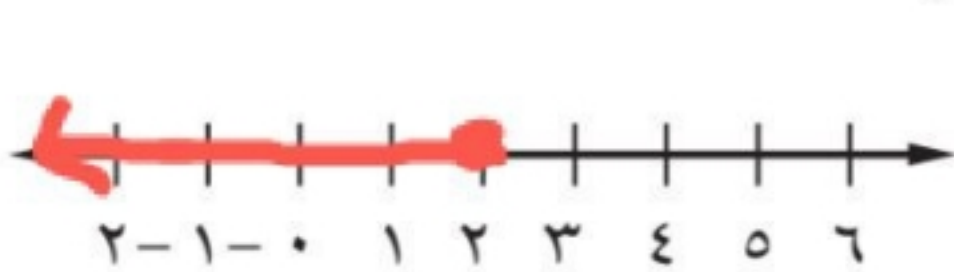
غية عطاءمة

(أ) أكمل جدول الدالة التالي، ثم أوجد المجال والمدى؟

س	٤س+٣	د (س)
٤-	٢٠	١٢-
٢-	١٠	٥-
٣	١٥	١٥
٥	٢٣	٢٣

المجال:  $\{-6, -5, -4, -3, -2, -1, 0, 1, 2, 3, 4, 5, 6, 7, 8, 9, 10, 11, 12, 13, 14, 15, 16, 17, 18, 19, 20, 21, 22, 23, 24, 25, 26, 27, 28, 29, 30, 31, 32, 33, 34, 35, 36, 37, 38, 39, 40, 41, 42, 43, 44, 45, 46, 47, 48, 49, 50, 51, 52, 53, 54, 55, 56, 57, 58, 59, 60, 61, 62, 63, 64, 65, 66, 67, 68, 69, 70, 71, 72, 73, 74, 75, 76, 77, 78, 79, 80, 81, 82, 83, 84, 85, 86, 87, 88, 89, 90, 91, 92, 93, 94, 95, 96, 97, 98, 99, 100\}$ المدى:  $\{12, 5, 15, 23\}$ 

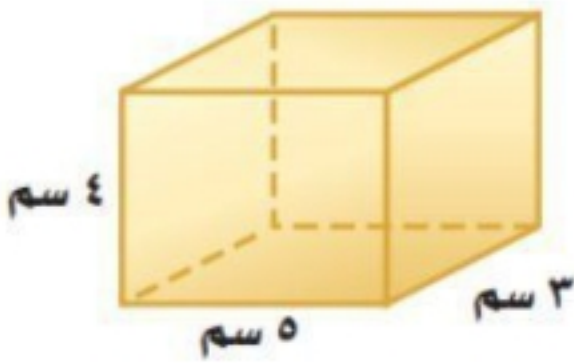
(ب) أوجد حل المتباينة التالية ومثل الحل بيانياً ، وتحقق من صحة الحل.



$$\frac{5}{5} > \frac{15}{5}$$

$$س > ٣$$

(ج) أوجد المساحة الجانبية والكلية لسطح المكعب التالي؟

المساحة الجانبية ج =  $٤ \times ١٦ = ٦٤$  سم مربعالمساحة الكلية ك =  $٦٤ + ٣٠ = ٩٤$  سم مربع

انتهت الأسئلة،،،

بالتوفيق للجميع.....

غي عطاء مة

اختبار الفصل الدراسي الثالث ( الدور الأول ) لعام 1443هـ

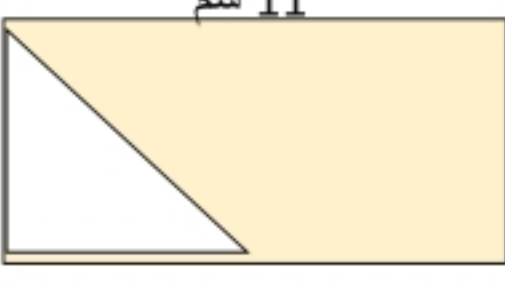
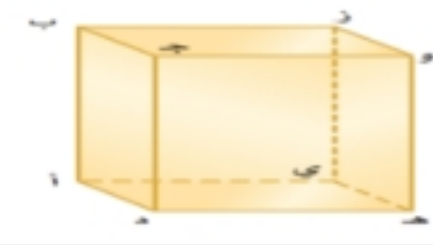

اسم الطالب : .....

اسم المراجع	اسم المصحح	الدرجة كتابة	المجموع	س1	س2
التوقيع	التوقيع	أربعون درجة فقط	40	20	20

السؤال الأول : حددي أي العبارات التالية صحيحة واي منها خاطئة : 15 درجات

1.	يتكون الشكل المركب من شكلين بسيطين أو أكثر	أ	العبارة صحيحة	ب	العبارة خاطئة
2.	المساحة الكلية لسطح منشور تساوي مح ع + م	أ	العبارة صحيحة	ب	العبارة خاطئة
3.	إذا تساوى حجما منشورين مستطيلين فإنه يكون لهما المساحة الكلية نفسها	أ	العبارة صحيحة	ب	العبارة خاطئة
4.	تسمى المعادلة التي تمثل حلولها بيانيا بخط مستقيم دالة خطية	أ	العبارة صحيحة	ب	العبارة خاطئة
5.	$2 - (س + 5) = 2س - 10$	أ	العبارة صحيحة	ب	العبارة خاطئة
6.	في العبارة : $9ل - 5 - 13ل + 4$ ، المعاملات هي : $4+$ ، $5-$	أ	العبارة صحيحة	ب	العبارة خاطئة
7.	" يمكن لمستويين في الفضاء أن يتقاطعا في نقطة "	أ	العبارة صحيحة	ب	العبارة خاطئة
8.	عند مضاعفة جميع أبعاد المنشور المستطيلي فإن حجمه يتضاعف إلى ثمانية أمثال حجمه السابق.	أ	العبارة صحيحة	ب	العبارة خاطئة
9.	يمكن إعادة كتابة العبارة $2(ج + 6)$ باستعمال خاصية التوزيع على الصورة $2ج + 8$ .	أ	العبارة صحيحة	ب	العبارة خاطئة
10.	$2(س - 1) + 3(س - 1) = 5(س - 1)$	أ	العبارة صحيحة	ب	العبارة خاطئة
11.	معامل الحد س في العبارة $3س + 1$ هو 1	أ	العبارة صحيحة	ب	العبارة خاطئة
12.	حل المعادلة $8,5 - 3ز = 8ز - 1,7$	أ	العبارة صحيحة	ب	العبارة خاطئة
13.	حل المعادلة $8 + 4س = 5س$ هو $س = 8$	أ	العبارة صحيحة	ب	العبارة خاطئة
14.	المتتابعة 30 ، 26 ، 22 ، 18 ، 14 ، ..... هي متتابعة حسابية .	أ	العبارة صحيحة	ب	العبارة خاطئة
15.	المتتابعة التي حدها النوني هو $2ن - 3$ هي متتابعة حسابية .	أ	العبارة صحيحة	ب	العبارة خاطئة

السؤال الثاني: اختاري الإجابة الصحيحة فيما يلي : 25 درجة

1	أ	الهزم	ب	الأسطوانة	ج	المخروط	د	المنشور
2	ما حجم منشور مكعب طول ضلعه 10 سم يساوي							
	أ	10 سم <sup>3</sup>	ب	100 سم <sup>3</sup>	ج	1000 سم <sup>3</sup>	د	10000 سم <sup>3</sup>
3	ثلاثة نجارين يصنع كل واحد منهم ثلاثة كراسي في ثلاثة أيام ، فكم كرسيًا يمكن لـ 7 نجارين أن يصنعوا في 30 يومًا ، إذا عملوا بالمعدل نفسه .							
	أ	200	ب	205	ج	210	د	220
4	ما المساحة المظللة في الشكل التالي							
								
	أ	54 سم	ب	64 سم	ج	74 سم	د	84 سم
5	حدد نقطتين يمكن رسم قطر بينهما							
								
	أ	ز ، د	ب	ج ، د	ج	و ، هـ	د	أ ، ي
6	يحسب حجم الأسطوانة بالقانون							
	أ	طنق ع	ب	طنق <sup>2</sup> ع	ج	ط ع	د	نق ع
7	المساحة الجانبية لسطح المنشور المجاور تساوي							
								
	أ	44 سم <sup>2</sup>	ب	54 سم <sup>2</sup>	ج	64 سم <sup>2</sup>	د	74 سم <sup>2</sup>
8	حل المعادلة الآتية : $20 = 3س + 2س$							
	أ	س = 4	ب	س = 5	ج	س = 6	د	س = 7
9	حل المتباينة الآتية : $2 \geq \frac{س}{3}$							
	أ	س < 8	ب	س > 12	ج	س ≤ 3	د	س ≥ 6
10	بسّط العبارة الآتية : $2ن + 2ن - 9$							
	أ	$10 - 2ن$	ب	$13ب$	ج	9	د	$9 + 4ن$
11	أي المتباينات الآتية تعبر عن الجملة: لا بد أن يكون عمرك أكبر من 18 سنة حتى تقود السيارة							
	أ	س < 18	ب	س > 18	ج	س ≤ 18	د	س ≥ 18
12	باستعمال خاصية التوزيع العبارة التي تكافئ $2(ن+7)$							
	أ	$14+ن$	ب	$14+2ن$	ج	14	د	$4ن+5$
13	المعادلة التي تمثل الجملة : أقل من خمسة أمثال عدد ما بمقدار ثلاثة يساوي -12							
	أ	$5 - 3 = 12 -$	ب	$5 + 3 = 12 -$	ج	$5 + (12 -) = 3$	د	$5 - 3 = 5ن$

تابع السؤال الثاني : اختاري الإجابة الصحيحة فيما يلي :

ما المتباينة التي يمثلها الشكل



14

أ  $s < -1$  ب  $s > -1$  ج  $s \leq -1$  د  $s \geq -1$

حل المتباينة الآتية :  $7 - s \geq 49$

15

أ  $s < 49$  ب  $s > 7$  ج  $s \leq 7$  د  $s \geq 49$

بين إذا كانت المتباينة 17، 12، 7، 2، 3-، ... حسابية أم لا و إذا كانت كذلك كم أساسها :

16

أ حسابية أساسها 5- ب ليست حسابية ج حسابية أساسها 5 د حسابية أساسها 2-

بين ما إذا كانت المتباينة 17 التي حدها النوني 4 ن - 1 حسابية أم لا و إذا كانت كذلك كم أساسها :

17

أ حسابية أساسها 7 ب حسابية أساسها 4 ج حسابية أساسها 4- د ليست حسابية

ما العبارة التي تمثل الحد النوني في المتباينة الموضحة في الجدول الآتي :

الترتيب	1	2	3	4	ن
قيمة الحد	3	5	7	9	9

18

أ  $2 + n$  ب  $2n$  ج  $2n + 1$  د  $3n$

أوجد قيمة د (9) إذا كان د (س) =  $5 - s$

19

أ 2 ب 4 ج 7 د 9

أوجد قيمة د (-3) إذا كان د (س) =  $2s + 1$

20

أ -2 ب -4 ج -3 د -5

أذكر مجال الدالة للجدول المجاور :

المدخلة	القاعدة	المخرجة
س	د (س) = $s + 5$	د (س)
2-	$5 + 2 = 7$	د (2-) = 3
1-	$5 + 1 = 6$	د (1-) = 4
0	$5 + 0 = 5$	د (0) = 5
1	$5 + 1 = 6$	د (1) = 6

21

أ { 1، 0، 1-، 2- } ب { 6، 5، 4، 3 } ج { 1-، 2- } د { 1، 0، 5، 2- }

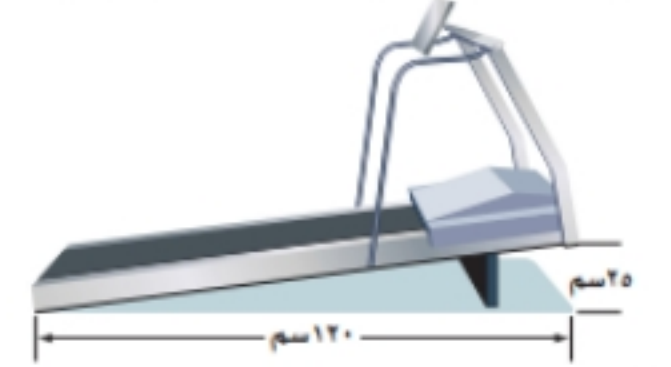
أذكر مدى الدالة للجدول المجاور :

المدخلة	القاعدة	المخرجة
س	د (س) = $s + 5$	د (س)
2-	$5 + 2 = 7$	د (2-) = 3
1-	$5 + 1 = 6$	د (1-) = 4
0	$5 + 0 = 5$	د (0) = 5
1	$5 + 1 = 6$	د (1) = 6

22

أ { 1، 0، 1-، 2- } ب { 6، 5، 4، 3 } ج { 1-، 2- } د { 1، 0، 5، 2- }

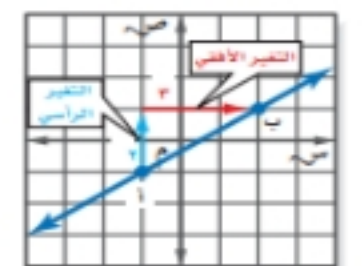
أوجد ميل جهاز المشي المجاور :



23

أ  $24 \div 2$  ب  $24 \div 3$  ج  $24 \div 5$  د  $24 \div 4$

أوجد ميل المستقيم باستعمال الرسم :



24

أ  $6 \div 2$  ب  $5 \div 2$  ج  $3 \div 2$  د  $4 \div 2$

أوجد ميل المستقيم باستعمال الجدول الآتي :

س	1	3	5	7
ص	12	9	6	3

25

أ  $5 \div 3-$  ب  $3-$  ج  $4 \div 3-$  د  $2 \div 3-$



اختبار الفصل الدراسي الثالث ( الدور الأول ) لعام 1443هـ  
الإجابة النموذجية

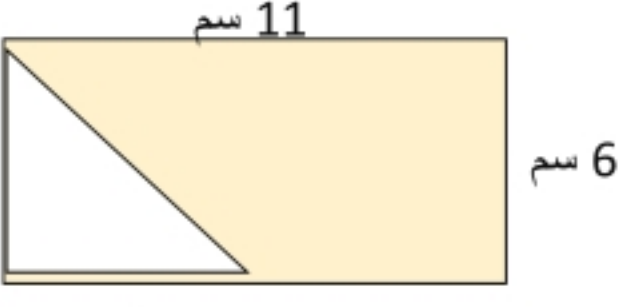

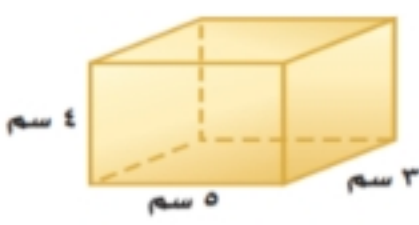
اسم المراجع	اسم المصحح	المجموع	س1	س2
التوقيع	التوقيع	40	20	20

**نموذج إجابة**

**السؤال الأول : حددي أي العبارات التالية صحيحة واي منها خاطئة : 15 درجات**

1.	يتكون الشكل المركب من شكلين بسيطين أو أكثر	أ	العبارة صحيحة	ب	العبارة خاطئة
2.	المساحة الكلية لسطح منشور تساوي مح ع + م	أ	العبارة صحيحة	ب	العبارة خاطئة
3.	إذا تساوى حجما منشورين مستطيلين فإنه يكون لهما المساحة الكلية نفسها	أ	العبارة صحيحة	ب	العبارة خاطئة
4.	تسمى المعادلة التي تمثل حلولها بيانيا بخط مستقيم دالة خطية	أ	العبارة صحيحة	ب	العبارة خاطئة
5.	$2 - (س + 5) = 2س - 10$	أ	العبارة صحيحة	ب	العبارة خاطئة
6.	في العبارة : $9 - 5 - 13 + 4$ ، المعاملات هي : $4+ ، 5-$	أ	العبارة صحيحة	ب	العبارة خاطئة
7.	" يمكن لمستويين في الفضاء أن يتقاطعا في نقطة "	أ	العبارة صحيحة	ب	العبارة خاطئة
8.	عند مضاعفة جميع أبعاد المنشور المستطيلي فإن حجمه يتضاعف إلى ثمانية أمثال حجمه السابق.	أ	العبارة صحيحة	ب	العبارة خاطئة
9.	يمكن إعادة كتابة العبارة $2(ج + 6)$ باستعمال خاصية التوزيع على الصورة $2ج + 8$ .	أ	العبارة صحيحة	ب	العبارة خاطئة
10.	$2(س - 1) + 3(س - 1) = 5(س - 1)$	أ	العبارة صحيحة	ب	العبارة خاطئة
11.	معامل الحد س في العبارة $3س + 1$ هو 1	أ	العبارة صحيحة	ب	العبارة خاطئة
12.	حل المعادلة $8,5 - 3ز = 8ز - 1,7$	أ	العبارة صحيحة	ب	العبارة خاطئة
13.	حل المعادلة $8 + 4س = 5س$ هو $س = 8$	أ	العبارة صحيحة	ب	العبارة خاطئة
14.	المتتابعة 30 ، 26 ، 22 ، 18 ، 14 ، ..... هي متتابعة حسابية .	أ	العبارة صحيحة	ب	العبارة خاطئة
15.	المتتابعة التي حدها النوني هو $2ن - 3$ هي متتابعة حسابية .	أ	العبارة صحيحة	ب	العبارة خاطئة

## السؤال الثاني: اختاري الإجابة الصحيحة فيما يلي : 25 درجة

1	أ	الهرم	ب	الأسطوانة	ج	المخروط	د	المنشور
2	أ	10 سم <sup>3</sup>	ب	100 سم <sup>3</sup>	ج	1000 سم <sup>3</sup>	د	10000 سم <sup>3</sup>
3	أ	200	ب	205	ج	210	د	220
4	ما المساحة المظللة في الشكل التالي							
								
	أ	54 سم	ب	64 سم	ج	74 سم	د	84 سم
5	حدد نقطتين يمكن رسم قطر بينهما							
								
	أ	ز، د	ب	ج، د	ج	و، هـ	د	أ، ي
6	يحسب حجم الأسطوانة بالقانون							
	أ	طنق ع	ب	طنق <sup>2</sup> ع	ج	طع	د	نق ع
7	المساحة الجانبية لسطح المنشور المجاور تساوي							
								
	أ	44 سم <sup>2</sup>	ب	54 سم <sup>2</sup>	ج	64 سم <sup>2</sup>	د	74 سم <sup>2</sup>
8	حل المعادلة الآتية : $20 = 3س + 2س$							
	أ	س = 4	ب	س = 5	ج	س = 6	د	س = 7
9	حل المتباينة الآتية : $2 \geq \frac{س}{3}$							
	أ	س < 8	ب	س > 12	ج	س ≤ 3	د	س ≥ 6
10	بسّط العبارة الآتية : $9 - 2ن + 2ن$							
	أ	$10 - 2ن$	ب	13ب	ج	9	د	$9 + 4ن$
11	أي المتباينات الآتية تعبر عن الجملة: لا بد أن يكون عمرك أكبر من 18 سنة حتى تقود السيارة							
	أ	س < 18	ب	س > 18	ج	س ≤ 18	د	س ≥ 18
12	باستعمال خاصية التوزيع العبارة التي تكافئ $2(ن+7)$							
	أ	$14+ن$	ب	$14+2ن$	ج	14	د	$4ن+5$
13	المعادلة التي تمثل الجملة : أقل من خمسة أمثال عدد ما بمقدار ثلاثة يساوي -12							
	أ	$5 - 3 = 12 - س$	ب	$5 + 3 = 12 - س$	ج	$5 + (12 - س) = 3$	د	$5 - 3 = 5 - س$

تابع السؤال الثاني : اختاري الإجابة الصحيحة فيما يلي :

ما لمتباينة التي يمثلها الشكل



14

أ  $s < -1$  ب  $s > -1$  ج  $s \leq -1$  د  $s \geq -1$

حل المتباينة الآتية :  $7 - s \geq 49$

15

أ  $s < 49$  ب  $s > 7$  ج  $s \leq 7$  د  $s \geq 49$

بين إذا كانت المتتابعة  $17, 12, 7, 2, -3, \dots$  حسابية أم لا و إذا كانت كذلك كم أساسها :

16

أ  $5$  حسابية أساسها ب ليست حسابية ج  $5$  حسابية أساسها د  $2$  حسابية أساسها

بين ما إذا كانت المتتابعة  $17$  التي حدها النوني  $4$  ن  $1$  حسابية أم لا و إذا كانت كذلك كم أساسها :

17

أ  $7$  حسابية أساسها ب  $4$  حسابية أساسها ج  $4$  حسابية أساسها د ليست حسابية

ما العبارة التي تمثل الحد النوني في المتتابعة الموضحة في الجدول الآتي :

الترتيب	١	٢	٣	٤	ن
قيمة الحد	٣	٥	٧	٩	٩

18

أ  $2 + n$  ب  $2n$  ج  $2n + 1$  د  $3n$

أوجد قيمة  $d$  (9) إذا كان  $d$  (س)  $= 5 - s$

19

أ  $2$  ب  $4$  ج  $7$  د  $9$

أوجد قيمة  $d$  (3-) إذا كان  $d$  (س)  $= 2s + 1$

20

أ  $2-$  ب  $4-$  ج  $3-$  د  $5-$

أذكر مجال الدالة للجدول المجاور :

المدخلة	القاعدة	المخرجة
س	$d(س) = 5 + s$	$d(س)$
$2-$	$5 + 2-$	$3 = (2-)d$
$1-$	$5 + 1-$	$4 = (1-)d$
$0$	$5 + 0$	$5 = (0)d$
$1$	$5 + 1$	$6 = (1)d$

21

أ  $\{ 1, 0, 1-, 2- \}$  ب  $\{ 6, 5, 4, 3 \}$  ج  $\{ 1-, 2- \}$  د  $\{ 1, 0, 5, 2- \}$

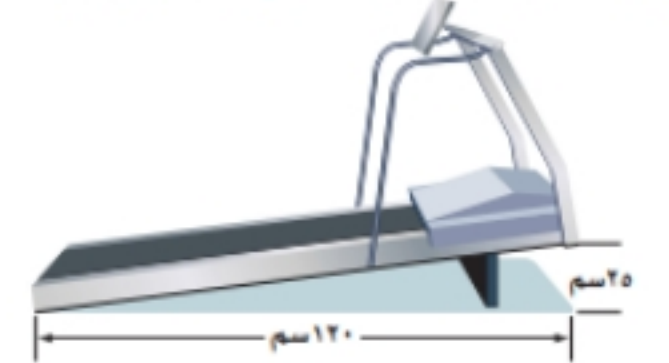
أذكر مدى الدالة للجدول المجاور :

المدخلة	القاعدة	المخرجة
س	$d(س) = 5 + s$	$d(س)$
$2-$	$5 + 2-$	$3 = (2-)d$
$1-$	$5 + 1-$	$4 = (1-)d$
$0$	$5 + 0$	$5 = (0)d$
$1$	$5 + 1$	$6 = (1)d$

22

أ  $\{ 1, 0, 1-, 2- \}$  ب  $\{ 6, 5, 4, 3 \}$  ج  $\{ 1-, 2- \}$  د  $\{ 1, 0, 5, 2- \}$

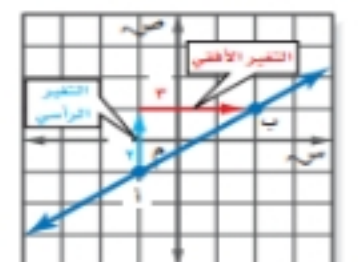
أوجد ميل جهاز المشي المجاور :



23

أ  $24 \div 2$  ب  $24 \div 3$  ج  $24 \div 5$  د  $24 \div 4$

أوجد ميل المستقيم باستعمال الرسم :



24

أ  $6 \div 2$  ب  $5 \div 2$  ج  $3 \div 2$  د  $4 \div 2$

أوجد ميل المستقيم باستعمال الجدول الآتي :

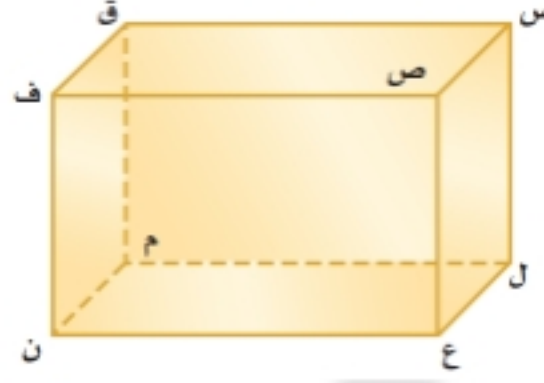
س	١	٣	٥	٧
ص	١٢	٩	٦	٣

25

أ  $5 \div 3-$  ب  $3-$  ج  $4 \div 3-$  د  $2 \div 3-$

اختبار نهائي مادة الرياضيات  
الفصل الدراسي الثالث  
للسف الثاني المتوسط

اختبار نهائي الفصل الدراسي الثالث ( الدور الأول ) لعام ١٤٤٤ هـ المادة : رياضيات زمن الاختبار : ساعتان ونصف		 وزارة التعليم Ministry of Education	المملكة العربية السعودية وزارة التعليم إدارة التعليم بمنطقة الاحساء مكتب التعليم با مدرسة
التوقيع	الاسم	درجة فقط	الدرجة كتابة
		المصحح والمراجع	الدرجة رقماً
			٤٠ /



١ - نقطتين تشكلان قطعاً عند الوصل بينهما :

- (أ) س ق (ب) س ن (ج) س ل (د) س ص

٢ - يتكون من شكلين بسيطين او اكثر هو :

- (أ) المجسم (ب) الشكل المركب (ج) الأسطوانة (د) المساحة

٣ - المساحة الجانبية لسطح هذا المنشور :



- (أ) ٣٢ (ب) ٦٤ (ج) ١٢ (د) ٨

٤ - تبسيط العبارة التالية :  $٣هـ + ٦هـ$  هو :

- (أ) ٨هـ (ب) ٧هـ (ج) ٩هـ (د) ٥هـ

٥ - حل المعادلة التالية :  $٢ج + ١٨ = ٣٠$  هو :

- (أ) ٢ (ب) ٤ (ج) ٦ (د) ٨

٦ - عند أستعمل خاصية التوزيع للعبارة التالية :  $٨(س - ٢)$ 

- (أ) ٨س - ٦ (ب) ٨س - ١٠ (ج) ٨س - ١٦ (د) ٨س + ١٦

٧ - الحد النوني في المتتابعة الحسابية : ٤ ، ٨ ، ١٢ ، ١٦ ، .....

- (أ) ن (ب) ٤ن (ج) ن + ٤ (د) ن - ٤

٨ - المتباينة المناسبة للجملة التالية ، يجب ألا تقل درجتك عن ٨ درجات حتى تنجح في الاختبار :

- (أ)  $٨ > ج$  (ب)  $٨ \leq ج$  (ج)  $٨ < ج$  (د)  $٨ \geq ج$

٩ - أساس المتتابعة الحسابية التالية : ٦ ، ٨ ، ١٠ ، ١٢ ، ١٤

- (أ) ٣- (ب) ٤- (ج) ٢- (د) ١-

١٠ - تسمى المعادلة التي تمثل حلولها بيانياً بخط مستقيم :

- (أ) دالة خطية (ب) زوج مرتب (ج) مستوى احداثي (د) الميل

١١ - ثمن ٤ علب صابون بـ ٥٠ ريالاً . فما ثمن ٨ علب :

- (أ) ١٠٠ (ب) ٢٠٠ (ج) ٣٠٠ (د) ٤٠٠

١٢ - يزيد على مثلي عدد بمقدار ثلاثة يساوي ١٥ تكتب كما يلي :

- (أ)  $١٥ = ٣ + س$  (ب)  $٣ = ١٥ + س$  (ج)  $١٥ = ٢ + ٣س$  (د)  $١٥ = ٣ + ٢س$

١٣ - قانون مساحة الدائرة =

- (أ)  $٢ \times ط \times نق$  (ب)  $ط \times نق$  (ج)  $ط \times ق$  (د)  $ط \times نق^٢$

١٤ - إذا كان د (س) =  $٣س - ٢$  فإن د(٥)

- (أ) ١١ (ب) ١٢ (ج) ١٣ (د) ١٤

١٥ - أي عبارة من العبارات التالية تنطبق على المخروط :

- (أ) له وجهان ورأس (ب) له رأسان ووجه واحد فقط (ج) له وجهة ورأس واحد فقط (د) له رأس وليس له وجه

٦ / درجات

السؤال الثاني : ضع (✓) أمام العبارة الصحيحة و (✗) أمام العبارة الخاطئة :

( )	المستقيمان المتخالفان لا يقعان في مستوى واحد	١
( )	الأسطوانة ليس لها أحرف	٢
( )	الحد الثابت في العبارة : $٦ن - ٧ - ٤ + ن$ هو - ٤	٣
( )	لإيجاد الميل نكتب التغير الأفقي على التغير الرأسي	٤
( )	المدخلات في الدالة تسمى مدى الدالة	٥
( )	المتتابعة ( ٤ ، ٨ ، ١٠ ، ١٤ ، ١٨ ، ..... ) هي متتابعة حسابية	٦

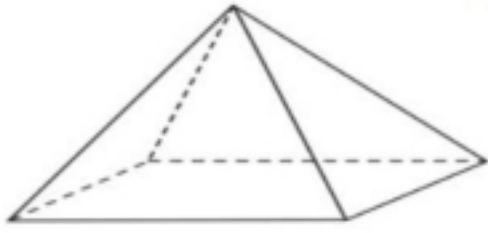
٨ / درجات

٤ / درجات

٢ / درجة - ٢ / درجة

السؤال الثالث :

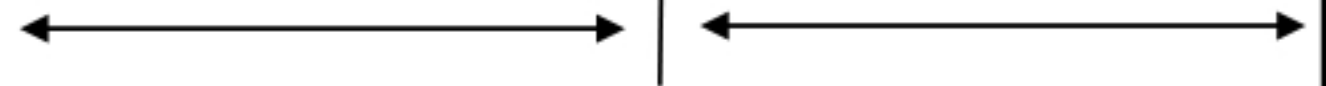
ب) اكمل الفراغات المتعلقة بالمجسم :



اسم المجسم .....  
عدد الأوجه .....  
عدد الأحرف .....  
عدد الرؤوس .....

أ) حل كل متباينة فيما يأتي ، ومثل الحل بيانياً :

أ  $٦ن \geq ٣٠$  ب  $٨ < ١٠ - س$



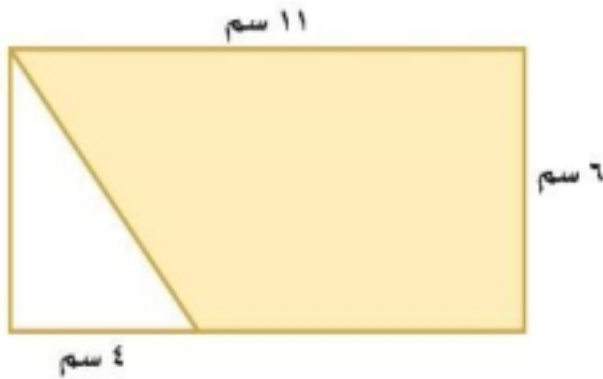
٥ / درجات

٣ / درجة

٢ / درجة

السؤال الرابع :

ب) أوجد مساحة المنطقة المظللة :



أ) أوجد حجم أسطوانة ( ط = ٣,١٤ )

نصف قطرها ٥ م والارتفاع ٤ م .

٦ / درجات

ب) أوجد ميل المستقيم المار بكل زوج

٢ / درجة

السؤال الخامس :

٢ / درجة

أ) بين ما إذا كانت المتباينة التالية صحيحة أم خاطئة عند القيمة المعطاة :

١٤ - ف > ٨ ، ف = ٥

ج) حل المعادلة التالية : ٢ / درجة

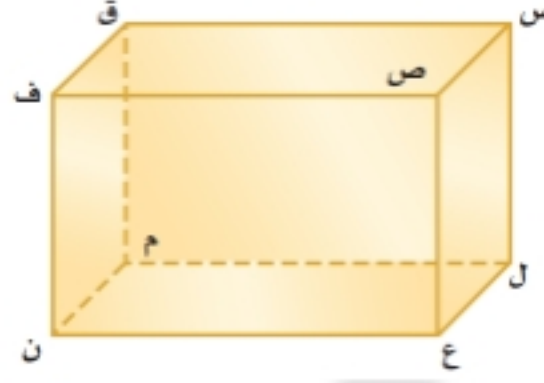
$$٨س - ٧ = ٢س + ٢٣$$

ل ( ١ ، ٢ ) ، ك ( ٤ ، ٣ )

اختبار نهائي مادة الرياضيات  
الفصل الدراسي الثالث  
للسف الثاني المتوسط

اختبار نهائي الفصل الدراسي الثالث ( الدور الأول ) لعام ١٤٤٤ هـ المادة : رياضيات زمن الاختبار : ساعتان ونصف		 وزارة التعليم Ministry of Education	المملكة العربية السعودية وزارة التعليم إدارة التعليم بمنطقة مكتب التعليم با مدرسة
التوقيع	الاسم	درجة فقط	الدرجة كتابة
		المصحح والمراجع	الدرجة رقماً
			٤٠ /

نموذج إجابة



١ - نقطتين تشكلان قطعاً عند الوصل بينهما :

- (أ) س ق (ب) س ن (ج) س ل (د) س ص

٢ - يتكون من شكلين بسيطين او اكثر هو :

- (أ) المجسم (ب) الشكل المركب (ج) الأسطوانة (د) المساحة

٣ - المساحة الجانبية لسطح هذا المنشور :



- (أ) ٣٢ (ب) ٦٤ (ج) ١٢ (د) ٨

٤ - تبسيط العبارة التالية :  $٣هـ + ٦هـ$  هو :

- (أ) ٨هـ (ب) ٧هـ (ج) ٩هـ (د) ٥هـ

٥ - حل المعادلة التالية :  $٢ج + ١٨ = ٣٠$  هو :

- (أ) ٢ (ب) ٤ (ج) ٦ (د) ٨

٦ - عند أستعمل خاصية التوزيع للعبارة التالية :  $٨(س - ٢)$ 

- (أ) ٨س - ٦ (ب) ٨س - ١٠ (ج) ٨س - ١٦ (د) ٨س + ١٦

٧ - الحد النوني في المتتابعة الحسابية : ٤ ، ٨ ، ١٢ ، ١٦ ، .....

- (أ) ن (ب) ٤ن (ج) ن + ٤ (د) ن - ٤

٨ - المتباينة المناسبة للجملة التالية ، يجب ألا تقل درجتك عن ٨ درجات حتى تنجح في الاختبار :

- (أ)  $٨ > ج$  (ب)  $٨ \leq ج$  (ج)  $٨ < ج$  (د)  $٨ \geq ج$

٩ - أساس المتتابعة الحسابية التالية : ٦ ، ٨ ، ١٠ ، ١٢ ، ١٤

- (أ) ٣- (ب) ٤- (ج) ٢- (د) ١-

١٠ - تسمى المعادلة التي تمثل حلولها بيانياً بخط مستقيم :

- (أ) دالة خطية (ب) زوج مرتب (ج) مستوى احداثي (د) الميل

١١ - ثمن ٤ علب صابون بـ ٥٠ ريالاً . فما ثمن ٨ علب :

- (أ) ١٠٠ (ب) ٢٠٠ (ج) ٣٠٠ (د) ٤٠٠

١٢ - يزيد على مثلي عدد بمقدار ثلاثة يساوي ١٥ تكتب كما يلي :

- (أ)  $١٥ = ٣ + س$  (ب)  $٣ = ١٥ + س$  (ج)  $١٥ = ٢ + ٣س$  (د)  $١٥ = ٣ + ٢س$

١٣ - قانون مساحة الدائرة =

- (أ)  $٢ \times ط \times نق$  (ب)  $ط \times نق$  (ج)  $ط \times ق$  (د)  $ط \times نق^٢$

١٤ - إذا كان د (س) =  $٣س - ٢$  فإن د(٥)

- (أ) ١١ (ب) ١٢ (ج) ١٣ (د) ١٤

١٥ - أي عبارة من العبارات التالية تنطبق على المخروط :

- (أ) له وجهان ورأس (ب) له رأسان ووجه واحد فقط (ج) له وجهة ورأس واحد فقط (د) له رأس وليس له وجهة



السؤال الثاني : ضع (✓) أمام العبارة الصحيحة و (✗) أمام العبارة الخاطئة :

٦ / درجات

١	المستقيمان المتخالفان لا يقعان في مستوى واحد	( ✓ )
٢	الأسطوانة ليس لها أحرف	( ✓ )
٣	الحد الثابت في العبارة : $٦ن - ٧ - ٤ + ن$ هو - ٤	( ✓ )
٤	لإيجاد الميل نكتب التغير الأفقي على التغير الرأسي	( ✗ )
٥	المدخلات في الدالة تسمى مدى الدالة	( ✗ )
٦	المتتابعة ( ٤ ، ٨ ، ١٠ ، ١٤ ، ١٨ ، ..... ) هي متتابعة حسابية	( ✗ )

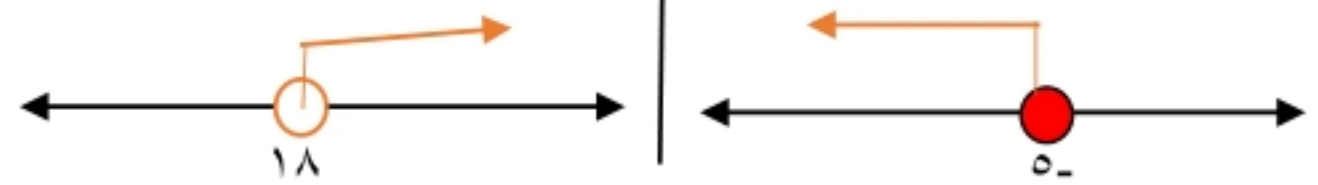
السؤال الثالث :

٢ / درجة - ٢ / درجة

(أ) حل كل متباينة فيما يأتي ، ومثل الحل بيانياً :

أ  $٦ن \geq ٣٠$       ب  $١٠ < ٨$  س

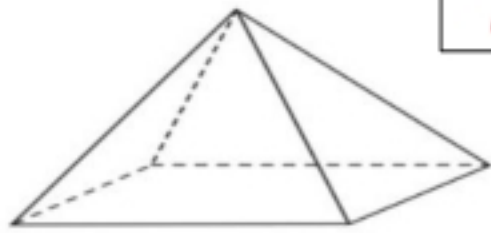
ن = ٥      س = ١٨



٨ / درجات

٤ / درجات

(ب) اكمل الفراغات المتعلقة بالمجسم :



اسم المجسم ..... هرم أو هرم رباعي  
 عدد الأوجه ..... ٥  
 عدد الأحرف ..... ٨  
 عدد الرؤوس ..... ٥

السؤال الرابع :

٢ / درجة

(أ) أوجد حجم أسطوانة ( ط = ٣,١٤ )

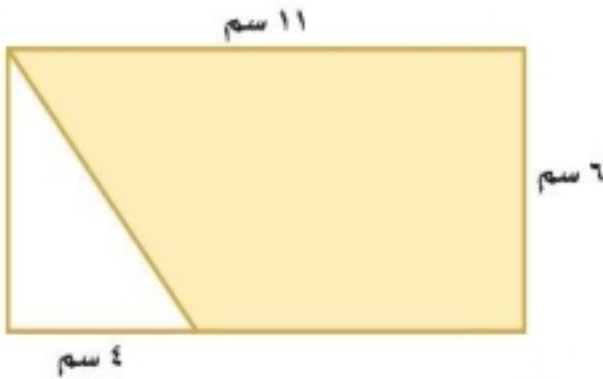
نصف قطرها ٥ م والارتفاع ٤ م .

حجم الأسطوانة =  $٣,١٤ \times ٥ \times ٤ = ٦٢,٨$  م<sup>٣</sup>

٥ / درجات

٣ / درجة

(ب) أوجد مساحة المنطقة المظللة :



مساحة المستطيل =  $١١ \times ٦ = ٦٦$  سم<sup>٢</sup>

مساحة المثلث =  $\frac{١}{٢} \times ٦ \times ٤ = ١٢$  سم<sup>٢</sup>

مساحة المنطقة المظللة =  $٦٦ - ١٢ = ٥٤$  سم<sup>٢</sup>

أو بتطبيق قانون شبه المنحرف تخرج لنا مباشرة المنطقة المظللة = ٥٤ سم<sup>٢</sup>

السؤال الخامس :

٢ / درجة

(أ) بين ما إذا كانت المتباينة التالية صحيحة أم خاطئة عند القيمة المعطاة :

١٤ - ف > ٨ ، ف = ٥

خاطئة

٦ / درجات

(ب) أوجد ميل المستقيم المار بكل زوج من النقاط التالية :

٢ / درجة

ل ( ١ ، ٢ ) ، ك ( ٤ ، ٣ )

$\frac{١}{٣} = م$

(ج) حل المعادلة التالية : ٢ / درجة

٨س - ٧ = ٢س + ٢٣

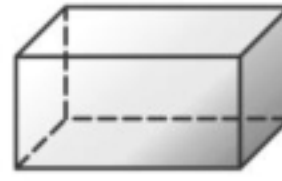
س = ٥

الدرجة كتابية من ٤٠	الدرجة رقما	الزمن : ساعتان	الصف / التوقيع :	أسم الطالب / أسم المصحح:
	٤٠	ونصف	التوقيع :	أسم المدقق:

السؤال الأول: أختَر الإجابة الصحيحة فيما يلي:

١٠ درجات

١ - ما عدد أوجه المجسم أدناه؟



- (أ) ٦ (ب) ٥ (ج) ٤ (د) ٣

٢ - يتكون ..... من شكلين بسيطين أو أكثر:

- (أ) المجسم (ب) الشكل المركب (ج) الأسطوانة (د) المساحة

٣ - تسمى مجموعة قيم المدخلات .....

- (أ) المدى (ب) المجال (ج) الحدود (د) القاعدة

٤ - تبسيط العبارة التالية  $٣هـ + ٦هـ$  هو:

- (أ) ٨هـ (ب) ٧هـ (ج) ٩هـ (د) ٥هـ

٥ - حل المعادلة التالية  $٢ج + ١٨ = ٣٠$  هو:

- (أ) ٨ (ب) ٦ (ج) ٤ (د) ٢

٦ - أستعمل خاصية التوزيع لكتابة العبارة التالية  $٨(س - ٢) =$

- (أ) ٨س - ٦ (ب) ٨س - ١٠ (ج) ٨س - ١٦ (د) ٨س + ١٦

٧ - هو مجسم قاعدته الوحيدة مضلع وواجهه مثلثات:

- (أ) الأسطوانة (ب) الهرم (ج) المنشور (د) المخروط

٨ - اكتب متباينة للجملة التالية ، لا نقل التكلفة عن ٥٠ ريالاً:

- (أ)  $٥٠ > ج$  (ب)  $٥٠ \leq ج$  (ج)  $٥٠ < ج$  (د)  $٥٠ \geq ج$

٩ - أوجد أساس المتتابعة الحسابية التالية: ١٤، ١٢، ١٠، ٨، ٦، .....  
(أ) ٣- (ب) ٤- (ج) ٢- (د) ١-

١٠ - تسمى المعادلة التي تمثل حلولها بيانياً بخط مستقيم:

- (أ) دالة خطية (ب) زوج مرتب (ج) مستوى احداثي (د) القاعدة

السؤال الثاني: ضع علامة ( ✓ ) وعلامة ( × ) أمام العبارات التالية:

- ١- الحجم هو قياس الحيز الذي يشغله الجسم في الفضاء . ( )  
٢- المتتابعة هي مجموعة مرتبة من الأعداد يسمى كل عدد فيها حداً ( )  
٣- العلاقة التي تعطي مخرجة واحدة فقط لكل مدخله تسمى دالة. ( )  
٤- يسمى المستقيمان اللذان لا يتقاطعان ولا يقعان في المستوى نفسه مستقيمين متخالفين . ( )  
٥- المنشور مجسم قاعدته دائرتان متطابقتان ومتوازيتان متصلتان معا بجانب منحني. ( )  
٦- الميل هي نسبة التغير الرأسي الى التغير الأفقي. ( )  
٧- المتتابعة الحسابية هي متتابعة يكون الفرق بين أي حديين متتالين فيها ثابتا . ( )  
٨- الأسطوانة مجسم قاعدته الوحيدة مضلع وواجهه مثلثات. ( )

٨ درجات

أقلب الورقة

### السؤال الثالث:

أ) حل كل متباينة فيما يأتي ، وتحقق من الحل: ٤ درجات

١ ك - ١٤ > ٨

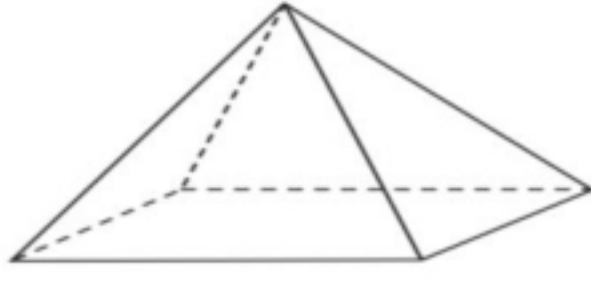
.....  
.....

٢ ٦ - ن ≥ ٣٠

.....  
.....

٨ درجات

ب) حدد اسم المجسم التالي وبين عدد أوجهه وأحرفه ورؤوسه: ٤ درجات

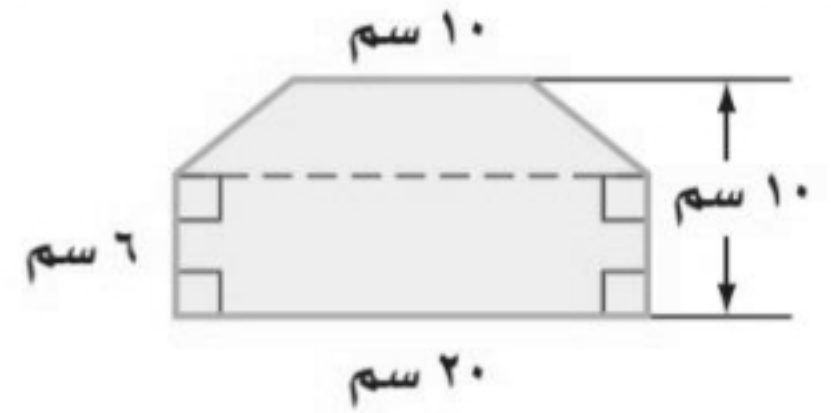


اسم المجسم .....  
عدد الأوجه .....

عدد الأحرف .....  
عدد الرؤوس .....

### السؤال الرابع:

أ) أوجد مساحة الشكل المركب التالي : ٤ درجات



.....  
.....  
.....  
.....

٨ درجات

ب) أوجد قيمة كل دالة فيما يأتي: ٤ درجات

١ د (-٦) إذا كان د (س) = ٧ + ٤س

.....  
.....

٢ د (٥) إذا كان د (س) = ٣س - ٢

.....  
.....

### السؤال الخامس:

٢ درجتان

١) أوجد ميل المستقيم المار بكل زوج من النقاط التالية:

أ (-٢ ، ٥) ، ب (٢ ، ٣)

.....  
.....  
.....

٢ درجتان

٢) بين ما اذا كانت المتباينة التالية صحيحة أم خاطئة:

١٤ - ف > ٨ ، ف = ٥

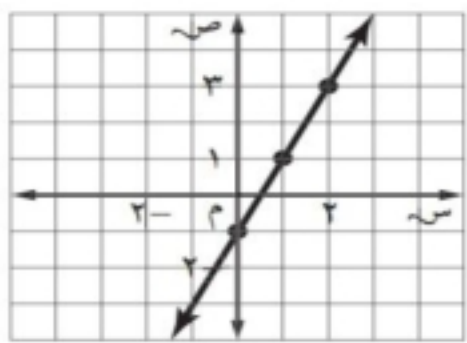
.....  
.....  
.....

٦ درجات

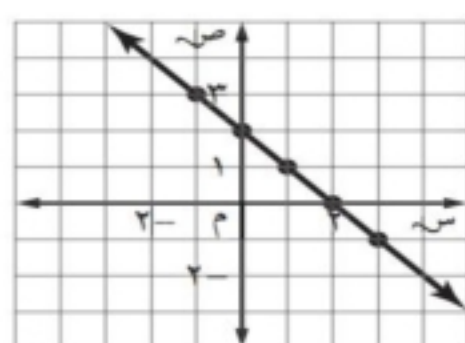
٢ درجتان

٣) اختر الإجابة الصحيحة:

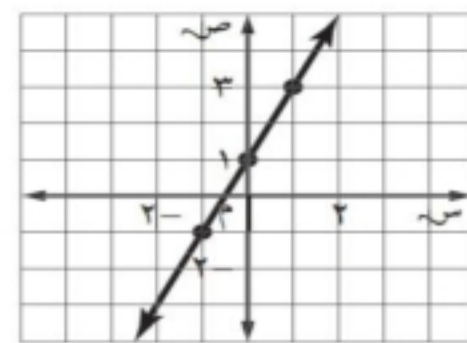
أي مستقيم مما يأتي يمثل المعادلة ص = ٢س - ١



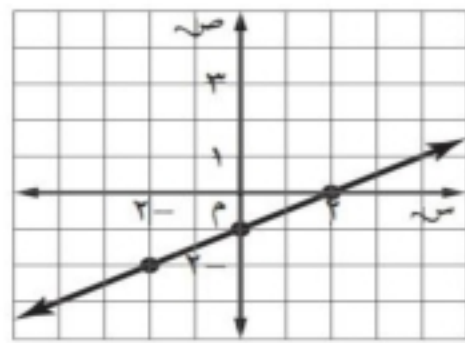
(ج)



(د)



(ب)



(أ)

معلم المادة / اسامه

تمنياتي لكم بالتوفيق والنجاح الدائم